



فصل ۱

مجموعه‌هاک متناهی و نامتناهی

در سال گذشته، با مفهوم مجموعه آشنا شدیم. در این جا قصد داریم، مفاهیم جدید و کاربردی تری در مورد مجموعه‌ها معرفی کنیم. مجموعه‌هایی که می‌شناسیم و از آن‌ها بسیار استفاده می‌شود، را دوباره معرفی می‌کنیم. لازم است که این مجموعه‌ها را همواره به یاد داشته باشیم و رابطه‌ای بین آن‌ها را بدانیم.

مجموعه‌ی اعداد

$$\mathbb{N} = \{1, 2, 3, 4, \dots\}$$

طبیعی

مجموعه‌ی اعداد

$$\mathbb{W} = \{0, 1, 2, 3, 4, \dots\}$$

حسابی

مجموعه‌ی اعداد

$$\mathbb{Z} = \{\dots, -2, -1, 0, 1, 2, \dots\}$$

صحیح

مجموعه‌ی اعداد

$$\mathbb{Q} = \left\{ \frac{m}{n} \mid m, n \in \mathbb{Z}, n \neq 0 \right\}$$

گویا

مجموعه‌ی اعداد

مجموعه‌ی اعداد حقیقی، که نمی‌شود آن‌ها را به صورت کسر متعارفی

گنگ

نوشت $\mathbb{Q}' = \mathbb{Q}$

مجموعه‌ی اعداد

$$\mathbb{R} = \mathbb{Q} \cup \mathbb{Q}'$$

حقیقی

International Scientific League of PAYA2017

بزرگترین رقابت علمی گروهی کشور و پنجمین دوره مسابقات دانش آموزی جهان اسلام در ایران

از پایه ششم ابتدایی تا دهم رشته‌های علوم پایه، علوم ریاضی، علوم تجربی، علوم انسانی، علوم کامپیوتر- برنامه نویسی و پژوهشی

تلفن: ۰۲۱-۶۶۱۲۸۰۳۱ - ۰۲۵-۶۶۱۲۸۰۳۵ - ۰۲۸۴-۶۶۱۲۹۲۸۴

www.Payaleague.ir

[Telegram.me/payaleague](https://t.me/payaleague)



باتوجه به مطالب نوشته شده، مشخص است که رابطه‌ی زیر بین مجموعه‌های بالا برقرار است.

$$\mathbb{N} \subseteq \mathbb{W} \subseteq \mathbb{Z} \subseteq \mathbb{Q} \subseteq \mathbb{R}$$

بنابراین:

۱) $\mathbb{N} - \mathbb{Q} = \emptyset$

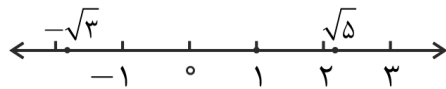
۲) $\mathbb{Z} - \mathbb{W} = \{\dots, -2, -1\}$

۳) $\mathbb{R} - \mathbb{Q} = \mathbb{Q}'$



باید بدانیم که هر عدد دلخواهی در نظر بگیریم، یک نقطه متناظر با آن روی محور اعداد حقیقی وجود دارد و همچنین متناظر با هر نقطه روی محور، یک عدد حقیقی وجود دارد.

به عنوان مثال اعضای مجموعه‌های $A = \{-\sqrt{3}, 1, \sqrt{5}\}$ را به صورت زیر روی محور اعداد حقیقی داریم:



بازه‌ها

در این قسمت قصد داریم شما را با مفهوم بازه آشنا کنیم، که در زندگی روزمره ما کاربرد زیادی دارد. درختانی را تصور کنید، که در طول یک پیاده‌رو عریض کاشته شده‌اند.

تا به حال به فاصله‌ی بین آن‌ها دقت کرده‌اید؟ آیا آن‌ها به فاصله‌ی مساوی از هم کاشته شده‌اند؟

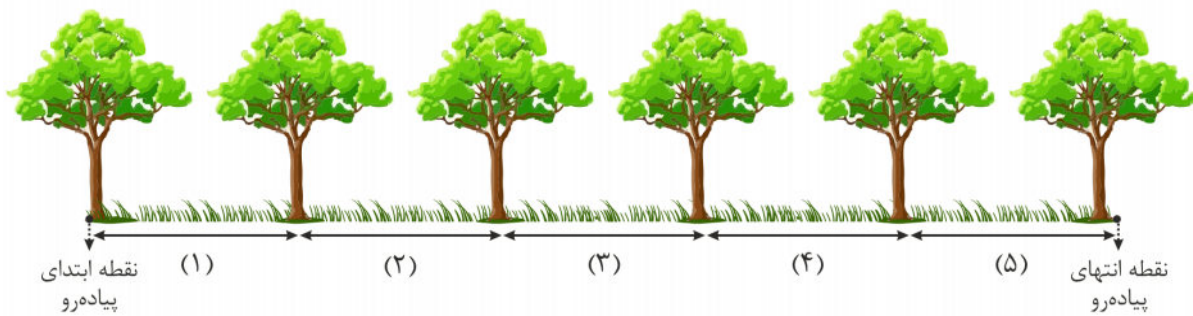
درختان، نیمکت‌ها، لامپ‌های چراغ برق و ... معمولاً در فاصله‌های یکسان از هم قرار داده می‌شوند.

در ریاضیات، بازه‌ها به ما کمک می‌کنند تا بتوانیم بسیاری از مسئله‌ها را حل کنیم.

به عنوان مثال می‌توانیم از بازه‌ها، برای مشخص شدن طول یک پیاده‌رو استفاده کنیم، یا حتی تعداد درختانی که در طول

یک پیاده‌رو کاشته شده‌اند را بیابیم.

به عنوان مثال اگر شش درخت در طول یک پیاده‌رو از نقطه‌ی ابتدایی آن تا نقطه‌ی انتهایی آن، با فاصله‌ی مساوی کاشته شده باشند، داریم:

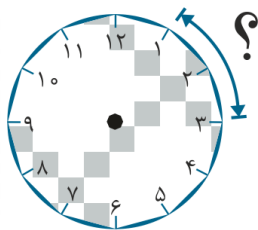


تعداد	تعداد	۱
درختان	بازه‌ها	
طول	تعداد	طول بازه‌ها
پیاده‌رو	بازه‌ها	
تعداد	طول	$1 - \text{تعداد درختان} = \text{طول}$
بازه‌ها	پیاده‌رو	بازه‌ها

بنابراین یکی از کاربردهای بازه را دیدیم.

به سوال‌های زیر فکر کنید.

۱. برنامه‌ی مورد علاقه‌ی علی ساعت ۳ عصر، شروع می‌شود. علی ساعت ۱ عصر از مدرسه به خانه می‌آید. چقدر طول می‌کشد تا برنامه‌ی مورد علاقه‌ی علی شروع شود؟



۲. کلاس آقای احمدی ساعت ۱۱:۳۰ شروع می‌شود و در ساعت ۱:۰۰ به پایان می‌رسد. آقای احمدی چه مدت در کلاس، تدریس می‌کند؟

در این سوال‌ها، بازه‌های زمانی مدنظر بودند.

حال می‌توانیم بازه‌ی اعداد را به زبان ریاضی تعریف کنیم.

تعریف

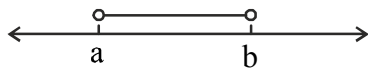
بازه‌ها زیر مجموعه‌هایی از اعداد حقیقی هستند که می‌توان آن‌ها را در چند دسته‌ی زیر تقسیم‌بندی کرد.

۱- بازه باز

فرض کنید a و b دو عدد حقیقی و $a < b$ باشد، در این صورت مجموعه‌ی تمام اعداد حقیقی بین a و b (که شامل خود a و b نباشند) را به صورت (a, b) نمایش می‌دهیم و آن را بازه‌ی باز بین a و b می‌نامیم. نماد ریاضی آن به صورت زیر است:

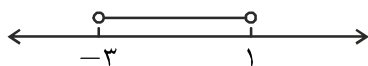
$$(a, b) = \{x \in \mathbb{R} \mid a < x < b\}$$

همچنین نمایش هندسی آن روی محور، به این گونه است:



$$A = (-3, 1) = \{x \in \mathbb{R} \mid -3 < x < 1\}$$

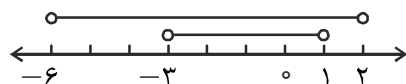
این بازه روی محور به صورت زیر نمایش داده شده است:



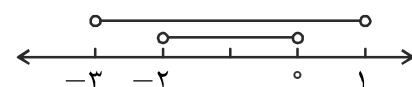
باتوجه به توضیحاتی که دادیم، واضح است که روابط زیر برقرارند:

$$-2 \in A \quad 0 \in A \quad 3 \notin A \quad \sqrt{5} \notin A$$

واضح است که $(-3, 1) \subset (-6, 2)$ است.



و همچنین $(-2, 0) \subset (-3, 1)$.



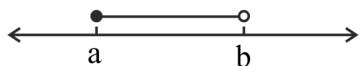
بنابراین رابطه‌ی زیر را داریم:

$$(-2, 0) \subset (-3, 1) \subset (-6, 2)$$

بازه نیم باز

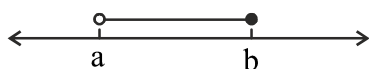
بازه نیم باز از راست a و b (یا نیم بسته از چپ)، که $(a < b)$ را به صورت زیر تعریف می شود:

$$[a, b) = \{x \in \mathbb{R} \mid a \leq x < b\}$$



بازه نیم باز از چپ، نیز به صورت زیر تعریف می شود:

$$(a, b] = \{x \in \mathbb{R} \mid a < x \leq b\}$$



واضح است که:

$$A = (a, b] \not\subseteq [a, b) = B$$

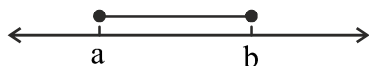
زیرا $b \in A$ است، ولی $b \notin B$.

بازه بسته

بازه بسته $[a, b]$ که $a < b$ ، را به صورت زیر تعریف می کنیم:

$$[a, b] = \{x \in \mathbb{R} \mid a \leq x \leq b\} = (a, b) \cup \{a, b\}$$

نمایش هندسی آن را روی محور مشاهده کنید.



واضح است که:

$$(a, b) \subseteq [a, b]$$

$$[a, b] \subseteq [a, b]$$


$$[a, b] \subseteq [a, b]$$

بازه های بی کران

بازه هایی که حداقل یک طرف آن $+\infty$ یا $-\infty$ است، بازه های بی کران نام دارند و به صورت زیر تعریف می شوند.

(دقت کنیم $+\infty$ و $-\infty$ اعداد حقیقی نیستند و یک نماد ریاضی اند.)

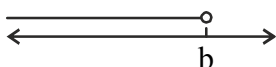
$$], +\infty) = \{x \in \mathbb{R} \mid x > a\}$$



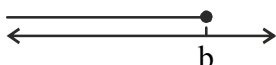
$$[a, +\infty) = \{x \in \mathbb{R} \mid x \geq a\}$$



$$(-\infty, b) = \{x \in \mathbb{R} \mid x < b\}$$



$$(-\infty, b] = \{x \in \mathbb{R} \mid x \leq b\}$$




مجموعه‌ی اعداد حقیقی را می‌توان به صورت زیر نشان داد:

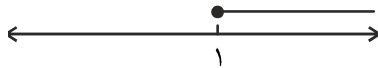
$$(-\infty, +\infty) = \mathbb{R}$$



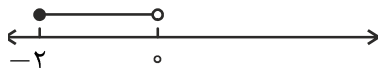
همان‌طور که می‌بینید، در زیر بازه‌های متناظر با هر محور مشخص شده‌اند.



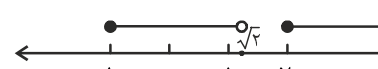
$$(-\infty, 2)$$



$$[1, +\infty)$$



$$[-2, 0)$$



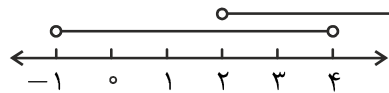
$$[-1, \sqrt{2}) \cup [2, +\infty)$$



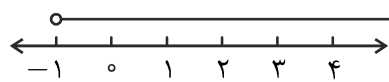
$$(-\infty, 0) \cup [0, +\infty)$$

حال در ادامه بازه‌های مشخص شده را روی محور نمایش می‌دهیم.

$$(-1, 4) \cup (2, +\infty)$$

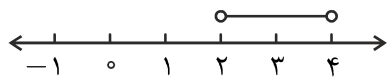


اول هرکدام از بازه‌ها را روی محور نشان می‌دهیم:



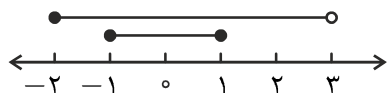
اجتماع این دو بازه به صورت زیر است:

$$(-1, 4) \cap (2, +\infty)$$



حال اشتراک آن‌ها را نمایش می‌دهیم:

$$[-1, 1] \cup [-2, 3)$$



اجتماع دو بازه برابر با مجموعه‌ی بزرگ‌تر می‌شود.



اگر $A \subseteq B$ باشد، $A \cup B = B$.

در زیر نمایش بازه‌ای بعضی از زیرمجموعه‌های پر کاربرد اعداد حقیقی را می‌بینید:

$$\mathbb{R} = (-\infty, +\infty)$$

$$\mathbb{R}^{>0} = \mathbb{R}^+ = (0, +\infty)$$

$$\mathbb{R}^{<0} = \mathbb{R}^- = (-\infty, 0)$$

$$\mathbb{R}^{\geq 0} = [0, +\infty)$$

$$\mathbb{R}^{\leq 0} = (-\infty, 0]$$

اگر $a \in \mathbb{R}$ باشد، آنگاه $[a, a] = a$ و $(a, a) = \emptyset$.

شعاع بازه

برای یک بازه می‌توان شعاع تعریف کرد، شعاع یک بازه را نصف طول آن بازه در نظر می‌گیریم.

اگر a و $b \in \mathbb{R}$ باشند، شعاع بازه‌ی (a, b) برابر با $\frac{b-a}{2}$ است.

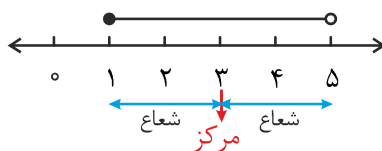
اگر یکی از نقاط a یا b ، ∞ باشند، شعاع بازه را بی‌نهایت تعریف می‌کنیم.

(باز یا بسته بودن بازه، تأثیری در اندازه‌ی شعاع ندارد.)

همچنین مرکز بازه‌ی (a, b) را $\frac{a+b}{2}$ تعریف می‌کنیم.



شعاع و مرکز بازه‌ی $(1, 5)$ به ترتیب ۲ و ۳ است.



مجموعه‌های منتهی و نامتناهی

مجموعه یکی از مفاهیم بنیادی و اساسی در ریاضیات است که در بسیاری از مواقع در حل مسئله‌های مختلف از آن

استفاده می‌شود. بنابراین لازم است، تا آن‌جا که می‌توانیم در مورد آن اطلاعات داشته باشیم.

در سال گذشته تا حدی با مفهوم مجموعه آشنا شدید، در این قسمت قصد داریم مجموعه‌های منتهی و نامتناهی را به شما معرفی

کنیم.

در مورد متن زیر فکر کنید.

یک مدرسه‌ی پسرانه قصد دارد در روز دانش‌آموز، به بچه‌های کلاس اولی خود ماشین اسباب‌بازی هدیه بدهد. بدیهی است که باید تعداد دانش‌آموزان کلاس اولی مشخص باشد تا به همه‌ی آن‌ها ماشین اسباب‌بازی برسد. زیرا اگر تعداد هدیه‌ها کمتر باشد، ممکن است خاطره‌ی خوبی به جا نماند!

اگر دانش‌آموزان کلاس اول را یک مجموعه در نظر بگیریم، متن بالا نشان می‌دهد که دانستن تعداد اعضای یک مجموعه، دارای اهمیت است.



تعداد اعضای مجموعه‌های زیر را مشخص کنید.

(۱) مجموعه‌ی روزهای هفته

(۲) مجموعه‌ی شن‌های کنار ساحل

تعریف

مجموعه‌ای را منتهای (باپایان) می‌گوییم، هرگاه تعداد اعضای آن یک عدد حسابی $\{0, 1, 2, \dots\}$ باشد، یا در واقع عمل شمارش اعضای آن به پایان برسد.

در مثال بالا، مجموعه‌ی روزهای هفته قابل شمارش است، ولی مجموعه‌ی شن‌های کنار ساحل را نمی‌توان شمرد.

مجموعه‌ای را نامنتهای (بی‌پایان) می‌گوییم، هرگاه منتهای نباشد.

لازم به یادآوری است که تعداد اعضای مجموعه‌ی A را با $n(A)$ نمایش می‌دهیم.

یادآوری: تعداد اعضای مجموعه‌ی \emptyset را صفر در نظر می‌گیریم.

برای آشنا شدن با مفهوم مجموعه‌ی نامنتهای یا عدد بی‌نهایت، از مثالی آشنا در ریاضیات استفاده می‌کنیم.

زندگی در هتل آقای هیلبرت

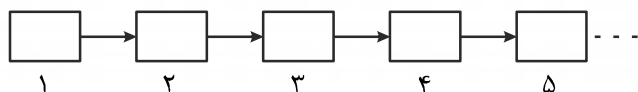
آقای هیلبرت صاحب تنها هتل توریستی یک شهر عجیب است. اگر بخواهیم هتل آقای هیلبرت را توصیف کنیم، باید بگوییم اتاق‌های این هتل تمامی ندارد! (و این همان مفهوم بی‌نهایت است.) یعنی برای هر شخصی که وارد این هتل شود، اتاق وجود دارد.

تصور کنید که به مسافر شماره ۱، اتاق ۱؛ مسافر شماره ۲، اتاق ۲ و به همین ترتیب به مسافر شماره n ، اتاق n داده شده است.

درست در شرایطی که تمام اتاق‌های هتل پر شده یکی از بازرسان اتحادیه هتل‌داران، برای بازرسی به هتل می‌آید و قصد دارد که چند روزی در آن اقامت داشته باشد.

در هتل آقای هیلبرت اتاق مربوط به بازرسان، همیشه اتاق شماره ۱ بوده است. به نظر شما آیا راهی وجود دارد که این بازرس در اتاق شماره ۱ ساکن شود؟

پاسخ این سوال مثبت است. چون اتاق‌های این هتل تمامی ندارند، می‌توان مسافر شماره ۱ را به اتاق شماره ۲، مسافر شماره ۲ را به اتاق شماره ۳ و ... به همین ترتیب این کار را ادامه داد و بازرس را که مسافر شماره ۰ در نظر می‌گیریم، در اتاق شماره ۱ ساکن کرد.



باتوجه به مثال بالا، مجموعه‌های \mathbb{W} و \mathbb{N} ، مجموعه‌های نامتناهی هستند، زیرا بی‌نهایت عضو دارند.



مجموعه‌های متناهی

$$۱) A = \{1, 2, 3, \dots, 10\}$$

$n(A) = 10$ ، بنابراین مجموعه‌ای متناهی است.

$$۲) B = \{x \mid x \in \mathbb{Z}, 2 < x < 9\}$$

اعضای B به صورت مجموعه‌ی $\{3, 4, 5, 6, 7, 8\}$ است، بنابراین $n(B) = 6$ و B مجموعه‌ای متناهی است.

$$۳) C = \{x \mid x \in \mathbb{N}, x \leq 9\}$$

اعضای C به صورت مجموعه‌ی $\{1, 2, 3, \dots, 9\}$ است، $n(C) = 9$ و C مجموعه‌ای متناهی است.

$$۴) D = \{x \mid x \in \mathbb{N}, x \text{ مضرب‌های عدد } ۲ \text{ و کمتر از } ۱۰ \text{ باشد}\}$$

اعضای D به صورت مجموعه‌ی $\{2, 4, 6, 8\}$ می‌باشد و $n(D) = 4$ و D مجموعه‌ای متناهی می‌باشد.



مجموعه‌های نامتناهی

۱) مجموعه‌ی اعداد حسابی (\mathbb{W})

می‌دانیم مجموعه‌های اعداد حسابی به صورت $\{0, 1, 2, 3, \dots\}$ است. در این مجموعه، هر عددی که در نظر بگیریم، عددی می‌شود یافت که از آن بزرگ‌تر باشد. بنابراین تعداد اعضای این مجموعه قابل شمارش نیست. بنابراین \mathbb{W} ، مجموعه‌ای نامتناهی است.

۲) مجموعه‌ی اعداد صحیح (\mathbb{Z})

مانند توضیحات (۱)، هر عددی که در \mathbb{Z} در نظر بگیریم، عددی از آن بزرگ‌تر و از آن کوچک‌تر یافت می‌شود. بنابراین نمی‌توان تعداد اعضای \mathbb{Z} را شمارش کرد، پس \mathbb{Z} مجموعه‌ای نامتناهی است.

۳) مجموعه‌ی اعداد مثبت و مضرب ۳

مجموعه‌ی اعداد مثبت و مضرب ۳ نیز مجموعه‌ای نامتناهی است و اعضای آن به صورت مجموعه‌ی $\{3, 9, 12, 15, \dots\}$ است.



فرض کنید $A \subseteq B$ باشد، اگر A مجموعه‌ای نامتناهی باشد، B نیز مجموعه‌ای نامتناهی است.

دلیل: اگر A مجموعه‌ای نامتناهی باشد، بنابراین تعداد اعضای آن قابل شمارش نمی‌باشد و چون $A \subseteq B$ است، تعداد اعضای B یا برابر با A یا بزرگ‌تر از A است، بنابراین B هم مجموعه‌ای نامتناهی است.



می‌دانیم که $\mathbb{N} \subseteq \mathbb{W} \subseteq \mathbb{Z} \subseteq \mathbb{Q} \subseteq \mathbb{R}$. با توجه به نکته بیان شده و این که مجموعه‌ی \mathbb{N} نامتناهی است، هر کدام از مجموعه‌های \mathbb{W} ، \mathbb{Z} ، \mathbb{Q} و \mathbb{R} نیز نامتناهی می‌شود.



فرض کنید $A \subseteq B$ باشد، اگر B مجموعه‌ای متناهی باشد، A نیز متناهی است.

دلیل: اگر B مجموعه‌ای متناهی باشد، بنابراین $n(B)$ یک عدد مشخص است و با توجه به این که $A \subseteq B$ ، حتماً $n(A) \leq n(B)$ می‌شود. پس $n(A)$ نیز یک عدد مشخص است. بنابراین A نیز متناهی است.

متمم يك مجموعه

در این قسمت قصد داریم، متمم یک مجموعه را معرفی کنیم، متن زیر را با دقت بخوانید.

مادر بزرگ علی در روستا زندگی می‌کند، علی طبیعت را بسیار دوست دارد. بنابراین تمام سال تحصیلی را به خوبی و با انرژی درس می‌خواند تا امتحاناتش را با موفقیت سپری کند و بتواند همه‌ی تعطیلات تابستان را به روستا برود علی در طول سال تحصیلی نمی‌تواند به روستا برود.

حال، اگر مجموعه‌ی ماه‌های سال را U ، مجموعه‌ی ماه‌های تابستان را A و بقیه‌ی ماه‌های سال را A' بنامیم، اعضای این مجموعه‌ها به صورت زیر هستند:

$$U = \{\text{شهریور، مرداد، تیر، خرداد، اردیبهشت، فروردین، اسفند، بهمن، دی، آذر، آبان، مهر}\}$$

$$A = \{\text{تیر، مرداد، شهریور}\}$$

$$A' = \{\text{مهر، آبان، آذر، دی، بهمن، اسفند، فروردین، اردیبهشت، خرداد}\}$$

در این مثال U مجموعه‌ی همه‌ی ماه‌های سال، A مجموعه‌ی ماه‌هایی است که علی می‌تواند به روستا برود و A' مجموعه‌ی بقیه‌ی ماه‌های سال (به غیر از ماه‌های تابستان) است.

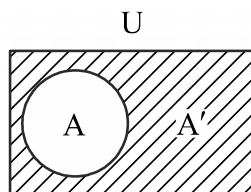
تعریف

مجموعه‌ی مرجع، مجموعه‌ی اصلی در بحث مورد نظر است و تمام مجموعه‌های دیگر به عنوان زیرمجموعه‌ی آن در نظر گرفته می‌شوند، این مجموعه را مجموعه‌ی جهانی نیز می‌نامند و معمولاً آن را با U نمایش می‌دهند. (حرف U از کلمه‌ی Universal گرفته شده است).

اکنون با تعریف کردن مجموعه‌ی مرجع، می‌توانیم متمم یک مجموعه را نیز تعریف کنیم.

متمم مجموعه‌ی A ، $A \subseteq U$ ، را با A' نمایش می‌دهیم و مجموعه‌ی همه‌ی عضوهای U است که در A نیستند.

یعنی مجموعه‌ی $U - A$ ، قسمت‌های هاشورزده این مجموعه را مشخص می‌کند.



برای به دست آوردن متمم یک مجموعه، حتماً باید مجموعه‌ی مرجع مشخص باشد.

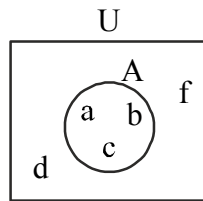
مثال

اگر $U = \{1, 2, 3, 4, 5, 6, 7, 8, 9, 10\}$ ، $A = \{2, 4, 6, 8\}$ و $B = \{1, 2, 3, 4, 5\}$ باشد، مجموعه‌های A' و B' را مشخص کنید.

$$A' = \{1, 3, 5, 7, 9, 10\}$$

$$B' = \{6, 7, 8, 9, 10\}$$

شکل زیر را در نظر بگیرید.



با نگاه دقیقی به شکل بالا می‌بینیم که d و f در مجموعه‌ی U هستند، ولی عضو مجموعه‌ی A نیستند، بنابراین:
 $A' = \{d, f\}$ یا $d, f \in A'$.

با توجه به مجموعه‌های مشخص شده، متمم مجموعه A را بنویسید.

$$U = \{x \mid x \in \mathbb{N}, x \leq 7\}$$

$$A = \{x \mid x \in \mathbb{N}, 4 \leq x \leq 6\}$$

باتوجه به سوال $U = \{1, 2, 3, 4, 5, 6, 7\}$ و $A = \{4, 5, 6\}$ بنابراین:

$$A' = \{1, 2, 3, 7\}$$

نکته

حال که با مفهوم متمم یک مجموعه آشنا شدید، واضح است که روابط زیر برقرارند.

۱) $U' = \emptyset$

۲) $\emptyset' = U$

۳) $(A')' = A$

۴) $A \cap A' = \emptyset$

۵) $A \cup A' = U$

اگر مجموعه‌ی مرجع را اعداد طبیعی و مجموعه‌ی A را اعداد طبیعی زوج در نظر بگیریم، آن‌گاه، A' مجموعه‌ی اعداد طبیعی فرد می‌شود.

اگر \mathbb{R} را به عنوان مجموعه‌ی مرجع در نظر بگیریم و $A = \{x \mid x \in \mathbb{R}, 2 \leq x \leq 3\}$ ، مجموعه‌ی A' را مشخص کنید.



در زیر، مجموعه‌های U ، A و B مشخص شده‌اند. اعضای مجموعه‌ی $(A \cap B)'$ و $(A')'$ را بنویسید.

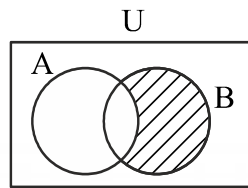
$$U = \{1, 2, 3, 4, 5, 6, 7, 8, 9, 10\}$$

$$A = \{1, 5, 6\}$$

$$B = \{3, 5, 6, 7\}$$



فرض کنید U مجموعه‌ی مرجع و A و B دو مجموعه‌ی دلخواه باشند. همه‌ی ما با مجموعه‌ی $B - A$ آشنایی داریم. نمودار ون آن به صورت زیر است:



همان‌طور که در شکل می‌بینیم.

$$n(B - A) = n(B) - n(A \cap B)$$



می‌دانیم $A' = U - A$ پس داریم:

$$n(A') = n(U) - n(A)$$

تعداد عضوهای اجتماع دو مجموعه

در این قسمت قصد داریم رابطه‌ای برای محاسبه‌ی تعداد اعضای اجتماع دو مجموعه ارائه دهیم.

متن زیر را به دقت بخوانید

در یک ناحیه از جنگل، ۱۰ عدد خرگوش زندگی می‌کنند که ۶ تای آن‌ها سفید و ۴ تای آن‌ها سیاه است. مجموعه‌های A و B را به صورت زیر تعریف می‌کنیم:

$$A = \{\text{خرگوش‌هایی که سفید هستند}\}$$

$$B = \{\text{خرگوش‌هایی که سیاه هستند}\}$$

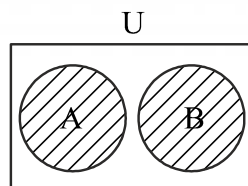
باتوجه به این دو مجموعه داریم:

$$n(A) = 6$$

$$n(B) = 4$$

$$n(A \cup B) = 10$$

نمودار ون این مثال به صورت زیر است:



در این مثال رابطه‌ی زیر برقرار است:

$$n(A \cup B) = n(A) + n(B)$$

سوال: آیا می‌توان این رابطه را برای هر دو مجموعه‌ی دلخواه A و B نوشت؟
 آیا می‌توانید مثالی بزنید که در آن رابطه‌ی بالا برقرار نباشد؟

به مثال زیر دقت کنید.

یک هنرکده که در تهران کلاس‌های نقاشی و خوشنویسی برگزار می‌کند، ۲۰۰ نفر هنرجو دارد. ۱۲۰ نفر از آن‌ها در کلاس خوشنویسی، ۱۰۰ نفر در کلاس نقاشی و ۲۰ نفر از آن‌ها در هر دو کلاس شرکت می‌کنند. مجموعه‌های A و B را به صورت زیر معرفی می‌کنیم.

$A = \{ \text{هنرجوهایی که در کلاس خوشنویسی شرکت می‌کنند} \}$

$B = \{ \text{هنرجوهایی که در کلاس نقاشی شرکت می‌کنند} \}$

$A \cap B = \{ \text{هنرجوهایی که در هر دو کلاس شرکت می‌کنند} \}$

باتوجه به مجموعه‌های معرفی شده، داریم:

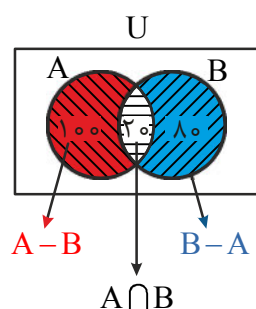
$$n(A) = 120$$

$$n(B) = 100$$

$$n(A \cap B) = 20$$

$$n(A \cup B) = 200$$

نمودار ون این مثال به صورت زیر است:



واضح است که رابطه‌ی گفته شده در مثال قبل، در این جا برقرار نیست.

باتوجه به شکل می‌بینیم که:

$$n(A) = n(A - B) + n(A \cap B) \Rightarrow n(A - B) = n(A) - n(A \cap B) \quad (*)$$

$$n(B) = n(B - A) + n(A \cap B)$$

$$n(A \cup B) = n(A - B) + \underbrace{n(B - A) + n(A \cap B)}_{n(B)} = n(A - B) + n(B) \quad \text{با استفاده از (*)}$$

$$n(A) - n(A \cap B) + n(B)$$

$$\Rightarrow \underline{n(A \cup B) = n(A) + n(B) - n(A \cap B)}$$

رابطه‌ی به دست آمده را می‌توانیم برای محاسبه‌ی تعداد اعضای اجتماع دو مجموعه به کار ببریم.

همچنین از رابطه‌ی $n(A \cup B) = n(A - B) + n(B - A) + n(A \cap B)$ در حل مسئله‌ها استفاده می‌شود.



فرض کنید A و B دو مجموعه باشند، اگر این دو مجموعه هیچ عضو مشترکی نداشته باشند ($n(A \cap B) = 0$) گوییم A و B دو مجموعه مجزا یا جدا از هم‌اند.



در یک کلاس، ۲۰ نفر از دانش‌آموزان در درس ریاضی و ۲۵ نفر از آن‌ها در درس فیزیک قبول شده‌اند. اگر ۱۵ نفر در هر دو درس قبول شده باشند، این کلاس چند نفره است؟
مجموعه‌های زیر را تعریف می‌کنیم:

$$A = \{\text{دانش‌آموزانی که در درس ریاضی قبول شده‌اند}\}$$

$$B = \{\text{دانش‌آموزانی که در درس فیزیک قبول شده‌اند}\}$$

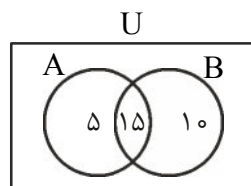
$$A \cap B = \{\text{دانش‌آموزانی که در هر دو درس قبول شده‌اند}\}$$

مشخص است که هدف این سوال پیدا کردن تعداد اعضای $A \cup B$ است. طبق رابطه‌ای که به دست آوردیم، داریم:

$$n(A \cup B) = n(A) + n(B) - n(A \cap B) = 20 + 25 - 15 = 30$$

پس این کلاس ۳۰ نفر دانش‌آموز دارد.

نمودار ون این مثال به صورت زیر است:



واضح است که رابطه‌ی گفته شده در مثال قبل، در این جا برقرار نیست.

نتیجه:

برای دو مجموعه جدا از هم A و B ، تعداد عضوهای اجتماع این دو مجموعه از رابطه زیر به دست می‌آید:

$$n(A \cup B) = n(A) + n(B)$$



از بین ۱۰ دبیر یک آموزشگاه، ۶ نفر از آن‌ها فیزیک، ۵ نفر ریاضی و ۲ نفر هر دو درس را تدریس می‌کنند. چند نفر از آن‌ها، هیچ‌یک از این دو درس را تدریس نمی‌کنند؟



اگر $n(A) = 10$ ، $n(B) = 6$ ، $A \cap B = \{2, 4, 6, 8\}$ باشد، تعداد اعضای $A \cup B$ را حساب کنید.



اگر مجموعه‌های A و B را به صورت زیر داشته باشیم، تعداد اعضای $A \cup B$ را حساب کنید.

$$A = \{\text{مضارب ۳ که کوچک‌تر از ۱۰ باشند}\}$$

$$B = \{\text{مضارب ۲ که کوچک‌تر از ۱۰ باشند}\}$$

پاسخ مثال



$$A' = \{x \mid x \in \mathbb{R}, x < 2 \text{ یا } x > 3\}$$



داریم $A \cap B = \{5, 6\}$ ، بنابراین:

$$(A \cap B)' = \{1, 2, 3, 4, 7, 8, 9, 10\}$$

همچنین $A' = \{2, 3, 4, 7, 8, 9, 10\}$ و $(A')' = \{1, 5, 6\}$

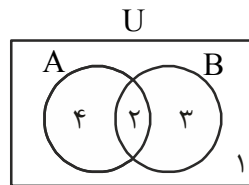


$A = \{\text{دبیرانی که فیزیک تدریس می کنند}\}$

$B = \{\text{دبیرانی که ریاضی تدریس می کنند}\}$

$U = \{\text{کل دبیران این آموزشگاه}\}$

برای حل این سوال ابتدا نمودار ون را رسم می کنیم.



باتوجه به صورت سوال می دانیم که ۲ نفر از دبیران این آموزشگاه، هم فیزیک و هم ریاضی تدریس می کنند، بنابراین در قسمت اشتراکی عدد ۲ را می گذاریم و ۴ نفر فقط فیزیک درس می دهند (زیرا ۶ نفر تدریس فیزیک دارند) همچنین ۳ نفر فقط ریاضی درس می دهند.

مجموع این اعداد می شود $(4+2+3)$ ، بنابراین فقط یک نفر می ماند که هیچ یک از این هر دو درس را تدریس نمی کند. (یعنی مثلاً شیمی درس می دهد).

اگر بخواهیم پاسخ این سوال را به صورت فرمولی بنویسیم هدفی که این سوال دارد $n(A \cup B)'$ است.

$$\begin{aligned} n(A \cup B)' &= n(U) - n(A \cup B) = n(U) - (n(A) + n(B) - n(A \cap B)) \\ &= 10 - (6 + 5 - 2) = 10 - 9 = 1 \end{aligned}$$



$$n(A \cup B) = n(A) + n(B) - n(A \cap B) = 10 + 6 - 4 = 12$$



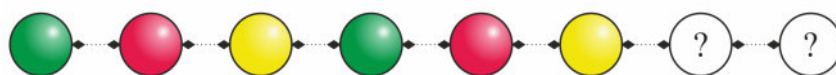
داریم:

$$A = \{3, 6, 9\}, \quad B = \{2, 4, 6, 8\}, \quad A \cap B = \{6\}$$

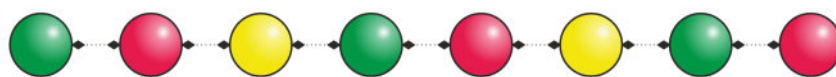
$$n(A \cup B) = n(A) + n(B) - n(A \cap B) = 3 + 4 - 1 = 6$$

الگو و دنباله

در این قسمت از درس قصد داریم در مورد الگو و دنباله در ریاضیات صحبت کنیم. جالب است بدانیم ریاضیات در بسیاری از مواقع به ما کمک می‌کند تا بتوانیم پیش‌گویی کنیم! الگوها یکی از مباحث جالب در ریاضیات است، فهمیدن و درک کردن الگوها، یک قدرت جادویی است که با استفاده از آن می‌توانیم پیش‌گویی کنیم، کشف کنیم، جهان اطراف خود را بهتر درک کنیم و بیشتر لذت ببریم. همچنین کار کردن با الگوها یک بازی است و باعث سرگرمی می‌شود. در بعضی مواقع تشخیص یک الگو، کار راحتی است و گاهی اوقات کار پیچیده‌تری می‌شود.

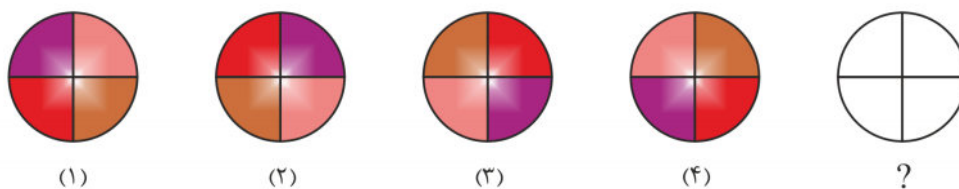


به نظر شما به جای دایره‌های خالی چه رنگ‌هایی بگذاریم؟

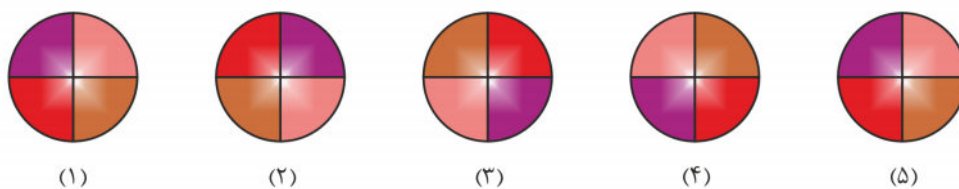


(بله درست حدس زدیدا!)

به نظر شما در شکل شماره ۵ ترتیب رنگ‌ها چگونه است؟



آیا الگوی خاصی در ذهن شما هست؟ می‌توانید بنویسید.



در اعداد نیز می‌توانیم الگوهای متعددی داشته باشیم.

تعریف

الگوی عددی مجموعه‌ای از اعداد است که با نظم و ترتیب خاصی با یکدیگر در ارتباط هستند.



آیا می‌توانید سه عدد بعدی در الگوی زیر را حدس بزنید.

۶۱، ۵۹، ۵۷،،،

در الگوی بالا هر عدد از عدد قبل خود دو واحد کمتر است. پس داریم:

۶۱، ۵۹، ۵۷، ۵۵، ۵۳، ۵۱

جای خالی را در الگوی زیر پر کنید.

۷، ۱۶، ۲۵، ۳۴، ۴۳، ۵۲،

در این الگو نیز هر عدد، از عدد قبلی خود ۹ واحد بیشتر است. بنابراین جای خالی عدد $۶۱ = ۵۲ + ۹$ است.

می‌خواهیم چهارمین عدد الگوی زیر را در جدول داده شده بیابیم.

شماره	۱	۲	۳	۴
تعداد	۱۱۰	۱۷۰	۲۳۰	?

برای به دست آوردن عدد چهارم، ابتدا عدد اول را از عدد دوم کم می‌کنیم.

$$(۱۷۰ - ۱۱۰) = ۶۰$$

دوباره عدد دوم را از عدد سوم کم می‌کنیم.

$$(۲۳۰ - ۱۷۰) = ۶۰$$

حال اطمینان پیدا می‌کنیم که اختلاف عددهای این الگو ۶۰ است. یعنی هر عدد از عدد قبلی خود ۶۰ تا بیشتر است بنابراین

عدد چهارم ۶۰ تا از عدد سوم بیشتر است. پس باید ۶۰ را به سومین عدد اضافه کنیم تا چهارمین عدد به دست بیاید.

$$۲۳۰ + ۶۰ = ۲۹۰$$

متن زیر را با دقت بخوانید

به تعداد مربع‌های به کار رفته در هر شکل دقت کنید.



(۱)



(۲)



(۳)

(۴)

شکل	۲	۳	۴
تعداد	۱۰	۱۴	?

در الگوهای عددی، برای خلاصه‌نویسی از نمادگذاری ریاضی استفاده می‌کنیم. مثلاً به جای این که بگوییم شکل شماره‌ی

یک می‌نویسیم a_1 (و می‌خوانیم a اندیس ۱).

به متغیرهای a_1 ، a_2 و a_3 ، متغیرهای اندیس دار می‌گوییم که مقادیر آن‌ها به ترتیب ۶، ۱۰ و ۱۴ است و به این مقادیر جملات الگو گفته می‌شود.

یعنی ۶، جمله اول الگو و ۱۰، جمله دوم الگو و به همین ترتیب ادامه می‌دهیم.
با این نمادگذاری a_n نشان‌دهنده تعداد مربع‌های شکل هشتم است و a_n تعداد مربع‌های شکل n ام.

a_n را جمله عمومی الگو می‌نامیم

a_n دارای اهمیت زیادی است، زیرا ساختار جملات الگو را مشخص می‌کند و با استفاده از آن می‌توان جملات الگو را به دست آورد.

به نظر شما در این الگو a_n چگونه به دست می‌آید.
با دقت در شکل‌ها می‌بینیم.

$$a_1 = 4 + (1) \times 2 \quad a_2 = 4 + (3) \times 2 \quad a_3 = 4 + (5) \times 2$$

$$\Rightarrow a_n = 4 + (2n - 1) \times 2$$

حال a_4 و a_8 را به دست می‌آوریم:

$$a_4 = 4 + (2 \times 4 - 1) \times 2 = 4 + 14 = 18$$

$$a_8 = 4 + (2 \times 8 - 1) \times 2 = 4 + 30 = 34$$

الگوی خطی

همچنین جملات الگوی بالا را به صورت جدول زیر می‌توانیم بنویسیم.

a_n	بسط جمله a_n
a_1	$2 + 4$
a_2	$2 + 4 + 4$
a_3	$2 + 4 + 4 + 4$
a_4	$2 + 4 + 4 + 4 + 4$
\vdots	$2 + 4 + 4 + 4 + 4$
a_n	$2 + \underbrace{4 + 4 + 4 + 4 + 4 + \dots + 4}_{\text{تا } n}$

در نتیجه داریم:

تفاضل هر دو جمله متوالی این الگو مقدار ثابت و ضریبی از ۴ است.

$$a_n = 2 + 4n$$

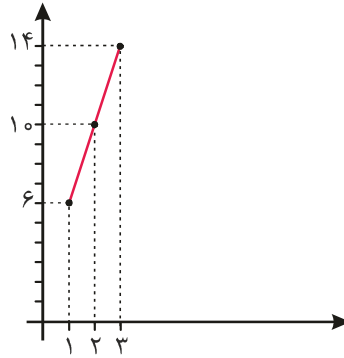
ثابت

متغیر

(۲, ۱۰)

(۳, ۱۴)

نمایش نقاط مشخص شده را روی صفحه مختصات ببینید.



معادله این خط $y = 4x + 2$ است. یعنی این نقاط روی خط $y = 4x + 2$ قرار دارند.

تعریف

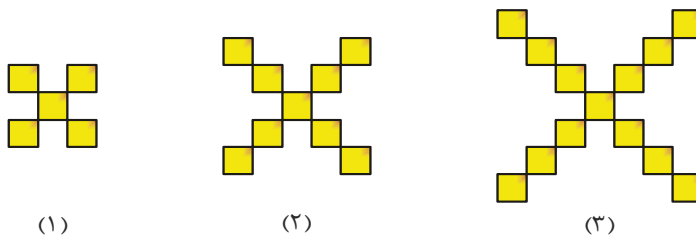
فرض کنید a و b اعداد حقیقی دلخواه و ثابتی باشند، آن گاه الگوهایی با جمله عمومی $t_n = an + b$ را الگوهای خطی می‌نامیم. همان‌طور که در مثال قبل دیدید a شیب خط و b عرض از مبدأ معادله خط $y = ax + b$ است.



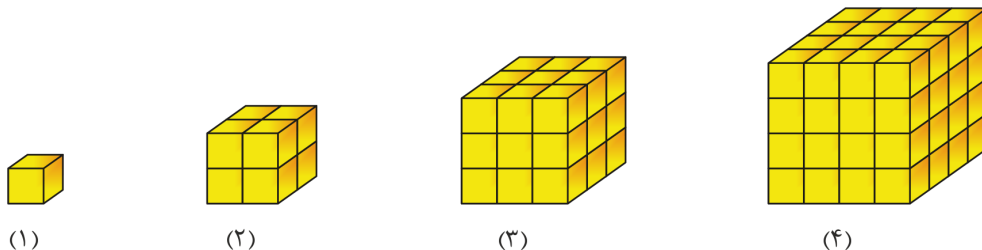
اختلاف هر دو جمله متوالی در الگوهای خطی مقدار ثابتی است. (این مقدار ثابت همان ضریب n یعنی a است.)



آیا الگوی زیر یک الگوی خطی است؟ جمله عمومی آن را پیدا کنید. (فرض کنید a_n تعداد اضلاع مربع‌ها باشد.)



باتوجه به الگوی زیر، جمله عمومی را بنویسید. آیا این الگو یک الگوی خطی است (فرض کنید a_n تعداد مکعب‌های هر شکل باشد.)



دنباله

در بخش قبلی، برای هر الگوی هندسی، الگوی عددی متناظر با آن را نوشتیم. دنباله‌های عددی مجموعه‌ای از اعداد هستند که با یک رابطه‌ی مشخص به‌طور متوالی به دنبال هم می‌آیند و با یکدیگر یک ارتباط ریاضی دارند. این اعداد را جملات دنباله می‌گوییم.

دنباله‌های بازگشتی

دنباله‌هایی هستند که برای نوشتن یک جمله‌ی آن باید جمله یا جملات قبل آن را بدانیم.



می‌دانیم a_1 ، جمله‌ی اول، a_2 جمله‌ی دوم و به همین ترتیب a_n جمله‌ی n ام یک دنباله است. بنابراین واضح است که a_{n-1} ، جمله‌ی $n-1$ ام و a_{n-2} جمله‌ی $n-2$ ام است.



فرض کنید روابط زیر بین جملات یک دنباله برقرار باشد. جملات این دنباله را بنویسید.

$$a_1 = a_2 = 1$$

$$a_n = a_{n-1} + a_{n-2}, \quad n \geq 3$$

$$a_3 = a_2 + a_1 = 1 + 1 = 2$$

$$a_4 = a_3 + a_2 = 2 + 1 = 3$$

$$a_5 = a_4 + a_3 = 3 + 2 = 5$$

$$a_6 = a_5 + a_4 = 5 + 3 = 8$$

بنابراین جملات این دنباله به‌صورت زیر هستند:

۱, ۱, ۲, ۳, ۵, ۸, ...

دنباله‌ی ذکر شده، یکی از دنباله‌های آشنا در ریاضیات است و به دنباله‌ی فیبوناچی معروف است.



دنباله‌ای از اعداد به‌صورت زیر داریم. جمله‌ی عمومی این دنباله را پیدا کنید و جمله‌ی صدم آن را

بنویسید.

۳, ۵, ۷, ۹, ...



اگر جمله‌ی عمومی یک دنباله $a_n = n(n-1)$ باشد، جمله‌ی ۲۰۰ام آن را به‌دست آورید.

پاسخ مثال



ابتدا اطلاعات مربوط به سوال را در قالب یک جدول می‌نویسیم:

شماره شکل: n	۱	۲	۳	۴
تعداد اضلاع مربع‌ها: a_n	۲۰	۳۶	۵۲	?

هر جمله از جمله‌ی قبلی، ۴ واحد بیشتر است. با توجه به شکل‌های کشیده شده و اعدادی که می‌بینیم، داریم:

a_n	بسط جمله‌ی a_n
۲۰	$۴+۱۶$
۳۶	$۴+۱۶+۱۶$
۵۲	$۴+۱۶+۱۶+۱۶$
۶۸	$۴+۱۶+۱۶+۱۶+۱۶$
⋮	
a_n	$۴+\underbrace{۱۶+۱۶+\dots+۱۶}_{n \times ۱۶}$

پس داریم:

$$a_n = 4 + 16n$$

بنابراین با استفاده از تعریف قبلی، می‌بینیم که a_n یک الگوی خطی است.



ابتدا اطلاعات مربوط به سوال را در قالب یک جدول می‌نویسیم:

شماره شکل: n	۱	۲	۳	۴
تعداد مکعب‌های هر شکل: a_n	۱	۸	۲۷	۶۴
بسط a_n	$(۱)^۳$	$(۲)^۳$	$(۳)^۳$	$(۴)^۳$

واضح است که $a_n = n^3$ است.

$$a_2 - a_1 = 8 - 1 = 7$$

$$a_3 - a_2 = 27 - 8 = 19$$

می‌بینیم که اختلاف هر دو جمله‌ی متوالی این الگو، مقدار ثابتی نیست. هم با استفاده از رابطه‌ی به‌دست

آمده $a_n = (n)^3$ و هم با استفاده از اختلاف دو جمله‌ی متوالی، می‌بینیم که این الگو، خطی نیست.



با نگاهی به دنباله می‌بینیم که مجموعه‌ی اعداد فرد بزرگ‌تر از ۱ نوشته شده است. جدول اطلاعات مربوط به دنباله را می‌نویسیم.

a_n	بسط جمله‌ی a_n
۳	$2 \times (1) + 1$
۵	$2 \times (2) + 1$
۷	$2 \times (3) + 1$
۹	$2 \times (4) + 1$
⋮	
a_n	$2 \times (n) + 1$

جمله‌ی عمومی این دنباله به صورت $a_n = 2n + 1$ است.

$$a_{100} = 2 \times 100 + 1 = 201$$



$$a_{200} = 200 \times 199 = 39800$$

دنباله‌ی حسابی و هندسی

در درس گذشته با مفهوم الگو و دنباله آشنا شدید، در این قسمت قصد داریم در مورد دو نوع خاص از دنباله‌ها که کاربرد زیادی دارند، صحبت کنیم.

ابتدا دنباله‌های حسابی که در واقع یک یادآوری از درس قبل است را عنوان می‌کنیم. به تعریف زیر دقت کنید.

دنباله‌های حسابی

تعریف

دنباله حسابی در واقع یک رشته از اعداد است که به طور متوالی به دنبال هم می‌آیند و اختلاف هر جمله با جمله‌ی قبلی آن، مقداری ثابت است. این مقدار ثابت را با d نمایش می‌دهیم، همچنین جمله‌ی اول یک دنباله‌ی حسابی را a می‌نامیم.

آیا تعریف بالا برای شما آشنا است؟

بله، درست حدس زدید. دنباله‌های حسابی، در واقع همان الگوهای خطی هستند، که در ادامه برای آن یک رابطه‌ی مشخص تعریف می‌کنیم و در حل مسائل خود از آن استفاده می‌کنیم. جملات دنباله‌ی حسابی را با توجه به تعریفی که انجام شد، برحسب a و d می‌نویسیم:

$$a, a+d, a+2d, \dots$$

مانند گذشته جدول اطلاعات مربوط به این دنباله را رسم می‌کنیم

n	t_n	بسط t_n	
۱	t_1	a	$= a + 0d$
۲	t_2	$a+d$	$= a + 1d$
۳	t_3	$a+d+d$	$= a + 2d$
۴	t_4	$a+d+d+d$	$= a + 3d$
\vdots	\vdots	\vdots	\vdots
n	t_n	$a + \underbrace{d+d+d+\dots+d}_{n-1}$	$= a + (n-1)d$

دیدیم:

جمله‌ی n ام یک دنباله‌ی حسابی (جمله‌ی عمومی آن) که جمله اول آن a و قدر نسبت آن d است به صورت $t_n = a + (n-1)d$ می‌باشد.



با توجه به تعریف ابتدایی، جملات یک دنباله‌ی حسابی که قدر نسبت آن $d = 2$ و جمله‌ی اول آن $a = 5$ باشد را مشخص کنید.

داریم:

$$a = 5$$

در جای خالی اول، عدد ۵ را می‌گذاریم.

$$\frac{5}{t_1}, \frac{5}{t_2}, \frac{5}{t_3}, \frac{5}{t_4}, \dots$$

قدر نسبت این دنباله $d = 2$ است. یعنی اختلاف هر دو جمله متوالی عدد ۲ ست.

$$t_2 = 5 + 2 = 7$$

$$t_3 = 7 + 2 = 9$$

$$t_4 = 9 + 2 = 11$$

بنابراین داریم:

$$\frac{5}{t_1}, \frac{7}{t_2}, \frac{9}{t_3}, \frac{11}{t_4}, \dots$$



جمله‌ی عمومی یک دنباله‌ی حسابی به صورت، $t_n = -2 + 5n$ است. چهار جمله‌ی اول این دنباله را مشخص کنید.

👉 جمله‌ی عمومی دنباله‌ی حسابی ...، ۱۶، ۱۰، ۴، -۲ را به دست آورید.

برای به دست آوردن جمله‌ی عمومی یک دنباله‌ی حسابی $(t_n = a + (n-1)d)$ ، باید جمله‌ی اول و قدر نسبت دنباله را داشته باشیم.

با دقت در دنباله‌های حسابی داده شده می‌بینیم که جمله‌ی اول آن عدد -۲ است. بنابراین داریم:

$$a = -2$$

به نظر شما قدر نسبت چه عددی است؟

می‌دانیم که قدر نسبت، اختلاف یک جمله، از جمله‌ی قبلی آن است. بنابراین داریم:

$$d = t_2 - t_1 = 4 - (-2) = 6$$

حال با داشتن a و d و دانستن رابطه‌ی $t_n = a + (n-1)d$ داریم:

$$t_n = -2 + (n-1) \times 6 = -2 + 6n - 6 = 6n - 8$$

پس $t_n = 6n - 8$ است.

دنباله‌ی حسابی صعودی و نزولی

واضح است اگر قدر نسبت یک دنباله حسابی مثبت باشد، جمله‌های دنباله به مقدار ثابتی افزایش می‌یابند و اگر قدر نسبت منفی باشد، جمله‌های دنباله به مقدار ثابتی کاهش می‌یابند. اگر $d \geq 0$ باشد، دنباله را یک دنباله‌ی صعودی و اگر $d < 0$ باشد، دنباله را یک دنباله‌ی نزولی گوئیم.



دو دنباله‌ی زیر که شروع یکسانی دارند، اما قدر نسبت یکی $d = 1$ و قدر نسبت دیگری $d = -1$ است را مشاهده کنید.

$d = 1$ (دنباله صعودی) $\Rightarrow 2, 3, 4, 5, 6, \dots$

$d = -1$ (دنباله نزولی) $\Rightarrow 2, 1, 0, -1, -2, \dots$



اگر t_m و t_n دو جمله‌ی متفاوت و دلخواه از دنباله‌ی حسابی باشند، قدر نسبت دنباله برابر است با:

$$d = \frac{t_m - t_n}{m - n}$$

👉 اگر t_r ، t_s و t_p سه جمله‌ی متوالی یک دنباله‌ی حسابی باشند، نشان دهید $t_s = \frac{t_r + t_p}{2}$.

جملات این دنباله به صورت زیر هستند:

$$t_r, t_s, t_p$$

چون یک دنباله‌ی حسابی داریم، بنابراین:

$$\begin{aligned} t_p - t_s &= t_s - t_r \Rightarrow t_p + t_r = 2t_s \\ \Rightarrow t_s &= \frac{t_p + t_r}{2} \end{aligned}$$



اگر بین دو جمله‌ی t_p و t_q ، n عدد قرار دهیم، به طوری که $n+2$ عدد حاصل تشکیل دنباله‌ی حسابی دهند، در این حالت می‌گوییم بین t_p و t_q ، n واسطه‌ی حسابی درج کرده‌ایم.

👉 بین ۲ و ۱۰ سه واسطه‌ی حسابی قرار دهید.

باید d را بیابیم.

$$10, _, _, _, 2$$

داریم:

$$a = 2$$

$$t_n = a + (n-1)d \rightarrow 10 = 2 + 4d \Rightarrow \boxed{d=2}$$

بنابراین جملات دنباله به صورت زیر هستند:

$$2, 4, 6, 8, 10$$

تعریف دنباله هندسی

دنباله‌ی هندسی یک رشته از اعداد است که در آن هر جمله از ضرب جمله‌ی قبلی در یک مقدار ثابت به دست می‌آید. این مقدار ثابت را قدر نسبت دنباله‌ی هندسی می‌نامیم و آن را با r نمایش می‌دهیم.

به دست آوردن رابطه‌ی مربوط به دنباله هندسی

با توجه به تعریفی که ارائه شد، جمله‌های دنباله‌ی هندسی به صورت زیر هستند.

$$a, \underbrace{ar}_{\times r}, \underbrace{ar^2}_{\times r}, \underbrace{ar^3}_{\times r}, \dots$$

اطلاعات مربوط به این دنباله را نیز در جدول می‌نویسیم.

n	t_n	مقدار t_n
۱	t_1	$a = ar^0$
۲	t_2	$a \times r = ar^1$

$$\begin{array}{l|l|l}
 ۳ & t_۳ & a \times r \times r = ar^۲ \\
 ۴ & t_۴ & a \times r \times r \times r = ar^۳ \\
 \vdots & \vdots & \vdots \\
 n & t_n & a \times \underbrace{r \times r \times \dots \times r}_{n-1 \text{ مرتبه}} = ar^{n-1}
 \end{array}$$

دیدیم که:

جمله n ام يك دنباله هندسی (جمله عمومی آن) که جمله اول آن a و قدر نسبت آن r است به صورت $t_n = ar^{n-1}$ می باشد.



با توجه به تعریف ابتدایی، جملات یک دنباله هندسی که قدر نسبت آن $r=۲$ و جمله اول آن $a=۳$ باشد، را تعیین کنید.

داریم:

$$a = ۳$$

بنابراین در جای خالی اول عدد ۳ را می گذاریم.

$$\frac{۳}{t_1}, \text{---}, \text{---}, \text{---}$$

قدر نسبت این دنباله عدد $r=۲$ است. یعنی جمله دوم، ۲ برابر جمله اول است.

$$t_۲ = ۲ \times ۳ = ۶$$

و به همین ترتیب داریم:

$$t_۳ = ۶ \times ۲ = ۱۲$$

$$t_۴ = ۱۲ \times ۲ = ۲۴$$

بنابراین:

$$\frac{۳}{t_1} \quad \frac{۶}{t_۲} \quad \frac{۱۲}{t_۳} \quad \frac{۲۴}{t_۴}$$

در یک دنباله هندسی جمله اول ۵ و قدر نسبت آن $r=۳$ است. جمله عمومی آن را به دست بیاورید.



اگر z, y و x سه جمله متوالی از یک دنباله هندسی باشد، نشان دهید.



$$y^2 = x \times z$$



اگر بخواهیم بین دو عدد a و b به تعداد m واسطه‌ی هندسی درج کنیم، آن‌گاه

$$r^{m+1} = \frac{b}{a}$$



در یک دنباله‌ی هندسی با قدر نسبت ۲، بین دو عدد ۲ و ۱۶ چند واسطه‌ی هندسی می‌توانیم درج کنیم؟

$$r^{m+1} = \frac{2^4}{2} = 2^3 \Rightarrow m+1=3 \Rightarrow m=2$$

مادر بزرگ سارا در باغچه‌ی حیاط خود توت‌فرنگی پرورش می‌دهد. در سال اول او ۶ دانه کاشته است. در سال بعد، از توت‌فرنگی‌ها برداشت کرده و ۱۸ دانه کاشته است. او قصد دارد در سال آینده ۵۴ دانه بکارد.

الف) این اعداد تشکیل دنباله‌ی حسابی می‌دهند یا هندسی؟
ب) مادر بزرگ سارا، ۸ سال بعد چند دانه خواهد کاشت؟

الف) جدول مربوط به اطلاعات این سوال را رسم می‌کنیم.

n: سال کاشت دانه	۱	۲	۳	۴
t_n : تعداد دانه‌هایی که در سال n ام کاشته می‌شود.	۶	۱۸	۵۴	۱۶۲

می‌بینیم که هر جمله (به غیر از جمله‌ی اول) سه برابر جمله‌ی قبل از خودش است. بنابراین این اعداد تشکیل دنباله‌ی هندسی می‌دهند.

ب) هدف این سوال محاسبه‌ی t_8 است.

$$a = 6, r = 3$$

$$t_n = ar^{n-1} \Rightarrow t_8 = ar^7 = 6 \times (3)^7 = 13122$$

فصل ۲

نسبت‌های مثلثاتی

لازم است بدانیم که مثلثات یکی از شاخه‌های ریاضیات است که روابط بین طول اضلاع و زاویه‌های مثلث را مطالعه می‌کند. نخستین کاربرد آن در مطالعات ستاره‌شناسی بوده است.

در این درس ابتدا شما را با مفاهیم ابتدایی تشابه دو مثلث آشنا می‌کنیم و سپس با استفاده از آن نسبت‌های مثلثاتی را به دست می‌آوریم.

تشابه به معنی همانند بودن و به یکدیگر شبیه بودن است.

می‌دانیم نقشه هر مکانی با خود آن مکان متشابه است، یعنی در نقشه آن، همه ابعاد با نسبت ثابت و مشخصی کوچک شده‌اند و تناسب در آن رعایت شده است.

همچنین مهندسين ساختمان، محاسبات لازم برای یک مکان را روی ماکت آن انجام می‌دهند و پس از مشخص شدن جزئیات، اقدام به ساخت آن می‌کنند.

بنابراین می‌بینیم که تشابه در دنیای اطراف ما کاربرد زیادی دارد.

در سال‌های گذشته با مفهوم تشابه آشنا شدید.

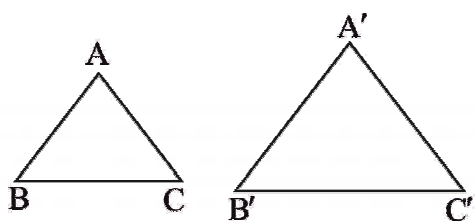
یادآوری

دو ضلعی را در صورتی متشابه گوئیم که:

۱- زاویه‌هایشان دو به دو مساوی باشند.

۲- اضلاعشان متناسب باشند، یعنی نسبت طول اضلاع متناظر، برابر باشند.

اگر دو مثلث ABC و $A'B'C'$ متشابه باشند، می‌نویسیم: $\triangle ABC \sim \triangle A'B'C'$



و داریم:

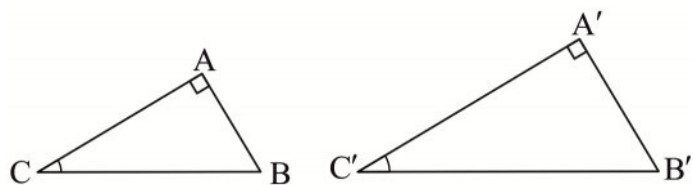
$$\frac{AB}{A'B'} = \frac{AC}{A'C'} = \frac{BC}{B'C'} \quad \text{و} \quad \hat{A} = \hat{A}', \hat{B} = \hat{B}', \hat{C} = \hat{C}'$$

در هندسه ثابت می‌شود:

هرگاه دو زاویه از یک مثلث، با دو زاویه از مثلث دیگر برابر باشد، آن دو مثلث متشابه‌اند.

نتیجه

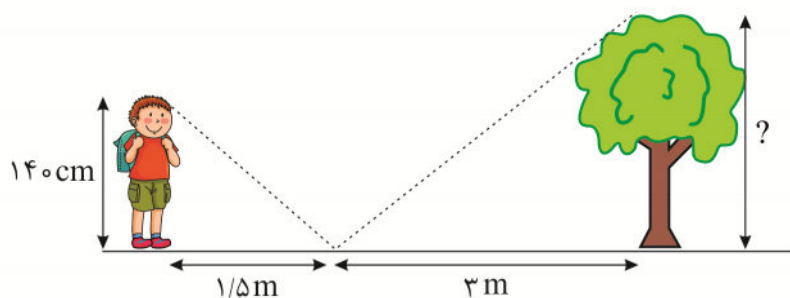
اگر در مثلث‌های قائم‌الزاویه ABC و $A'B'C'$ (مانند شکل زیر)، داشته باشیم $C = C'$ ، آن‌گاه $\triangle ABC \sim \triangle A'B'C'$.



در مثال زیر با کاربرد تشابه در مسئله آشنا می‌شوید.

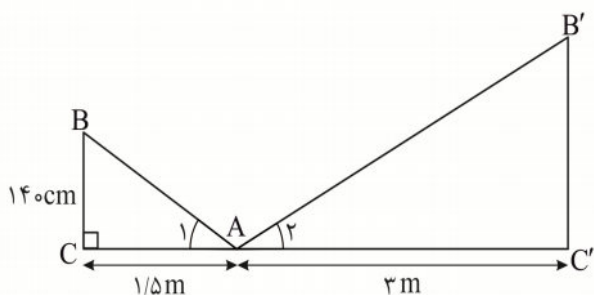
مثال

علی ۱۴۰ سانتی‌متر قد دارد. او یک آینه را روی زمین قرار می‌دهد و آن را به قدری جابه‌جا می‌کند تا بتواند بلندترین نقطه درخت را در آن ببیند. اگر فاصله علی از آینه $1/5$ متر و فاصله درخت تا آینه ۳ متر باشد، بلندی درخت چقدر است؟ (به شکل زیر نگاه کنید).



پاسخ

زاویه‌های $\hat{A}_1 = \hat{A}_2$ با هم برابرند (چرا؟)

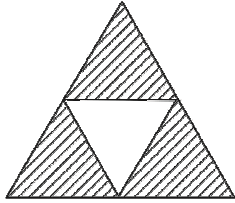


بنابراین دو مثلث ABC و $A'B'C'$ متشابه‌اند، داریم:

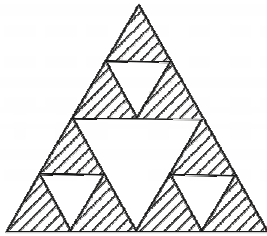
$$\frac{BC}{B'C'} = \frac{AC}{AC'} \Rightarrow \frac{140}{B'C'} = \frac{1/5}{3} \Rightarrow B'C' = 280 \text{ m}$$

بنابراین ارتفاع درخت ۲۸۰ سانتی‌متر است.

مثلث متساوی الاضلاعی را در نظر بگیرید. وسط اضلاع آن را به هم وصل کنید و مثلث متساوی الاضلاعی که در وسط پدید می آید را از آن حذف نمایید.

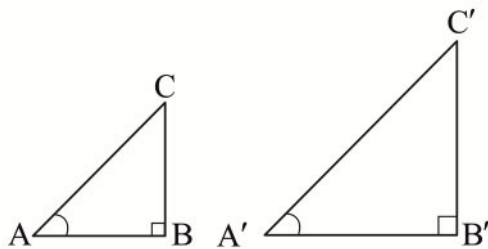


اکنون سه مثلث متساوی الاضلاع باقی مانده در شکل را در نظر بگیرید و وسط ضلع‌ها را در هر مثلث به هم وصل کرده و از درون هر یک، مثلث متساوی الاضلاعی که در وسط پدید می آید را حذف نمایید.



اگر این فرآیند را تا بی نهایت تکرار کنیم، شکل به دست آمده را مثلث سرپینسکی گوئیم. مثلث‌های به وجود آمده همگی با یکدیگر متشابه‌اند.

می‌دانیم اگر دو مثلث قائم‌الزاویه ABC و $A'B'C'$ مانند شکل زیر متشابه باشند، داریم:



$$\frac{AB}{A'B'} = \frac{BC}{B'C'} = \frac{AC}{A'C'}$$

آیا می‌توان این نسبت‌ها را به صورت زیر نوشت؟ (چرا؟)

(۱)

$$\frac{BC}{AB} = \frac{B'C'}{A'B'}$$

(۲)

$$\frac{AB}{BC} = \frac{A'B'}{B'C'}$$

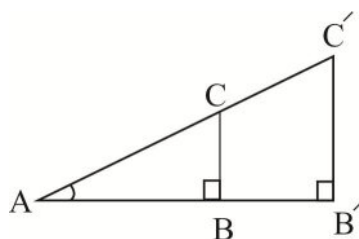
(۳)

$$\frac{BC}{AC} = \frac{B'C'}{A'C'}$$

(۴)

$$\frac{AB}{AC} = \frac{A'B'}{A'C'}$$

در ادامه از نسبت‌های بالا استفاده می‌شود، بنابراین به آن‌ها دقت کنید.

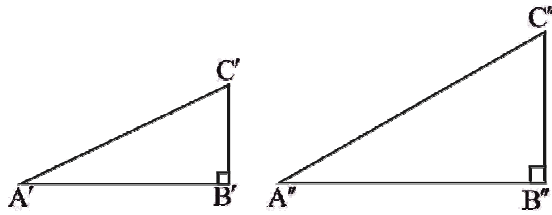


همان‌طور که گفته شد، دو مثلث ABC و $A'B'C'$ متشابه‌اند، در نتیجه زاویه-

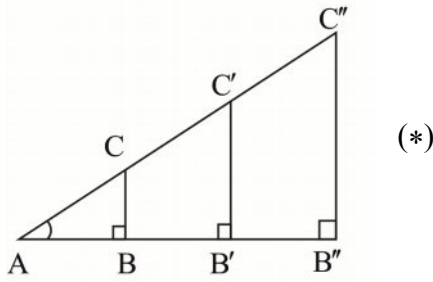
های متناظر آن‌ها با هم برابرند و اضلاع متناظرشان، با یکدیگر متناسبند، بنابراین می-

توان آن‌ها را به صورت روبه‌رو نیز رسم کرد.

حال مثلث $A''B''C''$ را در نظر بگیرید که با $A'B'C'$ متشابه است.



باتوجه به توضیحاتی که داده شد، می‌توان شکل زیر را رسم کرد.

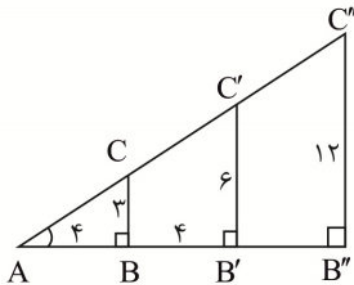


این روند را می‌توانیم به هر تعداد که بخواهیم ادامه دهیم و نسبت‌های زیر را داشته باشیم.

$$\frac{BC}{AB} = \frac{B'C'}{AB'} = \frac{B''C''}{AB''} = \dots = \text{مقدار ثابت}$$

مثال (**)

در شکل زیر مثلث‌های ABC و $AB'C'$ و $AB''C''$ متشابه‌اند. باتوجه به اندازه‌های داده شده طول AB'' چقدر است؟



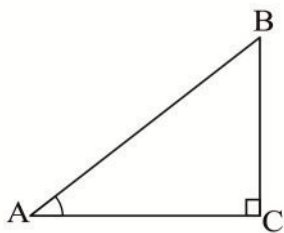
$$\frac{BC}{AB} = \frac{B''C''}{AB''} \Rightarrow \frac{3}{4} = \frac{12}{AB''} \Rightarrow AB'' = \frac{12 \times 4}{3} = 16$$

از این مقدار ثابت می‌توان به یک مفهوم جالب رسید که در ریاضیات بسیار کاربرد دارد.

تعریف

در مثلث قائم‌الزاویه ABC ، برای زاویه مشخص و حاده A نسبت طول ضلع مقابل به زاویه A به طول ضلع مجاور با آن، همواره مقداری ثابت است.

این مقدار ثابت را تانژانت زاویه A می‌نامیم و آن را با $\tan A$ نمایش می‌دهیم.



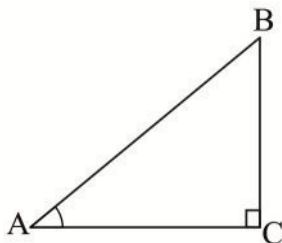
$$\tan A = \frac{BC}{AB}$$

در مثال (***) داریم:

$$\tan A = \frac{3}{4}$$

عکس زاویه A را کتانژانت می‌نامیم و آن را با $\cot A$ نشان می‌دهیم. به عبارت دیگر در مثلث قائم‌الزاویه ABC داریم:

$$\cot A = \frac{\text{طول ضلع مجاور به زاویه A}}{\text{طول ضلع مقابل به زاویه A}} = \frac{AC}{BC}$$



در مثال (***) داریم:

$$\cot A = \frac{4}{3}$$

حال برای شکل (*) می‌توان نسبت‌های (3) و (4) را به تعداد دلخواه نوشت و این نسبت‌ها نیز همواره مقدار ثابتی هستند

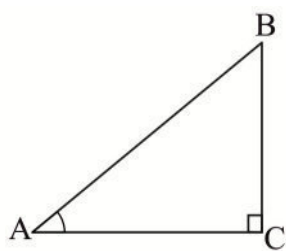
داریم:

$$\frac{BC}{AC} = \frac{B'C'}{A'C'} = \frac{B''C''}{A''C''} = \dots = \text{مقدار ثابت}$$

$$\frac{AB}{AC} = \frac{A'B'}{A'C'} = \frac{A''B''}{A''C''} = \dots = \text{مقدار ثابت}$$

تعریف

در مثلث قائم‌الزاویه و دلخواه ABC، برای زاویه مشخص و حاده A، نسبت طول ضلع مقابل به زاویه A به طول وتر، همواره مقدار ثابتی است، این مقدار ثابت را سینوس زاویه A می‌نامیم و آن را با $\sin A$ نمایش می‌دهیم.



$$\sin A = \frac{BC}{AB}$$

همچنین نسبت طول ضلع مجاور به زاویه A به طول وتر را کسینوس زاویه A می‌نامیم و آن را با $\cos A$ نمایش می‌دهیم.

$$\cos A = \frac{AC}{AB}$$

در مثال (***) داریم:

$$AC^2 = AB^2 + BC^2 = 4^2 + 3^2 = 16 + 9 = 25$$

$$\Rightarrow \sin A = \frac{3}{25}, \cos A = \frac{4}{25}$$

تا اینجا دیدیم که:

در یک مثلث قائم‌الزاویه، می‌توانیم بین اضلاع و زاویه‌ها رابطه‌ای داشته باشیم. در ریاضیات نسبت‌های سینوس، کسینوس، تانژانت و کتانژانت را نسبت‌های مثلثاتی گوئیم.

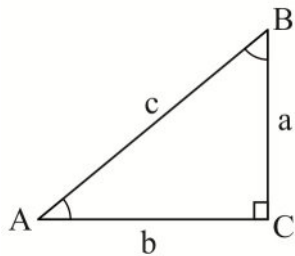
در ادامه قصد داریم نسبت‌های مثلثاتی را برای چند زاویه حاده به دست آوریم.



مثال

در مثلث قائم‌الزاویه ABC ، فرض کنید $\hat{A} = \hat{B} = 45^\circ$ باشد، بنابراین $AC = AB$ است.

داریم:



$$a^2 + b^2 = c^2 \xrightarrow{a=b} 2a^2 = c^2 \Rightarrow c = \sqrt{2}a$$

$$\sin A = \sin 45^\circ = \frac{a}{\sqrt{2}a} = \frac{1}{\sqrt{2}} = \frac{\sqrt{2}}{2}$$

$$\cos A = \cos 45^\circ = \frac{b}{\sqrt{2}a} = \frac{a}{\sqrt{2}a} = \frac{\sqrt{2}}{2}$$

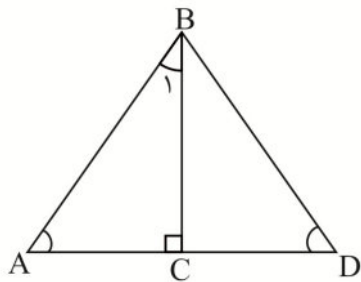
$$\tan A = \tan 45^\circ = \frac{a}{b} = \frac{a}{a} = 1$$

$$\cot A = \cot 45^\circ = \frac{1}{\tan A} = \frac{1}{1} = 1$$

همان طور که قبلاً گفتیم نسبت‌های مثلثاتی برای یک زاویه مشخص، مقادیر ثابتی هستند. بنابراین می‌توانید نسبت‌های

به دست آمده در این مثال را برای زاویه 45° به خاطر بسپارید.

مثال



در مثلث متساوی الاضلاع ABD ارتفاع BC را رسم می‌کنیم.

می‌دانیم $\hat{A} = 60^\circ$ و $\hat{B}_1 = 30^\circ$ است.

داریم:

$$AD = AB, \quad AC = \frac{AD}{2} \Rightarrow AC = \frac{AB}{2}$$

$$(AB)^2 = (AC)^2 + (BC)^2 \Rightarrow (BC)^2 = (AB)^2 - \left(\frac{AB}{2}\right)^2 = \frac{3(AB)^2}{4}$$

$$\Rightarrow BC = \frac{\sqrt{3}}{2} AB$$

بنابراین نتیجه می‌شود:

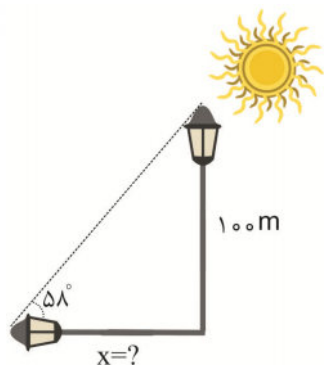
$$\sin 60^\circ = \cos 30^\circ = \frac{BC}{AB} = \frac{\frac{\sqrt{3}}{2} AB}{AB} = \frac{\sqrt{3}}{2}$$

$$\sin 30^\circ = \cos 60^\circ = \frac{AC}{AB} = \frac{\frac{1}{2} AB}{AB} = \frac{1}{2}$$

$$\tan 30^\circ = \cot 60^\circ = \frac{AC}{BC} = \frac{\frac{1}{2} AB}{\frac{\sqrt{3}}{2} AB} = \frac{1}{\sqrt{3}} = \frac{\sqrt{3}}{3}$$

$$\tan 60^\circ = \cot 30^\circ = \frac{BC}{AC} = \frac{\frac{\sqrt{3}}{2} AB}{\frac{1}{2} AB} = \sqrt{3}$$

توصیه می‌شود مقادیر به‌دست آمده را به خاطر بسپارید.



فرض کنید یک تیر چراغ برق ۱۰ متر بلندی داشته باشد. طول

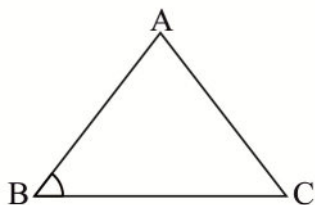
تقریبی سایه آن را هنگامی که زاویه تابش اشعه‌های خورشید با زمین 58°

درجه باشد، محاسبه کنید. ($\tan 58^\circ \approx 1/6003$)

فرض کنید طول یک سطح شیب‌دار ۵۰m و زاویه آن با زمین 30° باشد. اگر شما تا بالاترین نقطه این سطح شیب‌دار بالا بروید، ارتفاع شما تا زمین چقدر است؟



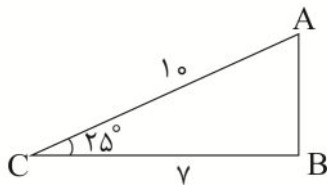
در هر مثلث دلخواه ABC ، با معلوم بودن اندازه دو ضلع و زاویه بین آنها می‌توان مساحت مثلث را با رابطه زیر محاسبه کرد:



$$\text{مساحت } \triangle ABC = \frac{1}{2} AB \times BC \times \sin B$$



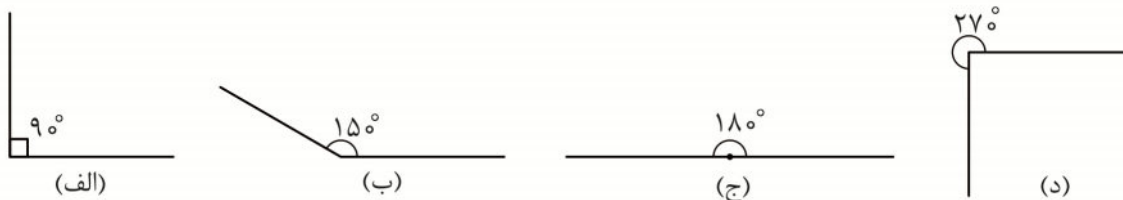
مساحت مثلث زیر را پیدا کنید. ($\sin 25^\circ \approx 0.42$)



$$\text{مساحت } \triangle ABC = \frac{1}{2} \times 10 \times 7 \times \sin 25^\circ = \frac{1}{2} \times 10 \times 7 \times 0.42 = 14.7$$

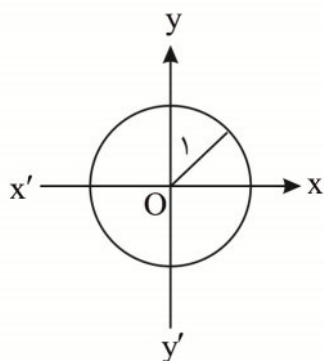
دایره مثلثاتی

در درس گذشته، با استفاده از مثلث قائم‌الزاویه، توانستیم نسبت‌های مثلثاتی را برای یک زاویه حاده و مشخص محاسبه کنیم. آیا با استفاده از اطلاعات درس قبل می‌توانید نسبت‌های مثلثاتی را برای زوایای زیر به دست آورید؟

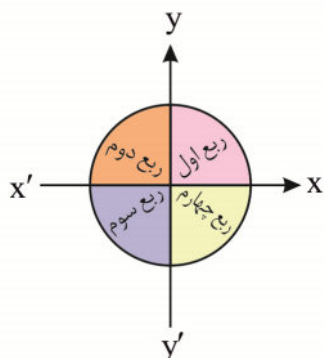


همان‌طور که مشاهده می‌کنید مثلث قائم‌الزاویه به تنهایی برای محاسبه نسبت‌های مثلثاتی کافی نیست و لازم است از ابزار دیگری هم استفاده کنیم که دارای جهت و اندازه باشد. آیا برای این کار ابزاری سراغ دارید؟ در این درس قصد داریم ابزاری به نام دایره مثلثاتی را به شما معرفی کنیم.

دستگاه مختصات را در نظر بگیرید. دایره‌ای به شعاع واحد (۱) و مرکز مبدأ مختصات روی آن رسم می‌کنیم و آن را دایره مثلثاتی می‌نامیم.



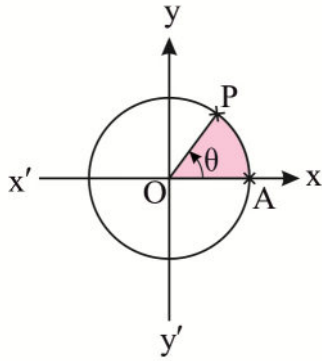
در ادامه خصوصیات دایره مثلثاتی را بررسی می‌کنیم. همان‌طور که مشاهده می‌کنید این دایره به چهار قسمت مساوی تقسیم شده است. هر کدام از این قسمت‌ها یک ناحیه مثلثاتی ($\frac{1}{4}$ دایره مثلثاتی) هستند و لازم است آن‌ها را از یکدیگر متمایز کنیم. (چرا؟) این ناحیه‌های مثلثاتی را به صورت زیر نام‌گذاری می‌کنیم.



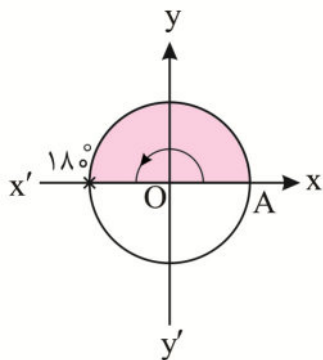
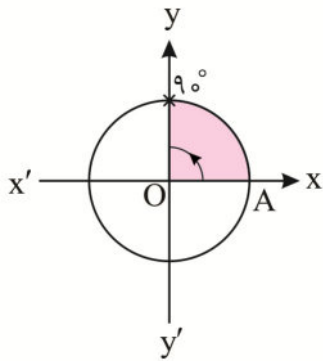
حال باید بتوانیم زاویه مورد نظر خود را روی این دایره مشخص کنیم.

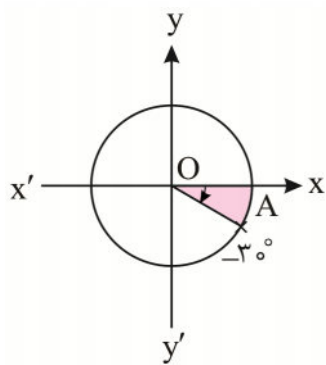
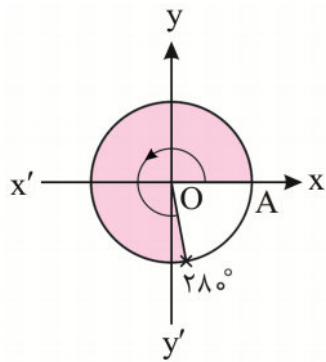
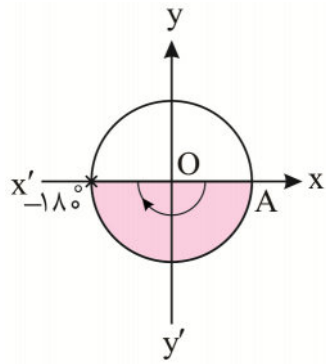
ابتدا نقطه A را به عنوان مبدأ حرکت در نظر می‌گیریم و قرارداد می‌کنیم اگر نقطه P روی دایره در خلاف جهت

عقربه‌های ساعت حرکت کند، زاویه AOP (θ) مثبت و اگر در جهت عقربه‌های ساعت حرکت کند این زاویه منفی است.



زاویه‌های 90° ، 180° ، -180° ، 288° و -30° روی دایره مثلثاتی مشخص شده‌اند.





این زاویه در ناحیه‌ی چهارم قرار دارد.

این زاویه در ناحیه‌ی چهارم قرار دارد.



زاویه‌های 0° ، 90° ، 180° ، 270° و 360° زوایای مرزی هستند و آن‌ها را در هیچ یک از ناحیه‌های مثلثاتی در نظر نمی‌گیریم.

باتوجه به آنچه در مورد ناحیه‌های مثلثاتی گفتیم، داریم:

اگر $0^\circ < \theta < 90^\circ$ باشد، آن‌گاه θ در ربع اول است.

اگر $90^\circ < \theta < 180^\circ$ باشد، آن‌گاه θ در ربع دوم است.

اگر $180^\circ < \theta < 270^\circ$ باشد، آن‌گاه θ در ربع سوم است.

اگر $270^\circ < \theta < 360^\circ$ باشد، آن‌گاه θ در ربع چهارم است.

مثال

در هر کدام از ناحیه‌های مثلثاتی، دو زاویه مشخص کنید.

پاسخ

در ربع اول : $30^\circ, 68^\circ$

در ربع دوم : $97^\circ, 175^\circ$

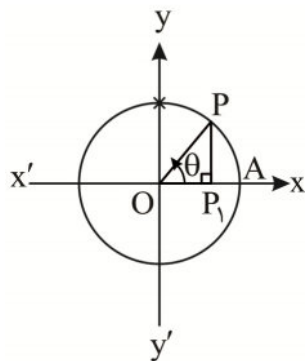
در ربع سوم : $190^\circ, 268^\circ$

در ربع چهارم : $290^\circ, 356^\circ$

حال فرض کنید P نقطه‌ای روی دایره مثلثاتی در ربع اول باشد و θ زاویه حاده‌ای بین پاره خط OP و محور X باشد. همچنین فرض کنید P_1 پای خط عمودی باشد که از نقطه P روی محور X رسم شده است. در مثلث قائم‌الزاویه OPP_1 داریم:

$$OP = 1, PP_1 = \sin \theta, OP_1 = \cos \theta$$

بنابراین $P = (\cos \theta, \sin \theta)$ ، از طرفی P نمایش نقطه دلخواه (x, y) است. در نتیجه:



$$x = \cos \theta, y = \sin \theta \quad (1)$$

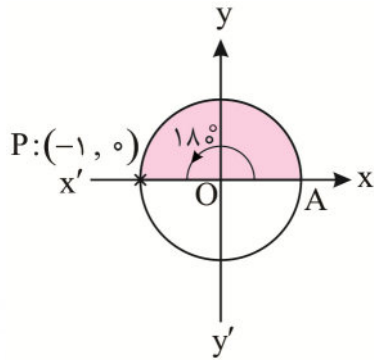
دو رابطه به دست آمده، در محاسبه نسبت‌های مثلثاتی برای هر زاویه دلخواه استفاده می‌شوند. لازم است بدانیم که در دایره مثلثاتی علاوه بر مقدار، جهت (مثبت یا منفی بودن) نیز در نظر گرفته می‌شود. (علامت X و Y مهم است و لحاظ می‌شود)

مثال

حال با توجه به مطالب گفته شده، $\sin 180^\circ$ ، $\cos 180^\circ$ و $\tan 270^\circ$ را حساب می‌کنیم.

برای به دست آوردن $\sin 18^\circ$ ، ابتدا زاویه 18° را روی دایره مثلثاتی مشخص می‌کنیم.

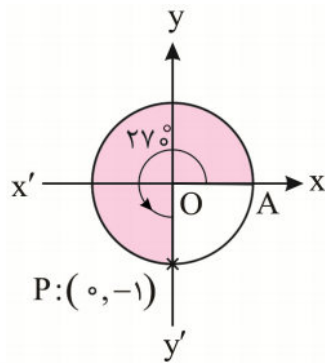
همان طور که مشاهده می‌کنید، برای زاویه 18° ، مختصات نقطه‌ی P، $(-1, 0)$ است.



بنابراین طبق رابطه (۱) داریم:

$$\sin 18^\circ = y = 0, \quad \cos 18^\circ = x = -1$$

برای محاسبه $\tan 27^\circ$ نیز به همین ترتیب عمل می‌کنیم.



می‌دانیم $\tan 27^\circ = \frac{y}{x} = \frac{\sin 27^\circ}{\cos 27^\circ}$ است.

$$\left. \begin{array}{l} x = \cos 27^\circ = 0 \\ y = \sin 27^\circ = -1 \end{array} \right\} \Rightarrow \tan 27^\circ = \frac{-1}{0} \quad \text{تعریف نشده}$$

مثال 

جدول زیر را کامل کنید.

مقدار	0°	90°	180°	270°	360°
$\sin \theta$					
$\cos \theta$					
$\tan \theta$					
$\cot \theta$					

پاسخ 

مقدار	0°	90°	180°	270°	360°
$\sin \theta$	۰	۱	۰	-۱	۰
$\cos \theta$	۱	۰	-۱	۰	۱
$\tan \theta$	۰	تعریف نشده	۰	تعریف نشده	۰
$\cot \theta$	تعریف نشده	۰	تعریف نشده	۰	تعریف نشده

لازم است که نسبت‌های مثلثاتی جدول بالا را به خاطر بسپارید.

تا اینجا توانستیم نسبت‌های مثلثاتی را روی ناحیه‌های مرزی دایره مثلثاتی محاسبه کنیم.

یکی دیگر از نکاتی که در حل مسائل به ما کمک می‌کند، این است که بتوانیم علامت هر یک از نسبت‌های مثلثاتی را در

ناحیه‌های مثلثاتی تشخیص دهیم.

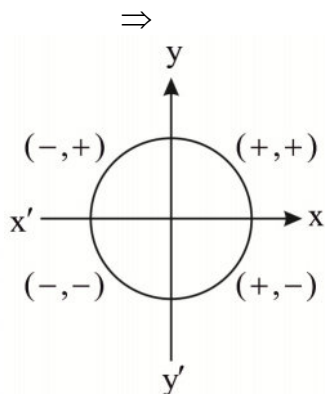
مثال

علامت نسبت‌های مثلثاتی را در هر یک از ناحیه‌های مشخص شده بنویسید.

مقدار	ربع اول	ربع دوم	ربع سوم	ربع چهارم
$\sin \theta$				
$\cos \theta$				
$\tan \theta$				
$\cot \theta$				

پاسخ

ابتدا علامت‌های x و y را در ناحیه‌های مثلثاتی مشخص می‌کنیم.



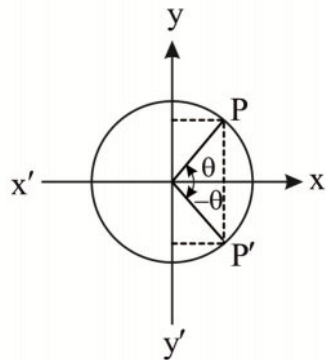
مقدار	ربع اول	ربع دوم	ربع سوم	ربع چهارم
$\sin \theta$	+	+	-	-
$\cos \theta$	+	-	-	+
$\tan \theta$	+	-	+	-
$\cot \theta$	+	-	+	-

نکته

برای هر زاویه دلخواه θ داریم:

$$-1 \leq \cos \theta \leq 1, \quad -1 \leq \sin \theta \leq 1$$

مثال



دو زاویه θ و $-\theta$ مشخص شده در شکل را در نظر بگیرید.

انتهای این دو زاویه، دایره مثلثاتی را در نقاط P و P' قطع می‌کنند.

اگر مختصات نقطه P را (x, y) در نظر بگیریم، مختصات نقطه P' به صورت $(x, -y)$ است.

$$\cos(-\theta) = \frac{x}{1} = x$$

بنابراین داریم:

$$\sin(-\theta) = \frac{-y}{1} = -y$$

$$P' : (x, -y) = (\cos(-\theta), \sin(-\theta))$$

$$P : (x, y) = (\cos \theta, \sin \theta)$$

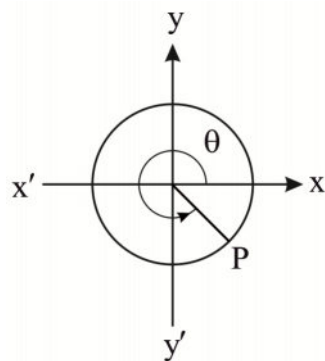
می‌توان نتیجه گرفت که:

$$\cos(-\theta) = \cos \theta, \quad \sin(-\theta) = -\sin \theta$$

$$\tan(-\theta) = \frac{\sin(-\theta)}{\cos(-\theta)} = \frac{-\sin \theta}{\cos \theta} = -\tan \theta$$

$$\cot(-\theta) = \frac{\cos(-\theta)}{\sin(-\theta)} = \frac{\cos \theta}{-\sin \theta} = -\cot \theta$$

اگر در شکل زیر، طول نقطه P عدد $\frac{2}{5}$ باشد، نسبت‌های مثلثاتی زاویه θ را بنویسید.
(توجه کنید نقطه P روی دایره مثلثاتی است)

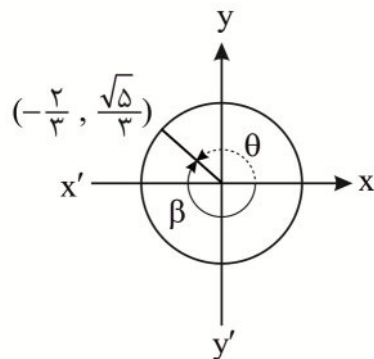


نسبت‌های مثلثاتی زاویه 195° را بر حسب زاویه 15° محاسبه کنید.



مثال

باتوجه به آنچه که در شکل می‌بینید، نسبت‌های مثلثاتی را برای زاویه θ به دست آورید.



پاسخ

می‌بینیم که

$$\left(-\frac{2}{3}\right)^2 + \left(\frac{\sqrt{5}}{3}\right)^2 = \frac{4}{9} + \frac{5}{9} = 1$$

بنابراین این نقطه روی دایره واحد قرار دارد.

در نتیجه داریم:

$$\cos \theta = x = -\frac{2}{3}$$

$$\sin \theta = y = \frac{\sqrt{5}}{3}$$

$$\tan \theta = \frac{y}{x} = \frac{\frac{\sqrt{5}}{3}}{-\frac{2}{3}} = -\frac{\sqrt{5}}{2}$$

$$\cot \theta = \frac{x}{y} = \frac{1}{\tan \theta} = -\frac{1}{\frac{\sqrt{5}}{2}} = -\frac{2}{\sqrt{5}} = -\frac{2\sqrt{5}}{5}$$

در همین مثال، به نظر شما آیا روابط زیر برقرارند؟ (چرا؟)

$$\cos \theta = \cos \beta$$

$$\sin \theta = \sin \beta$$

$$\tan \theta = \tan \beta$$

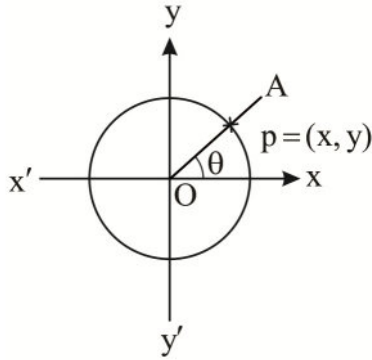
$$\cot \theta = \cot \beta$$

رابطه شیب خط با تانژانت زاویه

در این قسمت از درس قصد داریم رابطه بین شیب خط و تانژانت را بیابیم.

به مثال زیر توجه کنید.

فرض کنیم OA خطی در ربع اول باشد، همان طور که مشاهده می‌کنید مختصات دو نقطه از این خط را داریم، $\{p, 0\}$ بنابراین:



$$\text{شیب خط} = \frac{y - 0}{x - 0} = \frac{y}{x}$$

$$\tan \theta = \frac{y}{x}$$

در نتیجه

$$\text{شیب خط} = \tan \theta$$



شیب خط در هر نقطه برابر است با تانژانت زاویه‌ای که آن خط با جهت مثبت محور افقی (محور x ها) می‌سازد.

$$m = \tan \theta$$



معادله خطی را بنویسید که از نقطه $(1, 2)$ می‌گذرد و زاویه آن با محور x ها 45° است.



داریم:

$$y = \tan 45^\circ x + b \Rightarrow y = x + b$$

نقطه $(2, 1)$ در این معادله خط صدق می‌کند. در نتیجه:

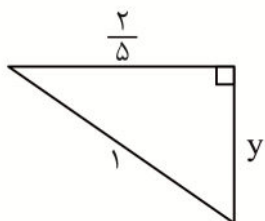
$$2 = 1 + b \Rightarrow b = 1$$

معادله این خط به صورت زیر است:

$$y = x + 1$$



همان طور که تاکنون دیدیم، برای به دست آوردن نسبت‌های مثلثاتی زاویه θ ، لازم است که مقدار x و y را داشته باشیم.



باتوجه به مثلث قائم‌الزاویه مشخص شده داریم:

$$\left(\frac{2}{5}\right)^2 + y^2 = 1 \Rightarrow y^2 = 1 - \frac{4}{25} = \frac{21}{25}$$
$$\Rightarrow y = -\frac{\sqrt{21}}{5}$$

θ در ربع چهارم است، پس مقدار y منفی است.

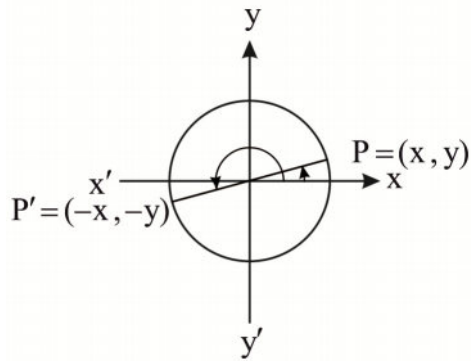
$$x = \frac{2}{5}, y = -\frac{\sqrt{21}}{5}$$

$$\cos \theta = x = \frac{2}{5}, \sin \theta = y = -\frac{\sqrt{21}}{5}$$

$$\tan \theta = \frac{y}{x} = \frac{-\frac{\sqrt{21}}{5}}{\frac{2}{5}} = -\frac{\sqrt{21}}{2}, \cot \theta = \frac{x}{y} = \frac{\frac{2}{5}}{-\frac{\sqrt{21}}{5}} = -\frac{2}{\sqrt{21}} = \frac{-2\sqrt{21}}{21}$$



ابتدا زاویه 15° و 195° را مشخص می‌کنیم. مانند گذشته دو نقطه P و P' را روی دایره مثلثاتی نام‌گذاری می‌کنیم. اگر مختصات نقطه P برابر با (x, y) باشد، مختصات نقطه P' برابر با $(-x, -y)$ است.



$$P : (x, y) = (\cos 15^\circ, \sin 15^\circ)$$

$$P' : (-x, -y) = (\cos 195^\circ, \sin 195^\circ)$$

$$\Rightarrow \cos 195^\circ = -\cos 15^\circ, \sin 195^\circ = -\sin 15^\circ$$

$$\tan 195^\circ = \frac{\sin 195^\circ}{\cos 195^\circ} = \frac{-\sin 15^\circ}{-\cos 15^\circ} = \tan 15^\circ$$

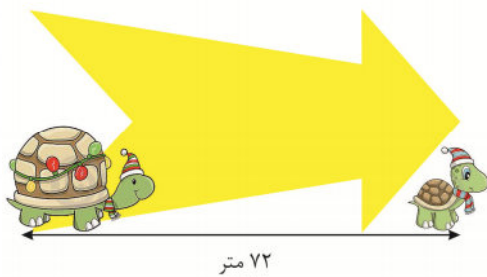
$$\cot 195^\circ = \frac{\cos 195^\circ}{\sin 195^\circ} = \frac{-\cos 15^\circ}{-\sin 15^\circ} = \cot 15^\circ$$

فصل ۳

ریشه و توان عددهای حقیقی



مثال‌های زیر را با دقت بخوانید و در مورد جواب آن‌ها فکر کنید.



👉 لاک پشت مادر و لاک پشت بچه به فاصله‌ی ۷۲ متری از یکدیگر قرار دارند. لاک پشت مادر در هر ساعت $\sqrt{37}$ متر به سمت راست حرکت می‌کند و لاک پشت بچه نیز، در هر ساعت $\sqrt{10}$ متر به سمت راست می‌رود. آن‌ها

هم‌زمان شروع به حرکت می‌کنند، این مادر و فرزند پس از چند ساعت به یکدیگر می‌رسند؟

👉 تویی را از ارتفاع ۱۰۰ متری رها کرده‌ایم. توپ در هر بار که به زمین برخورد می‌کند تا $\frac{2\sqrt{2}}{7}$ ارتفاع

قبلی خود بالا می‌آید. ارتفاع توپ پس از دو برخورد با زمین چقدر است؟



👉 یک تاس را چهار بار می‌اندازیم. احتمال این که مجموع اعداد رو شده

کمتر از ۱۵ باشد را به دست آورید.

همان‌طور که مشاهده کردید، ریشه و توان دو مفهوم کاربردی در ریاضیات هستند و در واقع از آن‌ها به عنوان یک ابزار در

حل مسئله‌های ریاضی استفاده می‌شود. در سال‌های گذشته با این دو مفهوم آشنا شدید. در این فصل قصد داریم اطلاعات

شما را در این زمینه کامل‌تر کنیم. خوب است ابتدا مروری بر مطالب گفته شده در سال‌های گذشته داشته باشیم.

(حداقل به چند مورد از سوال‌های زیر جواب بدهید.)



باتوجه به دانسته‌های خود پاسخ دهید.

۱) 2^5

۲) $2 \times 4^3 + 5 \times 2^3$

۳) $(-9)^3$

۴) $\frac{a \times a \times a \times a}{b \times b}$

۵) $(3 \times 2)^2$

۶) $(\frac{1}{2})^2 + (\frac{1}{2})^3$

۷) $(\frac{3}{2})^2 - 2(\frac{1}{3})^2$

۸) $3^2 \times 3^3$

۹) $(-4^2)^3$

۱۰) $(ab^3)^3$

۱۱) $(-2^3)^4 \times (-2)^2$

۱۲) $(-\frac{2}{3})^3 \times (-\frac{2}{3})^2$

۱۳) $(\frac{3}{2})^{12} \div (\frac{3}{2})^5$

۱۴) $(-8)^5 \div (-4)^5$

۱۵) 2^{-3}

۱۶) $(\frac{3}{4})^{-2}$

۱۷) $\frac{a^3 \times b \times z^4}{a^{-1} \times b^6 \times z^2}$

۱۸) $2^{-1} \times 3^{-2}$

۱۹) $a^{-2} + (\frac{1}{a})^2$

۲۰) $(\frac{1}{2})^0 + 3^0$



یکی از نکاتی که در به‌دست آوردن ریشه‌های دوم و سوم به ما کمک می‌کند این است که بتوانیم عدد را طوری تجزیه کنیم که به ترتیب توان‌های ۲ و ۳ در آن ظاهر شوند (در صورت امکان).



باتوجه به مطالبی که در مورد ریشه و رادیکال بیان شد، به سوالات زیر پاسخ دهید.

۱) $\sqrt{16}$

۲) $-\sqrt{16}$

۳) $\sqrt{\frac{1}{9}}$

۴) $-\sqrt{\frac{1}{9}}$

۵) $\sqrt{-25}$

۶) ریشه‌ی دوم عدد ۲۵

۷) مجذور عدد ۱۱

۸) $\sqrt{3} \times \sqrt{9}$

$$9) \sqrt{9} + \sqrt{16}$$

$$11) \sqrt{\frac{49 \times 36}{64}}$$

ریشه‌ی دوم عدد ۳ (۱۳)

$$15) \sqrt[3]{-27}$$

$$17) (\sqrt[3]{7})^3$$

$$19) \sqrt[3]{\frac{8}{125}}$$

ریشه‌ی سوم عدد ۵- (۲۱)

$$10) \sqrt{\frac{121}{25}}$$

$$12) (\sqrt{6})^2$$

ریشه‌ی دوم عدد ۹- (۱۴)

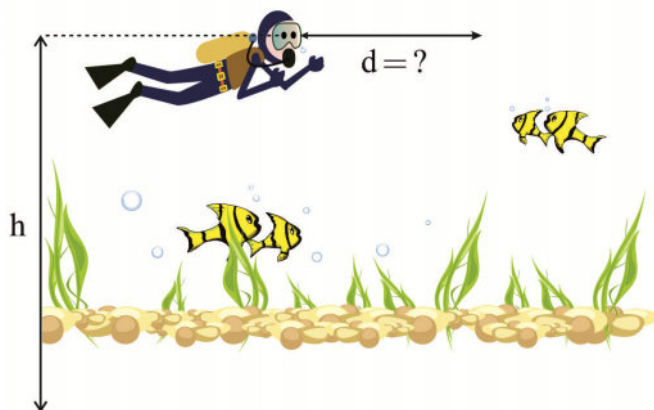
$$16) \sqrt[3]{-\frac{1}{64}}$$

$$18) \sqrt[3]{4} \times \sqrt[3]{16}$$

$$20) \frac{\sqrt[3]{-192}}{\sqrt[3]{3}}$$

$$22) \sqrt[3]{-729} \times \sqrt{36}$$

به مثال زیر توجه کنید:



فرض کنید چشم‌های یک غواص در ارتفاع h متری از کف دریا قرار داشته باشد و او بتواند d متری افقی خود را ببیند، اگر $d = 3/57 \sqrt{h^2 + 1}$ باشد، با فرض این‌که فاصله‌ی چشم‌های این شخص از کف دریا ۵ متر باشد، فاصله‌ی دید افقی این شخص (d) را محاسبه کنید.

جواب این سوال به صورت زیر است:

$$d = 3/57 \times \sqrt{h^2 + 1} \quad \underline{h=5} \quad 3/57 \times \sqrt{26}$$

بنابراین لازم است که مقدار $\sqrt{26}$ را به دست آوریم. از طرفی می‌دانیم:

$$\sqrt[3]{27} = \sqrt[3]{3^3} = 3$$

چون عدد ۲۶ به ۲۷ خیلی نزدیک است، حدس می‌زنیم ریشه‌ی سوم ۲۶، عدد $2/7$ (یک عدد نزدیک به ۳) باشد.

برای این‌که حدس خود را آزمایش کنیم، مقدار $(2/7)^3$ را محاسبه می‌کنیم.

$$(2/7)^3 = 2/7 \times 2/7 \times 2/7 = 19/683$$

عدد به دست آمده نتیجه‌ی مطلوبی نبود.

واضح است عددی که حدس می‌زنیم باید کمتر از ۳ باشد، بنابراین عدد $2/8$ را امتحان می‌کنیم.

$$(2/8)^3 = 21/952 \quad \text{داریم:}$$

وضعیت بهتر شد، اما کاملاً مطلوب نیست، عدد $2/9$ را امتحان می‌کنیم:

$$(2/9)^3 = (2/9)^2 \times 2/9 = 24/389 \approx 24/4$$

این عدد با تقریب کمتر از $0/1$ تا حد خوبی به ۲۶ نزدیک است.

اگر بخواهیم تا تقریبی کمتر از $0/01$ جلو برویم، می‌توانیم عدد دقیق‌تری را به دست بیاوریم.

عدد $2/96$ را امتحان می‌کنیم.

$$(2/96)^3 = (2/96)^2 \times 2/96 = 25/934336$$

این عدد بسیار به خواسته‌ی ما نزدیک است.

بنابراین:

$$\sqrt[3]{26} \approx 2/96$$



اگر ماشین حساب خوبی داشته باشید، می‌توانید مقدار تقریبی $\sqrt[3]{26}$ را تا چندین رقم اعشاری به دست آورید، اما هیچ‌گاه نمی‌توانید مقدار دقیق آن را به صورت اعشاری به دست بیاورید. در این صورت تنها می‌توانید رقم‌های اعشار بیشتری ببینید!

باتوجه به این که همواره در ریاضی سعی می‌شود، خطا به کمترین مقدار ممکن برسد، برای نمایش این عدد از $\sqrt[3]{26}$ استفاده می‌کنیم، اما در عمل و در زندگی واقعی مقدار تقریبی آن را لازم داریم. بنابراین باید بتوانیم مقدار تقریبی را به دست بیاوریم.

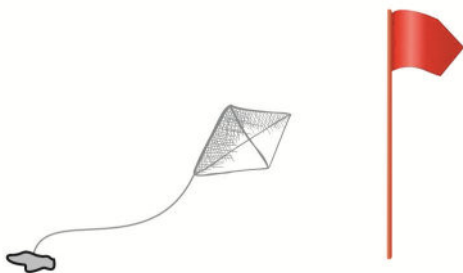
در نتیجه پاسخ این سوال به صورت زیر به دست می‌آید:

$$d = 3/57 \times \sqrt[3]{26} \approx 3/57 \times 2/96 = 10/5672$$

این غواص می‌تواند تقریباً تا $10/5$ متری افقی را ببیند.



فرض کنید یک بادبادک کاغذی با نخ به زمین بسته شده است. هنگامی که نسیم می‌وزد، بادبادک در راستای میله‌ی پرچم بالا می‌رود. اگر فاصله‌ی میله‌ی پرچم با آن نقطه از زمین که بادبادک بسته شده است ۳ متر و طول نخ بادبادک ۱۱ متر باشد، ارتفاع بادبادک از زمین چقدر است؟



خوب است مربع اعداد زیر را به خاطر بسپاریم، زیرا در طول حل مسائل از آنها استفاده‌ی زیادی می‌شود.

$$11^2 = 121$$

$$14^2 = 196$$

$$17^2 = 289$$

$$12^2 = 144$$


$$15^2 = 225$$

$$18^2 = 324$$

$$13^2 = 169$$

$$16^2 = 256$$

$$19^2 = 361$$

مقدار تقریبی یا دقیق ریشه‌ها را محاسبه و روی محور اعداد، مشخص کنید. 

۱) $\sqrt[3]{8}$

۲) $\sqrt{23}$

۳) $\sqrt[3]{6}$

۴) $-\sqrt[3]{1}$

۵) $\sqrt[3]{-64}$

۶) $\sqrt{324}$

معرفی ریشه‌های چهارم و پنجم

ریشه‌های چهارم یک عدد مثبت، به اعدادی گفته می‌شود که وقتی به توان چهار می‌رسند برابر با آن عدد شوند. به طور مشابه ریشه‌ی پنجم یک عدد، به عددی می‌گویند که وقتی به توان پنج برسد، مساوی آن عدد شود.



چون $(3)^4 = (-3)^4 = 81$ بنابراین ± 3 ریشه‌های چهارم 81 هستند.

باتوجه به این که $2^5 = 32$ می‌شود. بنابراین $\sqrt[5]{32} = 2$.



اگر بخواهیم رادیکال عدد مثبت a را با فرجه چهارم به دست بیاوریم، حاصل فقط یک مقدار مثبت خواهد بود، اما اگر قصد داشته باشیم ریشه‌ها را به دست بیاوریم، دو جواب مثبت و منفی به دست می‌آید.

چرا حاصل $\sqrt[4]{(-2)^4}$ چه عددی است؟



$$\sqrt[4]{(-2)^4} = |-2| = 2$$

اگر (-4) ریشه‌ی پنجم a باشد، a چه عددی است؟



(-4) ریشه‌ی پنجم a است. یعنی $a = (-4)^5$ ، بنابراین:

$$a = -1024$$

حاصل عبارت‌های زیر را به دست آورید.

۱) $\frac{\sqrt[5]{-32}}{\sqrt[4]{81}}$

۲) $3 \times \sqrt[5]{3125} + 7 \sqrt[4]{1296}$

۳) $\sqrt[5]{a^1 \cdot b^7 \cdot c^{-6}}$

۴) $\sqrt[5]{72}$

۵) $\sqrt[5]{\frac{1}{10000000000}}$

۶) $\sqrt[5]{0.00243}$

۷) $\sqrt[4]{120000}$



$$۱) ۲^{\Delta} = ۲ \times ۲ \times ۲ \times ۲ \times ۲ = ۳۲$$

$$۲) ۲ \times ۴^{\Gamma} + ۵ \times ۲^{\Gamma} = ۲ \times (۴ \times ۴ \times ۴) + ۵ \times (۲ \times ۲ \times ۲) = ۲ \times ۶۴ + ۵ \times ۸ = ۱۲۸ + ۴۰ = ۱۶۸$$

$$۳) (-۹)^{\Gamma} = (-۹) \times (-۹) \times (-۹) = -۷۲۹$$

$$۴) \frac{a \times a \times a \times a}{b \times b} = \frac{a^{\Gamma}}{b^{\Gamma}}$$

$$۵) (۳ \times ۲)^{\Gamma} = ۶^{\Gamma} = ۳۶$$

$$۶) \left(\frac{1}{۲}\right)^{\Gamma} + \left(\frac{1}{۲}\right)^{\Gamma} = \frac{(1)^{\Gamma}}{۲^{\Gamma}} + \frac{(1)^{\Gamma}}{۲^{\Gamma}} = \frac{1}{۲} + \frac{1}{۲} = \frac{۲+1}{۲} = \frac{۳}{۲}$$

$$۷) \left(\frac{۳}{۲}\right)^{\Gamma} - ۲\left(\frac{1}{۳}\right)^{\Gamma} = \frac{۳^{\Gamma}}{۲^{\Gamma}} - ۲ \times \frac{1}{۳^{\Gamma}} = \frac{۹}{۴} - \frac{۲}{۹} = \frac{۸۱-۸}{۳۶} = \frac{۷۳}{۳۶}$$

$$۸) ۳^{\Gamma} \times ۳^{\Gamma} = ۳^{\Gamma+\Gamma} = ۳^{\Delta}$$

$$۹) (-۴^{\Gamma})^{\Gamma} = (-۴)^{\Gamma} = (-۱ \times ۴)^{\Gamma} = (-۱)^{\Gamma} \times ۴^{\Gamma} = ۱ \times ۴^{\Gamma} = (۲^{\Gamma})^{\Gamma} = ۲^{1\Gamma} = ۴۰۹۶$$

$$۱۰) (ab^{\Gamma})^{\Gamma} = a^{\Gamma} (b^{\Gamma})^{\Gamma} = a^{\Gamma} b^{\Delta}$$

$$۱۱) (-۲^{\Gamma})^{\Gamma} \times (-۲)^{\Gamma} = (-۲)^{1\Gamma} \times (-۲)^{\Gamma} = (-۲)^{1\Gamma} = (-۱)^{1\Gamma} \times ۲^{1\Gamma} = ۲^{1\Gamma} = ۱۶۳۸۴$$

$$۱۲) \left(-\frac{۲}{۳}\right)^{\Gamma} \times \left(-\frac{۲}{۳}\right)^{\Gamma} = \left(-\frac{۲}{۳}\right)^{\Gamma+\Gamma} = \left(-\frac{۲}{۳}\right)^{\Delta} = (-۱)^{\Delta} \times \left(\frac{۲}{۳}\right)^{\Delta} = ۱ \times \left(\frac{۲}{۳}\right)^{\Delta} = \frac{۲^{\Delta}}{۳^{\Delta}} = \frac{۶۴}{۷۲۹}$$

$$۱۳) \left(\frac{۳}{۲}\right)^{1\Gamma} \div \left(\frac{۳}{۲}\right)^{\Delta} = \left(\frac{۳}{۲}\right)^{1\Gamma-\Delta} = \left(\frac{۳}{۲}\right)^{\Gamma} = \frac{۳^{\Gamma}}{۲^{\Gamma}} = \frac{۲۱۸۷}{۱۲۸}$$

$$۱۴) (-۸)^{\Delta} \div (-۴)^{\Delta} = \frac{(-۸)^{\Delta}}{-۴} = ۲^{\Delta} = ۳۲$$

$$۱۵) ۲^{-\Gamma} = \left(\frac{1}{۲}\right)^{\Gamma} = \frac{(1)^{\Gamma}}{۲^{\Gamma}} = \frac{1}{۲}$$

$$۱۶) \left(\frac{۳}{۴}\right)^{-\Gamma} = \frac{1}{\left(\frac{۳}{۴}\right)^{\Gamma}} = \frac{1}{\frac{۹}{۱۶}} = \frac{۱۶}{۹}$$

$$۱۷) \frac{a^{\Gamma} \times b \times z^{\Gamma}}{a^{-1} \times b^{\Gamma} \times z^{\Gamma}} = a^{\Gamma-(-1)} b^{1-\Gamma} z^{\Gamma-\Gamma} = a^{\Gamma} b^{-\Delta} z^{\Gamma} = a^{\Gamma} \frac{1}{b^{\Delta}} \times z^{\Gamma} = \frac{a^{\Gamma} \times z^{\Gamma}}{b^{\Delta}}$$

$$۱۸) ۲^{-1} \times ۳^{-\Gamma} = \frac{1}{۲} \times \left(\frac{1}{۳}\right)^{\Gamma} = \frac{1}{۲} \times \frac{1}{۹} = \frac{1}{۱۸}$$

$$۱۹) a^{-\Gamma} + \left(\frac{1}{a}\right)^{\Gamma} = \left(\frac{1}{a}\right)^{\Gamma} + \left(\frac{1}{a}\right)^{\Gamma} = ۲ \times \left(\frac{1}{a}\right)^{\Gamma} = \frac{۲}{a^{\Gamma}}$$

$$۲۰) \left(\frac{1}{۲}\right)^{\circ} + ۳^{\circ} = ۱ + ۱ = ۲$$



$$۱) \sqrt{۱۶} = \sqrt{۴^۲} = ۴$$

$$۲) -\sqrt{۱۶} = -\sqrt{۴^۲} = -۴$$

$$۳) \sqrt{\frac{۱}{۹}} = \sqrt{\left(\frac{۱}{۳}\right)^۲} = \frac{۱}{۳}$$

$$۴) -\sqrt{\frac{۱}{۹}} = -\sqrt{\left(\frac{۱}{۳}\right)^۲} = -\frac{۱}{۳}$$

$$۵) \sqrt{-۲۵} = ? \text{ (اعداد منفی جذر ندارند.)}$$

۶) ریشه‌ی دوم عدد ۲۵، یعنی اعدادی که اگر به توان ۲ برسند، برابر با ۲۵ می‌شوند. یعنی ۵ و -۵.

$$(\sqrt{۲۵} = ۵, (-\sqrt{۲۵} = -۵)$$

$$۷) \text{ مجذور عدد } ۱۱ \text{ یعنی } ۱۱^۲ = ۱۲۱$$

$$۸) \sqrt{۳} \times \sqrt{۹} = \sqrt{۳} \times ۳ = ۳\sqrt{۳}$$

$$۹) \sqrt{۹} + \sqrt{۱۶} = ۳ + ۴ = ۷$$

$$۱۰) \sqrt{\frac{۱۲۱}{۲۵}} = \frac{\sqrt{۱۲۱}}{\sqrt{۲۵}} = \frac{۱۱}{۵}$$

$$۱۱) \sqrt{\frac{۴۹ \times ۳۶}{۶۴}} = \frac{\sqrt{۴۹} \times \sqrt{۳۶}}{\sqrt{۶۴}} = \frac{۷ \times ۶}{۸} = \frac{۷ \times ۳}{۴} = \frac{۲۱}{۴}$$

$$۱۲) (\sqrt{۶})^۲ = ۶$$

۱۳) ریشه‌ی دوم عدد ۳، اعداد $\sqrt{۳}$ و $-\sqrt{۳}$ است. زیرا $(\sqrt{۳})^۲ = ۳$ و $(-\sqrt{۳})^۲ = ۳$.

۱۴) اعداد منفی ریشه ندارند.

$$۱۵) \sqrt[۳]{-۲۷} = \sqrt[۳]{(-۳)^۳} = -۳$$

$$۱۶) \sqrt[۳]{-\frac{۱}{۶۴}} = \sqrt[۳]{\left(-\frac{۱}{۴}\right)^۳} = -\frac{۱}{۴}$$

$$۱۷) (\sqrt[۳]{۷})^۳ = ۷$$

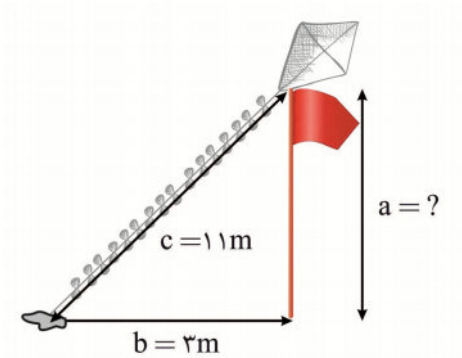
$$۱۸) \sqrt[۳]{۴} \times \sqrt[۳]{۱۶} = \sqrt[۳]{۴} \times \sqrt[۳]{۴ \times ۴} = \sqrt[۳]{(۴)^۳} = ۴$$

$$۱۹) \sqrt[۳]{\frac{۸}{۱۲۵}} = \sqrt[۳]{\frac{۲^۳}{۵^۳}} = \sqrt[۳]{\left(\frac{۲}{۵}\right)^۳} = \frac{۲}{۵}$$

$$۲۰) \frac{\sqrt[۳]{-۱۹۲}}{\sqrt[۳]{۳}} = \sqrt[۳]{\frac{-۱۹۲}{۳}} = \sqrt[۳]{-۶۴} = \sqrt[۳]{(-۴)^۳} = -۴$$

۲۱) ریشه‌ی سوم عدد -۵، یعنی عددی که وقتی به توان ۳ برسد، برابر با -۵ شود. یعنی $\sqrt[۳]{-۵}$.

$$۲۲) \sqrt[۳]{-۷۲۹} \times \sqrt[۳]{۳۶} = \sqrt[۳]{(-۹^۳)} \times ۶ = -۹ \times ۶ = -۵۴$$



باتوجه به توضیحات مسئله، واضح است که باید مقدار a را با استفاده از قضیه فیثاغورس بیابیم.

$$a^2 + b^2 = c^2$$

$$a^2 + (3)^2 = (11)^2 \Rightarrow a^2 = (11)^2 - (3)^2 = 112$$

چون a ، بیانگر ارتفاع است، مقدار مثبت آن را در نظر می‌گیریم.

$$a = \sqrt{112}$$

بنابراین:

قصد داریم مقدار تقریبی a را به دست بیاوریم.

$$100 < 112 < 121, 11 \times 11 = 121, 10 \times 10 = 100$$

می‌دانیم:

$$\sqrt{100} = 10 < \sqrt{112} < \sqrt{121} = 11$$

$\sqrt{112}$ تقریباً وسط ۱۰ و ۱۱ است. بنابراین حدس می‌زنیم $a = 10/5$ باشد. حدس خود را آزمایش می‌کنیم.

$$(10/5) \times (10/5) = 110/25$$


می‌بینیم که مقدار به ۱۱۲ خیلی نزدیک است.

$$a \approx 10/5$$

بنابراین:



$$1) \sqrt[3]{8} = \sqrt[3]{2^3} = 2$$

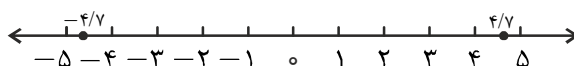


$$2) 16 < 23 < 25 \Rightarrow \sqrt{16} = 4 < \sqrt{23} < \sqrt{25} = 5$$

در بین چند حدس که آزمایش کردیم، عدد $4/7$ تقریب مناسب‌تری بود. بنابراین ریشه‌های $\sqrt{23}$ ، اعداد تقریبی $\pm 4/7$ هستند.

زیرا:

$$(4/7)^2 = (-4/7)^2 = 22/09 \approx 23$$

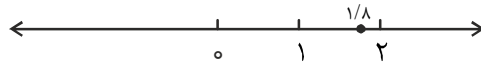


$$3) 1 < 6 < 8 \Rightarrow \sqrt[3]{1} = 1 < \sqrt[3]{6} < \sqrt[3]{8} = 2$$

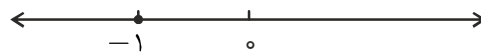
$\sqrt[3]{6}$ یک عدد بین ۱ و ۲ است. (چون عدد ۶ به ۸ نزدیک تر است تا ۱)، پس ریشه‌ی سوم آن به ۲ ($\sqrt[3]{8}$) نزدیک تر است تا ۱ ($\sqrt[3]{1}$).

در بین چند حدس، عدد $1/8$ تقریب بهتری برای $\sqrt[3]{6}$ است. زیرا $(1/8)^3 = 1/512 = 0.00195$ بنا بر این:

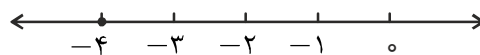
$$\sqrt[3]{6} \approx 1/8$$



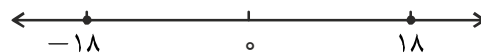
$$4) -\sqrt[3]{1} = -1$$



$$5) \sqrt[3]{-64} = \sqrt[3]{(-4)^3} = -4$$



$$6) (18^2)^3 = (-18^2)^3 = 324$$



$$1) \frac{\sqrt[5]{-32}}{\sqrt[5]{81}} = \frac{\sqrt[5]{(-2)^5}}{\sqrt[5]{3^4}} = \frac{-2}{3}$$

$$2) 3 \times \sqrt[5]{3125} + 7 \sqrt[5]{1296} = 3 \times \sqrt[5]{5^5} + 7 \sqrt[5]{2^4 \times 3^4} = 3 \times 5 + 7 \times 6 = 57$$

$$3) \sqrt[5]{a^1 b^4 c^{-6}} = \sqrt[5]{(a^5)^2 b^5 \times b^2 \times c^{-5} \times c^{-1}} = a^2 b c^{-1} \sqrt[5]{b^2 \times c^{-1}} = \frac{a^2 b}{c} \times \sqrt[5]{\frac{b^2}{c}}$$

$$4) \sqrt[5]{72}$$

$$2^5 = 32 < 72 < 3^5 = 243$$

مانند همیشه حدس‌های خود را آزمایش می‌کنیم. بین چند حدس که می‌زنیم عدد $2/3$ تقریب مناسب‌تری است، زیرا:

$$(2/3)^5 = 64/36343$$

بنابراین:

$$\sqrt[5]{72} \approx 2/3$$

$$5) \sqrt[5]{\frac{1}{10000000000}} = \sqrt[5]{10^{-10}} = \sqrt[5]{(10^{-2})^5} = 10^{-2} = \frac{1}{100}$$

$$6) \sqrt[5]{0.00243} = \sqrt[5]{243 \times 10^{-5}} = \sqrt[5]{3^5 \times (10^{-1})^5} = 3 \times 10^{-1} = \frac{3}{10}$$

$$7) \sqrt[4]{120000}$$

$$1^4 < 12 < 2^4 = 16$$

عدد $1/8$ را برای $\sqrt[4]{12}$ حدس می‌زنیم و می‌بینیم که تقریب مناسبی است.

$$(1/8)^4 = 10/4976$$

بنابراین داریم:

$$\sqrt[4]{12} \approx 1/8$$

$$\sqrt[4]{120000} = \sqrt[4]{12 \times 10^4} = \sqrt[4]{12} \times \sqrt[4]{10^4} \approx 1/8 \times 10 = 1.25$$

ریشه nام

تاکنون با روش به‌دست آوردن ریشه‌های یک عدد، تا ریشه پنجم آشنا شدید. حال با توجه به الگویی که برای به‌دست آوردن ریشه‌ها آموختیم، می‌توانیم ریشه nام یک عدد ($n \in \mathbb{N}$) را محاسبه کنیم.

ریشه nام يك عدد

فرض کنیم که n یک عدد طبیعی فرد، $n \geq 3$ ، باشد. ریشه nام یک عدد مانند a ، عدد منحصر به فردی مانند b است

$$\text{که اگر به توان } n \text{ برسد، برابر با } a \text{ شود. } (b^n = a)$$

حال فرض کنیم n یک عدد طبیعی زوج باشد. ریشه nام یک عدد مثبت مانند a عددهایی مانند $\pm b$ است، که اگر به

$$\text{توان } n \text{ برسند برابر با } a \text{ شوند. } (b^n = (-b)^n = a)$$

دقت کنید که ریشه nام عدد صفر، همواره صفر است.



اگر n زوج باشد، ریشه n ام را باید برای یک عدد مثبت تعریف کنیم. (چرا؟)

به مثال‌های حل شده زیر توجه کنید.

$$۱) \sqrt[۶]{۲^۶} = ۲$$

$$۲) \sqrt[۷]{(-۳)^۷} = -۳$$

$$۳) \sqrt[n]{a^n} = a \quad a \geq ۰$$

$$۴) \sqrt[n]{a^n} = a \quad n \text{ فرد}$$



اگر n یک عدد طبیعی فرد و $n \geq ۳$ باشد، داریم:

$$\sqrt[n]{ab} = \sqrt[n]{a} \times \sqrt[n]{b}$$

$$\sqrt[n]{\frac{a}{b}} = \frac{\sqrt[n]{a}}{\sqrt[n]{b}}$$

اگر n یک عدد طبیعی زوج باشد، در چه صورت روابط بالا برقرارند؟

به یاد داشته باشید که اگر n یک عدد طبیعی زوج باشد، روابط بالا تنها در صورتی برقرارند که $a, b > ۰$ باشند.



$$۱) \sqrt[۶]{۱۲} = \sqrt[۶]{۴} \times \sqrt[۶]{۳}$$

$$۲) \sqrt[۷]{-۱۸} = \sqrt[۷]{-۶} \times \sqrt[۷]{۳} = \sqrt[۷]{۶} \times \sqrt[۷]{-۳}$$

حاصل عبارت زیر را به دست آورید.



$$\sqrt[۶]{(\sqrt{۵}-۵)^۶} - \sqrt[۷]{(\sqrt{۵}-۵)^۷}$$

پاسخ مثال



$$\sqrt{۵} = ۲/۲$$

$$\Rightarrow \sqrt{۵}-۵ < ۰$$

$$\Rightarrow \sqrt[۶]{(\sqrt{۵}-۵)^۶} - \sqrt[۷]{(\sqrt{۵}-۵)^۷} = |\sqrt{۵}-۵| - (\sqrt{۵}-۵) = ۵ - \sqrt{۵} - \sqrt{۵} + ۵ = ۱۰ - ۲\sqrt{۵}$$



آیا برای هر دو عدد طبیعی m و k رابطه زیر برقرار است؟ (چرا؟)

$$\sqrt[k]{a^m} = (\sqrt[k]{a})^m \quad (a > 0)$$

می‌دانیم برای هر عدد حقیقی و مثبت a و هر عدد طبیعی n رابطه‌ی زیر برقرار است.

$$\sqrt[n]{ab} = \sqrt[n]{a} \sqrt[n]{b} \quad (1)$$

$$\sqrt[k]{a^m} = \sqrt[k]{a \times a^{m-1}} \stackrel{(1)}{=} \sqrt[k]{a} \sqrt[k]{a^{m-1}} = \sqrt[k]{a} \sqrt[k]{a} \sqrt[k]{a^{m-2}} \dots = (\sqrt[k]{a})^m$$

به مثال‌های حل شده‌ی زیر توجه کنید.

$$1) \sqrt[4]{2^2} = (\sqrt[4]{2})^2$$

$$2) \sqrt[5]{10^3} = (\sqrt[5]{10})^3$$

توان‌های گویا

مثال زیر را با دقت بخوانید.

یک رستوران در تهران، تازه شروع به کار کرده است. حسابدار این رستوران، کار جالبی انجام داده است! در محاسباتی که او انجام داده متوجه شده که به علت تبلیغات خوب و رضایت مشتریان میزان فروش این رستوران در پایان روز اول تقریباً Δa ، در پایان روز دوم $(\Delta a)^2$ ، در پایان روز سوم $(\Delta a)^3$ و ... بوده است.

به نظر شما، میزان فروش این رستوران، در وسط روز اول کاری چقدر است؟

در وسط روز دوم کاری چطور؟

این حسابدار مشاهده کرد، در وسط روز اول کاری میزان فروش $(\Delta a)^{\frac{1}{2}}$ است. همچنین در وسط روز دوم کاری مقدار $(\Delta a)^{\frac{3}{2}}$

به‌دست آمد.


توان‌های $(\Delta a)^{\frac{1}{2}}$ و $(\Delta a)^{\frac{3}{2}}$ را توان‌های گویا می‌گوییم و می‌توانیم در زندگی روزمره از آن‌ها استفاده کنیم.

حال که با مفهوم توان‌های گویا آشنا شدید، باید بتوانید آن‌ها را محاسبه کنید.

در ریاضی عدد $(\Delta a)^{\frac{1}{2}}$ را به صورت $\sqrt{\Delta a}$ نمایش می‌دهیم.

همچنین $(\Delta a)^{\frac{1}{3}}$ را به صورت $\sqrt[3]{\Delta a}$ نمایش می‌دهیم.

به همین ترتیب $(\Delta a)^{\frac{1}{n}}$ به شکل $\sqrt[n]{\Delta a}$ نمایش داده می‌شود.

اعداد زیر را به صورت رادیکال بنویسید. 

الف) $3^{\frac{1}{3}}$

ب) $6^{\frac{1}{2}}$

ج) $9^{\frac{1}{7}}$

د) $(\frac{1}{2})^{\frac{1}{11}}$

تعریف

فرض کنیم n یک عدد طبیعی زوج و a یک عدد حقیقی مثبت باشد، تعریف می‌کنیم:

$$a^{\frac{1}{n}} = \sqrt[n]{a}$$

همچنین فرض کنیم m یک عدد طبیعی که $m \geq 3$ و b یک عدد حقیقی باشد، تعریف می‌کنیم:

$$b^{\frac{1}{m}} = \sqrt[m]{b}$$

حال این سؤال پیش می‌آید که اگر بخواهیم عددی مانند $a^{\frac{k}{n}}$ را محاسبه کنیم، چه باید کرد؟ آیا می‌توانید پاسخ دهید؟

داریم:

$$a^{\frac{k}{n}} = a^{k \times \frac{1}{n}} = (a^k)^{\frac{1}{n}} = \sqrt[n]{a^k}$$

(البته دقت داشته باشید که عبارت زیر رادیکال با فرجه زوج، نباید منفی باشد.)

توجه داشته باشید که تمام قوانینی که در مورد جمع، تفریق، ضرب و تقسیم توان‌ها گفته شده، در مورد توان‌های گویا هم

صدق می‌کند.

هر یک از رادیکال‌ها را به صورت توان کسری بنویسید و برعکس.



۱) $\sqrt[4]{8}$

۲) $(\sqrt{vm})^3, m > 0$

۳) $16^{\frac{1}{2}}$

۴) $(6p)^{\frac{4}{3}}$

۵) $(1+oa)^{\frac{4}{5}}$

۶) $(64)^{\frac{2}{3}}$

۷) $(\sqrt[4]{a})^5, a > 0$

۸) $\sqrt[4]{4m}, m > 0$

عبارت‌های زیر را ساده کنید.



۱) $(64n^4)^{\frac{3}{2}}$

۲) $(8r^6)^{\frac{4}{3}}$

۳) $\sqrt{384x^3yz}$

۴) $\sqrt[4]{96x^4y^2z^2}$

حاصل عبارت زیر را به دست آورید.



$(\sqrt{27} - \sqrt{\frac{3}{4}})^2$

پاسخ مثال



$$\text{الف) } 3^{\frac{1}{3}} = \sqrt[3]{3}$$

$$\text{ب) } 6^{\frac{1}{2}} = \sqrt{6}$$

$$\text{ج) } 9^{\frac{1}{4}} = \sqrt[4]{9}$$

$$\text{د) } \left(\frac{1}{2}\right)^{\frac{1}{11}} = \sqrt[11]{\frac{1}{2}}$$



$$1) \sqrt[4]{8} = \sqrt[4]{2^3} = 2^{\frac{3}{4}}$$

$$2) (\sqrt{vm})^3 = \sqrt{(vm)^3} = (vm)^{\frac{3}{2}}$$

$$3) (16)^{\frac{1}{2}} = \sqrt{16} = 4$$

$$4) (ep)^{\frac{4}{3}} = \sqrt[3]{(ep)^4} = \sqrt[3]{e^4 p^4} = ep\sqrt[3]{ep}$$

$$5) (1 \circ a)^{\frac{4}{5}} = \sqrt[5]{(1 \circ a)^4} = \sqrt[5]{1 \circ^4 \times a^4}$$

$$6) (e4)^{\frac{2}{3}} = \sqrt[3]{(e4)^2} = \sqrt[3]{(2^6)^2} = \sqrt[3]{2^{12}} = 2^4 = 16$$

$$7) (\sqrt[4]{a})^5 = \sqrt[4]{a^5} = a^{\frac{5}{4}}$$

$$8) \sqrt[4]{fm} = (fm)^{\frac{1}{4}} = f^{\frac{1}{4}} \times m^{\frac{1}{4}}$$



$$\begin{aligned}
 1) (64n^6)^{\frac{3}{2}} &= (2^6 \times n^6)^{\frac{3}{2}} = 2^{6 \times \frac{3}{2}} \times n^{6 \times \frac{3}{2}} = 2^9 \times n^9 = 512n^9 \\
 2) (81r^6)^{\frac{4}{3}} &= (3^4 \times r^6)^{\frac{4}{3}} = (3^4)^{\frac{4}{3}} \times (r^6)^{\frac{4}{3}} = 3^{\frac{16}{3}} \times r^8 = 16r^8 \\
 3) \sqrt{384x^3yz} &= \sqrt{2^7 \times 3 \times x^3yz} = 2^3 \times x \sqrt{2 \times 3xyz} = 8x\sqrt{6xyz} \\
 4) \sqrt[4]{96x^4y^2z^2} &= \sqrt[4]{2^5 \times 3 \times x^4y^2z^2} = 2x \sqrt[4]{2 \times 3y^2z^2} = 2x\sqrt[4]{6y^2z^2}
 \end{aligned}$$



$$\begin{aligned}
 (\sqrt[6]{27} - \sqrt[4]{\frac{3}{4}})^2 &= (27^{\frac{1}{6}} - (\frac{3}{4})^{\frac{1}{4}})^2 \\
 &= \left((3^3)^{\frac{1}{6}} - (\frac{3}{4})^{\frac{1}{4}} \right)^2 = \left(3^{\frac{1}{2}} - \frac{3^{\frac{1}{4}}}{2} \right)^2 = 3 + \frac{3^{\frac{3}{4}}}{4} - 3^{\frac{1}{2}} \\
 &= 3 + \frac{27}{4} - 9 = \frac{3}{4}
 \end{aligned}$$

عبارت‌هاک جبری

می‌دانیم که در بسیاری از مسئله‌ها، لازم است صورت سؤال را به زبان ریاضی بنویسیم. چندجمله‌ای‌ها و اتحادها می‌توانند در حل مسائل به ما کمک کنند. گاهی باید یک عبارت جبری را به صورت یک اتحاد ریاضی بنویسیم و گاهی برعکس، در بعضی مواقع عمل فاکتورگیری، می‌تواند یک سؤال سخت را آسان کند. بنابراین لازم است که کار کردن با اتحادها و فاکتورگیری را خوب بیاموزیم.



دو عدد فرد و متوالی مثبت را بیابید که حاصل جمع مربع‌های آن‌ها ۱۳۰ شود.



m را عددی فرد در نظر می‌گیریم و مسئله را به زبان ریاضی می‌نویسیم.

$$\begin{aligned}
 m^2 + (m+2)^2 &= 130 \\
 \Rightarrow m^2 + m^2 + 4m + 4 &= 130 \\
 \Rightarrow 2m^2 + 4m - 126 &= 0 \\
 \Rightarrow m^2 + 2m - 63 &= 0 \Rightarrow (m+9)(m-7) = 0 \Rightarrow m = -9 \text{ یا } m = 7
 \end{aligned}$$

$m = 7$ ، تنها مقدار قابل قبول است. (چرا؟) بنابراین آن دو عدد، ۷ و ۷+۲ هستند. جواب به‌دست آمده را امتحان می‌کنیم.

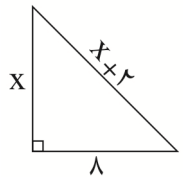
$$(7^2) + 9^2 = 49 + 81 = 130$$

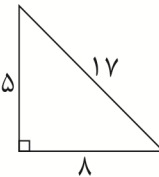
مثال

طول وتر یک مثلث قائم الزاویه، ۲ واحد بیشتر از طول یکی از اضلاع این مثلث است. اگر طول ضلع دیگر این مثلث ۸ واحد باشد، اندازه دو ضلع دیگر آن را مشخص کنید.

پاسخ

باتوجه به قضیه فیثاغورس داریم:



$$x^2 + (8)^2 = (x+2)^2 \Rightarrow x^2 + 64 = x^2 + 4x + 4 \Rightarrow 64 = 4x + 4 \Rightarrow x = 15$$


همان‌طور که می‌دانید یک تساوی جبری همیشه درست به این معنی که به ازای هر مقدار تعریف شده برای متغیرهای آن، حاصل یکسانی داشته باشد را یک اتحاد جبری می‌گوییم. اتحادهایی که تاکنون فرا گرفته‌اید را مرور می‌کنیم:

$$(a+b)^2 = a^2 + 2ab + b^2$$

$$(a-b)^2 = a^2 - 2ab + b^2$$

$$(x+a)(x+b) = x^2 + (a+b)x + ab$$

در ادامه قصد داریم چند اتحاد پرکاربرد دیگر را به شما آموزش بدهیم.

👉 حاصل عبارت $(a+b)^3$ را به دست آورید.

پاسخ

$$(a+b)^3 = (a+b)^2(a+b) = (a^2 + 2ab + b^2)(a+b)$$

$$= a^3 + a^2b + 2a^2b + 2ab^2 + b^2a + b^3$$

$$= a^3 + 3a^2b + 3ab^2 + b^3$$

بنابراین:

$$(a+b)^3 = a^3 + 3a^2b + 3ab^2 + b^3$$

رابطه به دست آمده یک اتحاد است و به اتحاد مکعب مجموع معروف است. حال به جای b مقدار $(-b)$ را قرار دهید و

بسط $(a-b)^3$ را بنویسید.


$$(a-b)^3 = a^3 - 3a^2b + 3ab^2 - b^3$$

دو رابطه به دست آمده که اتحادهای مکعب مجموع هستند را به خاطر بسپارید.

زنگ تفریح


یک رابطه جالب !!!

به مثلث زیر و رابطه بین اعداد آن دقت کنید.



از طرفی داریم:

$$\begin{aligned}
 (a+b)^0 & \qquad \qquad \qquad 1 \\
 (a+b)^1 & \qquad \qquad \qquad 1a + 1b \\
 (a+b)^2 & \qquad \qquad \qquad 1a^2 + 2ab + 1b \\
 (a+b)^3 & \qquad \qquad \qquad 1a^3 + 3a^2b + 3ab^2 + 1b^3 \\
 (a+b)^4 & \qquad \qquad \qquad 1a^4 + 4a^3b + 6a^2b^2 + 4ab^3 + 1b^4
 \end{aligned}$$

آیا می‌توانید مقدار $(a+b)^5$ را به دست آورید؟ 

مثلث اعدادی که مشاهده کردید، به مثلث خیام- پاسکال معروف است.

مثلث خیام- پاسکال به آرایش مثلثی شکل ضرایب بسط دو جمله‌ای گفته می‌شود.

تجزیه عبارت جبری

می‌دانیم:

$$(a-b)^3 = a^3 - 3a^2b + 3ab^2 - b^3$$

از طرفی داریم:

$$(a-b)^3 = (a-b)(a-b)(a-b)$$

اگر بنویسیم:

$$a^3 - 3a^2b + 3ab^2 - b^3 = (a-b)(a-b)(a-b)$$

می‌گوییم عبارت سمت چپ را به حاصل ضرب سه عبارت سمت راست تجزیه کرده‌ایم. هر یک از عبارت‌های $(a-b)$ را یک عامل یا شمارنده تجزیه می‌نامیم. عامل‌های تجزیه می‌توانند مساوی نباشند. گاهی اوقات تجزیه یک عبارت کار پیچیده‌تری می‌شود.



عبارت زیر را تجزیه کنید.

$$a(a+b) - 2b(a+b)^2$$



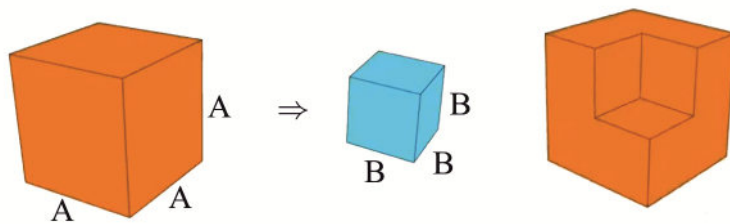
$$a(a+b) - 2b(a+b)^2 = (a+b)[a - 2b(a+b)] = (a+b)(a - 2ab - 2b^2)$$

متن زیر را مطالعه کنید.

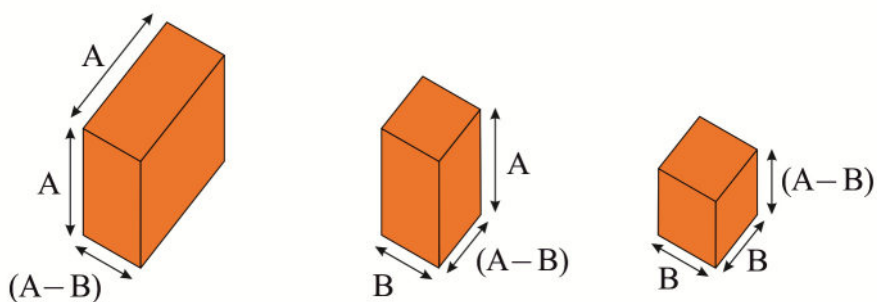
پدر علی، طراح دکوراسیون داخلی است. او برای اتاق کودک یک میبل راحتی طراحی کرده، که علاوه بر نشستن بتوان از فضای بالای آن برای قرار دادن اسباب‌بازی استفاده کرد. ایده اولیه این طراحی به صورت زیر است. او ابتدا یک مکعب به ابعاد A شبیه‌سازی کرده و سپس یک مکعب کوچک‌تر به ابعاد B را از یکی از گنجهای آن بیرون کشیده است. به نظر شما حجم مکعب باقی‌مانده چقدر است؟



اختلاف حجم مکعب بزرگ‌تر از مکعب کوچک‌تر $A^3 - B^3$ است. حال می‌خواهیم با توجه به آن چه که در شکل می‌بینیم حجم مورد نظر را محاسبه کنیم.



جسم مورد نظر را به مکعب‌های کوچک‌تر تقسیم می‌کنیم و حجم هر یک را محاسبه می‌کنیم.



داریم:

$$A^3 - B^3 = (A - B)A^2 + (A - B)B^2 + (A - B)(AB) = (A - B)(A^2 + B^2 + AB)$$

رابطه زیر برای هر مقدار A و B صادق است و به اتحاد چاق و لاغر معروف است.

$$A^3 - B^3 = (A - B)(A^2 + AB + B^2)$$

در ادامه یکی دیگر از اتحادهای پر کاربرد را معرفی می‌کنیم.

👉 حاصل عبارت $(a + b + c)^2$ را به دست بیاورید.



$$\begin{aligned} (a + b + c)^2 &= [(a + b) + c]^2 = (a + b)^2 + 2(a + b)c + c^2 \\ &= a^2 + 2ab + b^2 + 2ac + 2bc + c^2 = a^2 + b^2 + c^2 + 2ab + 2ac + 2bc \end{aligned}$$

رابطه به دست آمده یک اتحاد است و به مربع سه جمله‌ای معروف است. بنابراین داریم:

$$(a + b + c)^2 = a^2 + b^2 + c^2 + 2ab + 2ac + 2bc$$

همچنین می‌توان نوشت:

$$a^2 + b^2 + c^2 = (a + b + c)^2 - 2(ab + ac + bc)$$

اگر $a + b + c = 8$ و $a^2 + b^2 + c^2 = 16$ باشد، حاصل $ab + ac + bc$ چقدر است؟



حاصل عبارت‌های زیر را به دست آورید.



الف) $(2a - 3b)^3$

ب) $(3a^2 - b^2)^3$

ج) $(a^2 + 1)^3$

د) $(2a - 3)(4a^2 + 6a + 9)$

هـ) $(a^5 - a^3)(a^{10} + a^8 + a^6)$

و) $(a^2 + b)(a^4 - a^2b + b^2)$

حاصل عبارات زیر را با استفاده از اتحادها به دست آورید.



الف) $(a - 2)(a + 2)(a^2 + 4)$

ب) $(a - 1)(a + 1)(a^4 + a^2 + 1)$

ج) $(a + 1)(a^2 - a + 1)(a^3 - 1)$

د) $(a - 1)(a^2 + a + 1)(a^3 + 8)$

هـ) $(a - 1)^3(a + 1)^3$

عبارت گویا

به طور کلی، یک عبارت گویا، کسری است که صورت و مخرج آن چندجمله‌ای است.



یک عبارت گویا به ازای مقدارهایی از متغیر که مخرج را صفر می‌کند، تعریف نمی‌گردد.



عبارت‌های $\frac{x^3}{1}$ و $\frac{1}{y}$ ، $\frac{x^3 + y^3 - 2}{xy + y^6 - 7}$ ، $\frac{2x^2 + 3}{x - 4}$ عبارت‌های گویا هستند.

عبارت‌های $\frac{x^2 + 3x - 4}{\sqrt{x + 7}}$ و $\frac{\sqrt{x + 1}}{x^2 - 1}$ عبارت‌های گویا نیستند، زیرا شامل عبارت‌های جبری رادیکالی هستند.

(توان متغیرها باید عدد صحیح باشد)

در گذشته با مفهوم مضرب و شمارنده اعداد آشنا شدید، مثلاً عدد $18 = 3 \times 6$ را در نظر بگیرید. ۱۸ مضربی برای اعداد ۶ و ۳ است و هر کدام از اعداد ۳ و ۶ یک شمارنده برای ۱۸ هستند.
می‌دانیم مضرب یک عدد منحصر به فرد نیست.

این مفاهیم را برای عبارات جبری نیز می‌شود تعمیم داد.

تعریف

مضرب‌های هر عبارت جبری و یا یک چندجمله‌ای، از ضرب آن عبارت در عددهای صحیح و یا عبارت‌های جبری دیگر (و یا هم‌زمان در هر دو) به دست می‌آیند.

عبارت‌های $(x+7)x^2$ ، $(x^2+3x+4)x^2$ ، $6x^2 \frac{x^2}{y}$ و $5(x^3+2)x^2$ همگی مضربی برای x^2 هستند.

$\sqrt{7}(x+y)$ مضرب $x+y$ نیست، زیرا $\sqrt{7}$ یک عدد صحیح نمی‌باشد.

جمع و تفریق عبارت‌های گویا با مخرج یکسان

اگر A و B عبارت‌های جبری باشند داریم:

$$\frac{A}{B} + \frac{C}{B} = \frac{A+C}{B}, \quad \frac{A}{B} - \frac{C}{B} = \frac{A-C}{B}$$

مراحل جمع و تفریق عبارت‌های گویا با مخرج‌های غیر یکسان

ابتدا در صورت امکان مخرج کسرها را تجزیه می‌کنیم (با استفاده از اطلاعاتی که در مورد اتحادها و فاکتورگیری داریم). سپس مخرج مشترکی با شرایط زیر پیدا می‌کنیم.
عوامل مشترک و غیرمشترک مخرج‌ها با بزرگ‌ترین توان را در نظر گرفته و همه را در هم ضرب می‌کنیم (معادل کوچک‌ترین مضرب مشترک در اعداد).

در مرحله بعد صورت و مخرج هر کسر را در عبارات لازم ضرب کرده تا مخرج‌ها یکی شوند.
سپس با استفاده از روش جمع و تفریق عبارات گویا با مخرج یکسان، جواب مورد نظر به دست می‌آید.



مثال

حاصل عبارات زیر را به دست آورید.

الف) $\frac{7}{2a^2b} + \frac{5}{3ab^3}$

ب) $\frac{x-1}{(x-2)x} - \frac{x}{(x-1)(x-2)}$

ج) $\frac{1}{x^2-2x+1} - \frac{2}{x^2-3x+2}$



الف) $2a^2b$ و $3ab^3$ مخرج کسرهای سؤال هستند. با توجه به توضیحات گفته شده $2 \times 3 \times a^2 \times b^3$ مخرج مشترک مورد نظر است. بنابراین


$$\frac{7}{2a^2b} + \frac{5}{3ab^3} = \frac{7 \times 3 \times b^2 + 5 \times 2 \times a}{2 \times 3 \times a^2 \times b^3} = \frac{21b^2 + 10a}{6a^2b^3}$$

ب) $(x-2)(x-1)(x)$ مخرج مشترک برای دو کسر داده شده است.

$$\begin{aligned} \frac{x-1}{(x-2)x} - \frac{x}{(x-1)(x-2)} &= \frac{(x-1)(x-1) - x(x)}{x(x-1)(x-2)} \\ &= \frac{x^2 - 2x + 1 - x^2}{x(x-1)(x-2)} = \frac{-2x + 1}{x(x-1)(x-2)} \end{aligned}$$

ج) در این سؤال برای به دست آوردن مخرج مشترک، ابتدا مخرج کسرهای داده شده را تجزیه می‌کنیم. داریم:

$$\begin{aligned} x^2 - 2x + 1 &= (x-1)^2 \\ x^2 - 3x + 2 &= (x-2)(x-1) \\ \frac{1}{x^2 - 2x + 1} - \frac{2}{x^2 - 3x + 2} &= \frac{1}{(x-1)^2} - \frac{2}{(x-2)(x-1)} = \frac{(x-2) - 2(x-1)}{(x-2)(x-1)^2} \\ &= \frac{x-2-2x+2}{(x-2)(x-1)^2} = \frac{-x}{(x-2)(x-1)^2} \end{aligned}$$

عبارت $A = \frac{1 - \frac{1}{x} - \frac{12}{x^2}}{1 - \frac{5}{x} + \frac{4}{x^2}}$ را ساده کنید. آیا حاصل یک عبارت گویا است؟ 

گویا کردن مخرج‌های گنگ

به عملیاتی که روی صورت و مخرج یک کسر گنگ انجام می‌دهیم تا مخرج آن تبدیل به یک عبارت گویا شود، گویا کردن


مخرج گفته می‌شود.



مخرج عبارت رادیکالی $\frac{1}{\sqrt[3]{x}}$ را گویا کنید.



$$\frac{1}{\sqrt[3]{x}} \times \frac{\sqrt[3]{x^2}}{\sqrt[3]{x^2}} = \frac{\sqrt[3]{x^2}}{\sqrt[3]{x^3}} = \frac{\sqrt[3]{x^2}}{x}$$

عبارت $\frac{1}{\sqrt{a+1}}$ را ساده کنید. 

باسخ مثال



$$a^{\gamma} + b^{\gamma} + c^{\gamma} = (a + b + c)^{\gamma} - \gamma(ab + ac + bc)$$

$$\Rightarrow 16 = 8^{\gamma} - \gamma(ab + ac + bc)$$

$$\gamma(ab + ac + bc) = 48$$

$$\Rightarrow ab + ac + bc = 24$$



الف) $(2a - 3b)^{\gamma} = (2a)^{\gamma} - \gamma \times (2a)^{\gamma-1} \times 3b + \gamma \times 2a \times (3b)^{\gamma-1} - (3b)^{\gamma} = \lambda a^{\gamma} - \gamma \epsilon a^{\gamma-1} b + \delta \epsilon a b^{\gamma-1} - \gamma \nu b^{\gamma}$

ب) $(3a^{\gamma} - b^{\gamma})^{\gamma} = (3a^{\gamma})^{\gamma} - \gamma \times (3a^{\gamma})^{\gamma-1} \times b^{\gamma} + \gamma \times 3a^{\gamma} \times (b^{\gamma})^{\gamma-1} - (b^{\gamma})^{\gamma} = \gamma \nu a^{\epsilon} - \gamma \nu a^{\gamma} b^{\gamma} + \epsilon a^{\gamma} b^{\epsilon} - b^{\epsilon}$

ج) $(a^{\gamma} + 1)^{\gamma} = (a^{\gamma})^{\gamma} + \gamma(a^{\gamma})^{\gamma-1} \times 1 + \gamma \times a^{\gamma} \times 1^{\gamma-1} + 1 = a^{\epsilon} + \gamma a^{\gamma} + \gamma a^{\gamma} + 1$

د) $(2a - 3)(\epsilon a^{\gamma} + \epsilon a + 9) = (2a)^{\gamma} - 3^{\gamma} = \lambda a^{\gamma} - \gamma \nu$

هـ) $(a^{\delta} - a^{\gamma})(a^{1^{\circ}} + a^{\wedge} + a^{\epsilon}) = (a^{\delta})^{\gamma} - (a^{\gamma})^{\gamma} = a^{1^{\delta}} - a^{\epsilon}$

و) $(a^{\gamma} + b)(a^{\epsilon} - a^{\gamma} b + b^{\gamma}) = (a^{\gamma})^{\gamma} + (b)^{\gamma} = a^{\epsilon} + b^{\gamma}$



الف) $(a - 2)(a + 2)(a^{\gamma} + \gamma) = (a^{\gamma} - 4)(a^{\gamma} + \gamma) = a^{\epsilon} + \gamma a^{\gamma} - 2\lambda$

ب) $(a - 1)(a + 1)(a^{\epsilon} + a^{\gamma} + 1) = (a^{\gamma} - 1)(a^{\epsilon} + a^{\gamma} + 1) = (a^{\gamma})^{\gamma} - (1)^{\gamma} = a^{\epsilon} - 1$

ج) $(a + 1)(a^{\gamma} - a + 1)(a^{\gamma} - 1) = (a^{\gamma} + 1)(a^{\gamma} - 1) = (a^{\gamma})^{\gamma} - (1)^{\gamma} = a^{\epsilon} - 1$

د) $(a - 1)(a^{\gamma} + a + 1)(a^{\gamma} + \delta) = (a^{\gamma} - 1)(a^{\gamma} + \delta) = (a^{\gamma})^{\gamma} + (\delta - 1)a^{\gamma} + (-1)(\delta) = a^{\epsilon} + \epsilon a^{\gamma} - \delta$

هـ) $(a - 1)^{\gamma} (a + 1)^{\gamma} = (a^{\gamma} - 1)^{\gamma} = a^{\epsilon} - \gamma a^{\gamma} + \gamma a^{\gamma} - 1$



ابتدا هر یک از عبارتهای صورت و مخرج را ساده می‌کنیم.

$$1 - \frac{1}{x} - \frac{12}{x^2} = \frac{x^2 - x - 12}{x^2} = \frac{(x-4)(x+3)}{x^2}$$

$$1 - \frac{5}{x} + \frac{4}{x^2} = \frac{x^2 - 5x + 4}{x^2} = \frac{(x-4)(x-1)}{x^2}$$

$$A = \frac{(x-4)(x+3)}{x^2} \div \frac{(x-4)(x-1)}{x^2} = \frac{(x-4)(x+3)}{x^2} \times \frac{x^2}{(x-4)(x-1)} = \frac{x+3}{x-1}$$

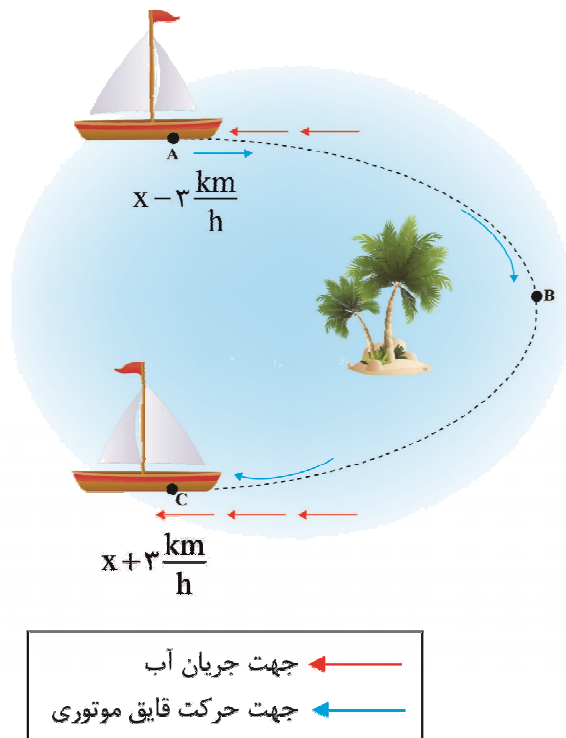
همان‌طور که مشاهده کردیم، حاصل یک عبارت گویاست.



$$\frac{1}{\sqrt{a+1}} = \frac{1 \times (\sqrt{a^2} - \sqrt{a+1})}{(\sqrt{a+1})(\sqrt{a^2} - \sqrt{a+1})} = \frac{\sqrt{a^2} - \sqrt{a+1}}{a+1}$$

معادله‌ی درجه دوم و روش‌هاک مختلف حل آن

مثال زیر را با دقت بخوانید:



فرض کنید یک قایق موتوری روی مسیر نقطه‌چین در حرکت باشد. اگر سرعت جریان آب $3 \frac{\text{km}}{\text{h}}$ (در جهت نشان داده شده) و کل زمان طی شده (از نقطه‌ی A تا C) ۱۲ ساعت باشد، با توجه به این‌که مسافت نقطه‌ی A تا C روی منحنی ۹۶ km است، سرعت حرکت قایق را محاسبه کنید.

اگر سرعت حرکت قایق را x در نظر بگیریم، سرعت حرکت قایق با توجه به جریان آب از نقطه‌ی A تا B برابر با

$$x - 3 \frac{\text{km}}{\text{h}} \text{ و در نقطه‌ی B تا C ، } x + 3 \frac{\text{km}}{\text{h}} \text{ است. (چرا؟)}$$

می‌دانیم:

$$\text{زمان} = \frac{\text{مسافت}}{\text{سرعت}} \Rightarrow \text{زمان} \times \text{سرعت} = \text{مسافت}$$

بنابراین $\frac{48}{x-3}$ ساعت طول می‌کشد که قایق موتوری از نقطه‌ی A به B و $\frac{48}{x+3}$ ساعت طول می‌کشد تا از نقطه‌ی

B به C برود.

از طرفی با توجه به صورت سؤال، کل زمان طی شده برابر با ۱۲ ساعت است. در نتیجه:

$$\frac{48}{x-3} + \frac{48}{x+3} = 12, \quad x \neq \pm 3$$

$$\frac{48(x+3) + 48(x-3)}{(x-3)(x+3)} = 12 \Rightarrow 48(x-3) + 48(x+3) = 12(x-3)(x+3)$$

$$\Rightarrow x^2 - 8x - 9 = 0 \quad (*)$$

در بسیاری از مسائل با معادلاتی نظیر معادله‌ی بالا روبه‌رو می‌شویم و برای حل آن‌ها باید بتوانیم مقدار مجهول

معادله (x) را بیابیم. حال قدم به قدم با حل این نمونه معادلات آشنا می‌شویم.

تعریف:

هر معادله به شکل $ax^2 + bx + c = 0$ را یک معادله‌ی درجه‌ی دو می‌نامیم هرگاه:

$$(1) \quad a \neq 0 \quad (2) \quad a, b, c \in \mathbb{R} \quad (3) \quad x \text{ یک متغیر باشد.}$$

در واقع هر معادله مانند معادله‌ی (*) که پس از ساده کردن، درجه بزرگ‌ترین توان متغیر آن دو باشد، را یک معادله‌ی

درجه‌ی دو می‌نامیم.



معادلات زیر همگی درجه‌ی دو هستند.

$$x^2 + 3x - 5 = 0, \quad 2x^2 - x - 1 = 0, \quad \sqrt{2}x^2 - \frac{1}{2}x + 3 = 0$$

با توجه به تعریف، a باید عدد حقیقی مخالف صفر باشد، اما b و c هر کدام و یا هر دو می‌توانند صفر باشند به عنوان

مثال معادلات $x^2 - 9 = 0$, $2x^2 = 0$, $3x^2 + 5x = 0$ همگی درجه دو هستند.

در جدول زیر مقدار a, b, c برای برخی معادلات درجه‌ی دو مشخص شده‌اند.

معادلات	a	b	c
$3x^2 + 5x - 9 = 0$	3	5	-9
$-x^2 + \frac{1}{2} = 0$	-1	0	$\frac{1}{2}$
$(\sqrt{3} + 1)x^2 = 0$	$\sqrt{3} + 1$	0	0
$\frac{x^2}{2} - \frac{x}{3} + \frac{1}{4} = 0$	$\frac{1}{2}$	$-\frac{1}{3}$	$\frac{1}{4}$



مشخص کنید چند تا از معادلات زیر درجه‌ی دو هستند؟

الف) $x^2 + 1 = 0$

ب) $\frac{1}{2}x^2 - \sqrt{2}x + 5 = 0$

ج) $2x^2 - 3x = 5$

د) $x^2 - 2x^{-1} + 3 = 0$

و) $(x-1)(x+2) = 0$

هـ) $(x-2)x^2 = 0$

برای حل معادلات درجه‌ی دو باید مقدار x را طوری بیابیم که سمت چپ و سمت راست تساوی دارای یک مقدار شوند. مقادیر به دست آمده برای x ، ریشه‌های معادله‌ی درجه دو نامیده می‌شوند. روش‌هایی وجود دارند که به ما در حل معادلات درجه‌ی دو کمک می‌کنند.

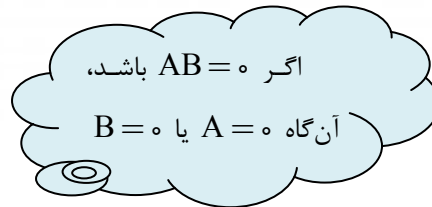
الف) حل معادلات درجه‌ی دو به شکل $ax^2 = 0$ ، $a \neq 0$

داریم:

$ax^2 = 0$ ، $a \neq 0$

$\Rightarrow x^2 = 0$

$\Rightarrow x \cdot x = 0$



همان‌طور که مشاهده می‌کنید، این معادله دارای دو ریشه مساوی است.



معادله‌ی $-\frac{3}{2}x^2 = 0$ را حل کنید.

ب) حل معادلات درجه دو به شکل $ax^2 + bx = 0$

داریم:

$ax^2 + bx = 0$

$x(ax + b) = 0$

$x = 0$ یا $x = -\frac{b}{a}$



معادلات زیر را حل کنید:

الف) $x^2 + x = 0$

ب) $-4x^2 + 5x = 0$

ج) $\sqrt{3}x^2 - 2x = 0$

ج) حل معادلات درجه دو به شکل $ax^2 + c = 0$, $a, c \neq 0$

داریم:

$$ax^2 + c = 0, a, c \neq 0$$

$$ax^2 = -c \Rightarrow$$


$$x^2 = -\frac{c}{a} \Rightarrow$$

$$x = \pm \sqrt{-\frac{c}{a}}$$

در اینجا علامت $\frac{c}{a}$ مهم است.

اگر $\frac{c}{a} > 0$ ، آن‌گاه معادله جواب حقیقی ندارد، زیرا عدد منفی زیر رادیکال بی‌معنی است.

اگر $\frac{c}{a} < 0$ ، آن‌گاه معادله دو جواب حقیقی دارد که قرینه‌ی یکدیگرند.

جواب معادلات زیر را به‌دست آورید. 

الف) $3x^2 - 27 = 0$

ب) $2x^2 + 6 = 0$

ج) $7 - 4x^2 = 2$

د) حل معادلات درجه‌ی دو به شکل $ax^2 + bx + c = 0$, $a \neq 0$

سه روش پایه برای حل این معادلات وجود دارد:

۱- تجزیه

۲- مربع کامل کردن

۳- استفاده از فرمول

۱- تجزیه

اگر بتوانیم معادله‌ی درجه‌ی دو $ax^2 + bx + c = 0$, $a \neq 0$ را به‌صورت حاصل‌ضرب دو عبارت جبری بنویسیم، این

معادله به راحتی حل می‌شود.



معادلات زیر را با استفاده از تجزیه کردن حل کنید.

الف) $x^2 + 3x + 2 = 0$

ب) $x^2 - 2x - 15 = 0$

ج) $4x^2 - 6x - 4 = 0$



الف) $x^2 + 3x + 2 = 0$
 $\Rightarrow (x+2)(x+1) = 0$
 $x+1 = 0$
 $\Rightarrow x+2 = 0$ یا
 $\Rightarrow x = -2$ یا $x = -1$

ب) $x^2 - 2x - 15 = 0$
 $\Rightarrow (x-5)(x+3) = 0$
یا $x+3 = 0$
 $\Rightarrow x-5 = 0$
 $\Rightarrow x = 5$ یا $x = -3$

ج) $4x^2 - 6x - 4 = 0$
 $\Rightarrow (2x-4)(2x+1) = 0$
 $\Rightarrow 2x-4 = 0$ یا $2x+1 = 0$
 $\Rightarrow x = 2$ یا $x = -\frac{1}{2}$

۲- مربع کامل کردن

در این روش قصد داریم معادله‌ی درجه دو $ax^2 + bx + c, a \neq 0$ را طوری بنویسیم که یک عبارت جبری مربع کامل در آن ظاهر شود. در این صورت معادله به راحتی قابل حل است.

گاهی به راحتی می‌شود این کار را انجام داد.



الف) $x^2 + 6x + 9 = (x+3)^2$

ب) $x^2 - 4x + 4 = (x-2)^2$

گاهی باید تغییراتی در عبارت جبری به وجود آوریم.

برای مربع کامل کردن یک عبارت جبری مراحل زیر را انجام دهید.

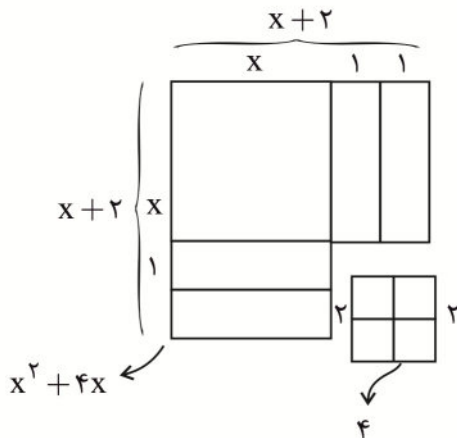
- ۱- مطمئن شوید که ضریب $a = 1$ است، اگر $a \neq 1$ است، طرفین تساوی را بر a تقسیم کنید.
- ۲- معادله‌ی به دست آمده را طوری بنویسید که ضریب ثابت (c) در یک طرف تساوی و بقیه در طرف دیگر تساوی باشند.
- ۳- ضریب X را بر دو تقسیم کنید و حاصل را به توان ۲ برسانید.
- ۴- عدد به دست آمده را به دو طرف تساوی اضافه کنید.
- ۵- عبارت جبری به دست آمده را به صورت مربع کامل بنویسید.
- ۶- معادله‌ی حاصل را به راحتی می‌توانید با استفاده از خاصیت ریشه دوم حل کنید.

مثال

معادله‌ی $x^2 + 4x = 0$ را مربع کامل کنید.

پاسخ

همان‌طور که در شکل نیز می‌بینید، این معادله برای این که مربع کامل شود، فقط ۴ واحد کم دارد، داریم:



$$x^2 + 4x = 0$$

$$\Rightarrow x^2 + 4x + 4 = 4$$

$$\Rightarrow (x+2)^2 = 4$$

$$\Rightarrow \sqrt{(x+2)^2} = \sqrt{4} \Rightarrow |x+2| = 2 \Rightarrow x+2 = \pm 2$$

$$\Rightarrow x_1 = -4 \text{ و } x_2 = 0$$

مثال

معادله‌های زیر را با مربع کامل کردن حل کنید:

الف) $x^2 + 6x - 7 = 0$

ب) $2x^2 - 4x + 1 = 0$

الف) $x^2 + 6x - 7 = 0$

$$x^2 + 6x = 7$$

$$x^2 + 6x + 9 = 7 + 9$$

$$(x + 3)^2 = 16$$

$$x + 3 = \pm 4$$

$$x_1 = -7, x_2 = 1$$

ب) $2x^2 - 4x + 1 = 0$

$$x^2 - 2x + \frac{1}{2} = 0$$

$$x^2 - 2x = -\frac{1}{2}$$

$$x^2 - 2x + 1 = -\frac{1}{2} + 1$$

$$(x - 1)^2 = \frac{1}{2}$$

$$x - 1 = \pm \sqrt{\frac{1}{2}}$$

$$x_1 = 1 - \frac{\sqrt{2}}{2}, x_2 = 1 + \frac{\sqrt{2}}{2}$$

۳- استفاده از فرمول

این روش در حل بسیاری مسائل به ما کمک می‌کند. بنابراین وقتی روش‌های گفته شده قبلی روی یک معادله جواب موردنظر را نداد، با استفاده از فرمول می‌توانید به نتیجه‌ی دلخواه برسید.

مراحل زیر را دنبال کنید:

$$ax^2 + bx + c = 0 \quad (a \neq 0, a, b, c \in \mathbb{R})$$

$$x^2 + \frac{b}{a}x + \frac{c}{a} = 0 \quad (\text{دو طرف را به عدد } a \text{ تقسیم می‌کنیم})$$

$$x^2 + \frac{b}{a}x = -\frac{c}{a} \quad (\text{تلاش می‌کنیم تا به مربع کامل برسیم})$$

$$x^2 + \frac{b}{a}x + \left(\frac{b}{2a}\right)^2 = -\frac{c}{a} + \left(\frac{b}{2a}\right)^2 \quad (\text{را به دو طرف اضافه می‌کنیم})$$

$$\left(x + \frac{b}{2a}\right)^2 = \frac{-4ac + b^2}{4a^2}$$

$$x + \frac{b}{2a} = \pm \sqrt{\frac{b^2 - 4ac}{4a^2}} = \frac{\pm \sqrt{b^2 - 4ac}}{2a}$$

$$x = -\frac{b}{2a} \pm \frac{\sqrt{b^2 - 4ac}}{2a} = \frac{-b \pm \sqrt{b^2 - 4ac}}{2a}$$

$$x_1 = \frac{-b + \sqrt{b^2 - 4ac}}{2a}, x_2 = \frac{-b - \sqrt{b^2 - 4ac}}{2a}$$

عبارت $b^2 - 4ac$ را Δ می‌نامیم.

حل فرمولی معادله‌ی درجه‌ی دو

$$x = \frac{-b \pm \sqrt{\Delta}}{2a} \quad \text{اگر } ax^2 + bx + c = 0 \text{ و } a \neq 0 \text{ باشد، آن‌گاه:}$$

$$\Delta = b^2 - 4ac \quad \text{که}$$



با به کار بردن فرمول، معادله‌ی درجه‌ی دو $x^2 + 2x - 8 = 0$ را حل کنید.



ابتدا ضرایب a, b, c را مشخص می‌کنیم.

$$a = 1, b = 2, c = -8$$

حال این مقادیر را در فرمول قرار می‌دهیم:

$$x = \frac{-b \pm \sqrt{b^2 - 4ac}}{2a} = \frac{-2 \pm \sqrt{2^2 - 4 \times 1 \times (-8)}}{2 \times 1} = \frac{-2 \pm \sqrt{36}}{2}$$

$$x_1 = \frac{-2 + 6}{2} = \frac{4}{2} = 2, \quad x_2 = \frac{-2 - 6}{2} = \frac{-8}{2} = -4$$



ریشه‌های معادله‌ی زیر را با استفاده از فرمول به‌دست آورید.

$$3x^2 + 2x - 4 = 0$$



$$a = 3, b = 2, c = -4$$

$$\Rightarrow x = \frac{-b \pm \sqrt{b^2 - 4ac}}{2a} = \frac{-2 \pm \sqrt{2^2 - 4 \times 3 \times (-4)}}{2 \times 3} = \frac{-2 \pm \sqrt{52}}{6}$$

$$x_1 = \frac{-2 + \sqrt{52}}{6} = \frac{-2 + 2\sqrt{13}}{6} = \frac{-1 + \sqrt{13}}{3}$$

$$x_2 = \frac{-2 - \sqrt{52}}{6} = \frac{-2 - 2\sqrt{13}}{6} = \frac{-1 - \sqrt{13}}{3}$$

در ادامه قصد داریم با استفاده از علامت Δ ، تعداد ریشه‌های معادله‌ی درجه‌ی دو را به‌دست آوریم.

(۱) اگر $\Delta > 0$ باشد، معادله دو ریشه‌ی حقیقی متمایز دارد.

(۲) اگر $\Delta = 0$ باشد، معادله یک ریشه‌ی حقیقی دارد. (ریشه‌ی مضاعف یا ریشه مکرر مرتبه‌ی دو).

(۳) اگر $\Delta < 0$ باشد، معادله دارای ریشه حقیقی نمی‌باشد.



معادله‌ی $x^2 + 6x + 7 = 0$ را حل کنید.



ابتدا مقدار Δ را می‌یابیم.

$$\Delta = b^2 - 4ac = 36 - (4 \times 1 \times 7) = 8 \Rightarrow \Delta > 0$$

همان‌طور که مشاهده می‌کنیم، هرگاه مقدار Δ مثبت باشد، معادله دارای دو ریشه متمایز است.

$$x_1 = \frac{-6 + \sqrt{8}}{2} = -3 + \sqrt{2} \quad x_2 = \frac{-6 - \sqrt{8}}{2} = -3 - \sqrt{2}$$



معادله‌ی $x^2 - 4x + 4 = 0$ را حل کنید.



ابتدا مقدار Δ را به دست می‌آوریم:

$$\Delta = b^2 - 4ac = 16 - (4 \times 1 \times 4) = 0$$

$$\Delta = 0 \Rightarrow x_1 = \frac{4 - \sqrt{0}}{2}, \quad x_2 = \frac{4 + \sqrt{0}}{2}$$

بنابراین:

$$x_1 = x_2 = 2$$

می‌بینیم هنگامی که $\Delta = 0$ است، معادله یک ریشه دارد. (دو ریشه برابر که به آن ریشه مضاعف می‌گوییم).



معادله‌ی زیر را حل کنید.

$$x^2 - 2x + 5 = 0$$



$$\Delta = b^2 - 4ac = 4 - (4 \times 1 \times 5) = -16$$

همان‌طور که مشاهده می‌کنیم، $\Delta < 0$ است، بنابراین معادله ریشه حقیقی ندارد.

مثال

معادله‌ی $mx^2 + (2m+1)x + m - 1 = 0$ دو ریشه حقیقی دارد. مقدار m را بیابید.

پاسخ

معادله دو ریشه حقیقی دارد، در نتیجه $\Delta > 0$ است.

$$\Delta = b^2 - 4ac = (2m+1)^2 - 4m(m-1) = 4m^2 + 4m + 1 - 4m^2 + 4m = 8m + 1$$

$$\Delta = 8m + 1 > 0 \Rightarrow 8m > -1 \Rightarrow m > -\frac{1}{8}$$

بنابراین اگر $m > -\frac{1}{8}$ باشد، معادله دو ریشه حقیقی دارد.

مثال

ثابت کنید اگر a و b نابرابر باشند، معادله‌ی $(a^2 + b^2)x^2 + 2(a+b)x + 2 = 0$ ریشه حقیقی ندارد.

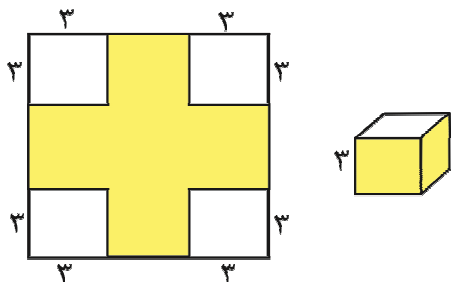
پاسخ

$$\begin{aligned} \Delta &= 4(a+b)^2 - 4(a^2 + b^2) \times 2 \\ &= 4(a^2 + 2ab + b^2) - 8(a^2 + b^2) \\ &= 4a^2 + 8ab + 4b^2 - 8a^2 - 8b^2 \\ &= -4a^2 + 8ab - 4b^2 \\ &= -4(a-b)^2 \end{aligned}$$

اگر $a \neq b$ باشد، همواره $\Delta < 0$ می‌شود. در نتیجه معادله‌ی داده شده ریشه حقیقی ندارد.

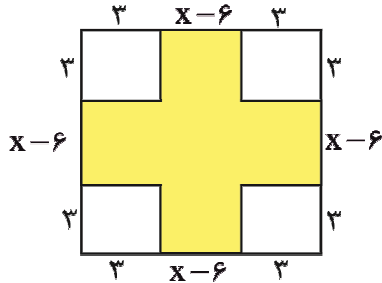
مثال

یک آهن‌بر، از هر کدام از گوشه‌های یک صفحه‌ی فلزی، مربعی به طول 3cm را برش می‌دهد و جدا می‌کند (مانند شکل). سپس لبه‌های صفحه باقی‌مانده را به سمت بالا حالت می‌دهد، تا یک جعبه‌ی رو باز ساخته شود، اگر حجم جعبه 48cm^3 باشد، ابعاد صفحه فلزی چه عددی است؟



اگر طول ضلع صفحه‌ی فلزی مربعی شکل X باشد، داریم:

چون حجم جعبه 48cm^3 است.



$$3(x-6)^2 = 48$$

$$(x-6)^2 = 16$$

$$x-6 = \pm 4$$

$$x_1 = 10, \quad x_2 = 2$$

$x_2 = 2$ قابل قبول نیست. زیرا دو تا از اضلاع مکعب منفی می‌شود. بنابراین طول ضلع صفحه‌ی فلزی $x = 10$ است.

مطالب زیر را می‌توانید در صورت تمایل مطالعه کنید.

تا اینجا مشاهده کردید که ریشه‌های یک معادله به ضرایب آن وابسته‌اند. بنابراین به طور قطع رابطه‌ای میان ریشه‌ها و ضرایب یک معادله وجود دارد.

می‌دانیم ریشه‌های معادله‌ی درجه‌ی دوم $ax^2 + bx + c = 0$ (به صورت زیر هستند.

$$x_1 = \frac{-b - \sqrt{\Delta}}{2a}, \quad x_2 = \frac{-b + \sqrt{\Delta}}{2a}$$

در ادامه قصد داریم ریشه‌های یک معادله درجه‌ی دوم را (در صورت وجود) با هم جمع کنیم.

$$x_1 + x_2 = \frac{-b - \sqrt{\Delta}}{2a} + \frac{-b + \sqrt{\Delta}}{2a} = \frac{-b - \sqrt{\Delta} + (-b + \sqrt{\Delta})}{2a} = \frac{-2b}{2a} = -\frac{b}{a}$$

بنابراین

$$x_1 + x_2 = -\frac{b}{a}$$

اگر ریشه‌های یک معادله درجه‌ی دو را (در صورت وجود) در هم ضرب کنیم، داریم:

$$\begin{aligned} x_1 \cdot x_2 &= \left(\frac{-b - \sqrt{\Delta}}{2a}\right) \cdot \left(\frac{-b + \sqrt{\Delta}}{2a}\right) = \frac{(-b - \sqrt{\Delta}) \cdot (-b + \sqrt{\Delta})}{4a^2} \\ &= \frac{b^2 - (b^2 - 4ac)}{4a^2} = \frac{4ac}{4a^2} = \frac{c}{a} \end{aligned}$$

در نتیجه

$$x_1 \cdot x_2 = \frac{c}{a}$$



فرض کنید x_1 و x_2 ریشه‌های معادله درجه‌ی دو $ax^2 + bx + c = 0$ باشند، مقدار $|x_1 - x_2|$ را به دست آورید.



داریم

$$x_1 - x_2 = \frac{-b - \sqrt{\Delta}}{2a} - \frac{-b + \sqrt{\Delta}}{2a} = \frac{-b - \sqrt{\Delta} + b - \sqrt{\Delta}}{2a} = \frac{-2\sqrt{\Delta}}{2a} = -\frac{\sqrt{\Delta}}{a}$$

در نتیجه

$$|x_1 - x_2| = \frac{\sqrt{\Delta}}{|a|}$$

بدون حل کردن، مجموع و حاصل ضرب ریشه‌های معادله‌های زیر را به دست آورید.

الف) $2x^2 + 6x + 5 = 0$

ب) $x^2 - 3x - 5 = 0$

فرض کنید x_1 و x_2 ریشه‌های غیرمنفی معادله‌ی $3x^2 + 2mx + 1 = 0$ باشند به طوری که داشته باشیم

$x_1 = 3x_2$. ریشه‌های x_1 و x_2 و مقدار m را بیابید.

پاسخ مثال



معادلات الف، ب و ج واضح است که درجه‌ی دو هستند. (چرا؟)

معادله‌ی (د) دارای متغیر x^{-1} است، بنابراین این معادله درجه‌ی دو نیست.

در قسمت (و) معادله‌ی $(x-1)(x+2) = 0$ همان معادله‌ی $x^2 + x - 2 = 0$ است که یک معادله‌ی درجه‌ی دو

می‌شود.

در معادله‌ی (ه) داریم: $x^3 - 2x^2 = (x-2)x^2 = x^3 - 2x^2 = 0$ ، بزرگ‌ترین توان متغیر x ، ۳ است، بنابراین معادله درجه‌ی دو

نیست.



$$-\frac{3}{2}x^2 = 0 \xrightarrow{\text{طبق روش الف}} x^2 = 0 \Rightarrow x_1 = x_2 = 0$$



$$\text{الف) } x^2 + x = 0$$

$$x(x+1) = 0 \Rightarrow$$

$$x = 0 \text{ یا } x+1 = 0 \Rightarrow$$

$$x = 0 \text{ یا } x = -1$$

$$\text{ب) } -4x^2 + 5x = 0$$

$$x(-4x+5) = 0 \Rightarrow$$

$$x = 0 \text{ یا } -4x+5 = 0$$

$$x = 0 \text{ یا } x = \frac{5}{4}$$

$$\text{ج) } \sqrt{3}x^2 - 2x = 0$$

$$x(\sqrt{3}x - 2) = 0$$

$$x = 0 \text{ یا } x = \frac{2}{\sqrt{3}} = \frac{2\sqrt{3}}{3}$$



$$\text{الف) } 3x^2 - 27 = 0$$

$$3x^2 = 27 \Rightarrow$$

$$x^2 = 9$$

$$x = \pm 3$$

$$\text{ب) } 2x^2 + 6 = 0$$

$$2x^2 = -6 \Rightarrow$$

$$x^2 = -3 \Rightarrow \text{معادله جواب ندارد.}$$

$$\text{ج) } 7 - 4x^2 = 2$$

$$4x^2 = 5 \Rightarrow$$

$$x^2 = \frac{5}{4} \Rightarrow$$

$$x = \pm \sqrt{\frac{5}{4}} = \pm \frac{\sqrt{5}}{2}$$



الف) $a = 2, b = 6, c = 5$

$$x_1 + x_2 = -\frac{b}{a} = \frac{-6}{2} = -3$$

$$x_1 \cdot x_2 = \frac{c}{a} = \frac{5}{2}$$

ب) $a = 1, b = -3, c = -5$

$$x_1 + x_2 = -\frac{b}{a} = \frac{3}{1} = 3$$

$$x_1 \cdot x_2 = \frac{c}{a} = \frac{-5}{1} = -5$$



$$x_1 = 3x_2$$


$$x_1 \cdot x_2 = \frac{c}{a} = \frac{1}{3} \Rightarrow 3x_2 \cdot x_2 = \frac{1}{3} \Rightarrow x_2^2 = \frac{1}{9} \Rightarrow x_2 = \pm \frac{1}{3}$$

چون $x_2 > 0$ است، مقدار منفی آن قابل قبول نیست.

$$x_2 = \frac{1}{3} \Rightarrow x_1 = 3 \times \frac{1}{3} = 1$$

$$x_1 + x_2 = \frac{-2m}{3} \Rightarrow 1 + \frac{1}{3} = -\frac{2m}{3} \Rightarrow \frac{4}{3} = \frac{-2m}{3} \Rightarrow m = -2$$

سهمی



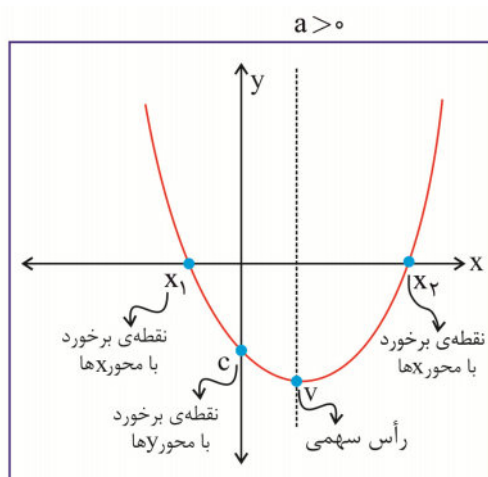
در درس قبل با روش‌های به‌دست آوردن ریشه‌های یک معادله درجه دو آشنا شدید. در ادامه قصد داریم ترسیم نمودار معادله درجه دو را به شما آموزش دهیم.

دقت کنید که نمودار $y = ax^2 + bx + c$, $a \neq 0$ به صورت منحنی است.

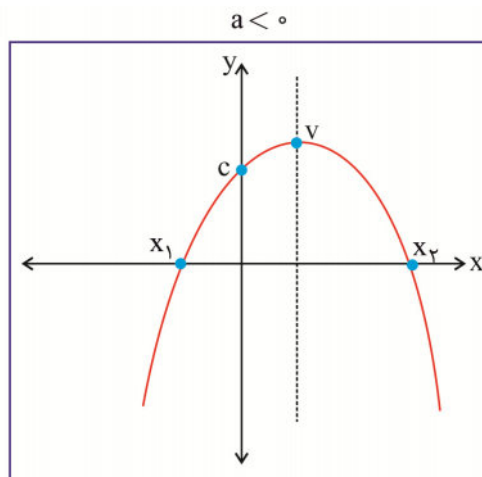
تعریف:

به نمودار معادله $y = ax^2 + bx + c$ ، $a \neq 0$ سهمی گفته می‌شود.

به شکل‌های زیر دقت کنید.



(وقتی $a > 0$ ، دهانه سهمی به سمت بالا است.)



(وقتی $a < 0$ ، دهانه سهمی به سمت پایین است.)

ابتدا بهتر است با اجزای سهمی آشنا شوید.

نقطه V که در بالاترین نقطه سهمی یا پایین‌ترین نقطه آن قرار دارد و رأس سهمی نامیده می‌شود.

خط عمودی که با نقطه چین کشیده شده و از رأس سهمی می‌گذرد، محور تقارن سهمی گوئیم.

نقاط X_1 و X_2 ، نقطه‌های برخورد سهمی با محور X هستند. در واقع آن‌ها ریشه‌های معادله درجه دو

$$ax^2 + bx + c = 0$$

به حساب می‌آیند.

نقطه c ، نقطه برخورد سهمی با محور y است. (عرض از مبدأ)

رسم نمودار معادله $y = ax^2$

حال این سؤال پیش می‌آید که چگونه می‌توانیم نمودار معادله $y = ax^2$ را رسم کنیم؟

برای رسم نمودار معادله $y = ax^2$ ، ابتدا جدولی می‌کشیم. سپس به x مقادیر مختلف را می‌دهیم و مقدار y متناظر با

آن را به دست می‌آوریم.

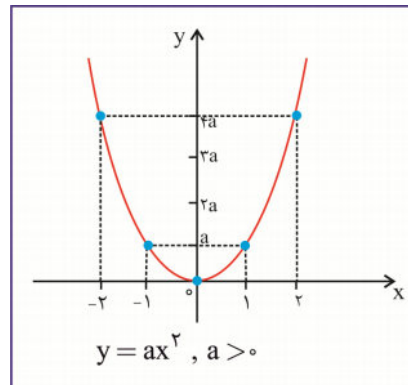
با استفاده از نقاط به دست آمده توسط x و y ، نمودار متناظر با معادله را رسم می‌کنیم.

اگر $a > 0$ باشد.

$$\begin{aligned} x = -\infty &\Rightarrow y = +\infty \\ x = -2 &\Rightarrow y = a(-2)^2 = 4a \\ x = -1 &\Rightarrow y = a(-1)^2 = a \\ x = 0 &\Rightarrow y = a(0)^2 = 0 \\ x = 1 &\Rightarrow y = a(1)^2 = a \\ x = 2 &\Rightarrow y = a(2)^2 = 4a \\ x = +\infty &\Rightarrow y = +\infty \end{aligned}$$

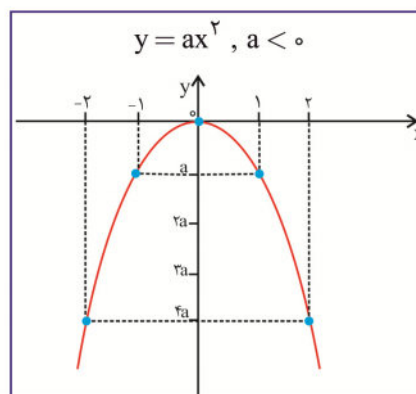
توجه کنید که مفهوم $(-\infty, +\infty)$ و $(+\infty, +\infty)$ این است که نمودار از دو طرف ادامه دارد.

x	$-\infty$	-2	-1	0	1	2	$+\infty$
y	$+\infty$	$4a$	a	0	a	$4a$	$+\infty$



اگر $a < 0$ باشد.
داریم:

x	$-\infty$	-2	-1	0	1	2	$+\infty$
y	$-\infty$	$4a$	a	0	a	$4a$	$-\infty$



مشاهده می‌کنید مختصات رأس سهمی $y = ax^2$ نقطه $(0, 0)$ و محور تقارن آن منطبق بر محور y است (خط $x = 0$).

شکل نمودارهای به‌دست آمده را به خاطر بسپارید.

مثال

نمودار معادلات زیر را رسم کنید.

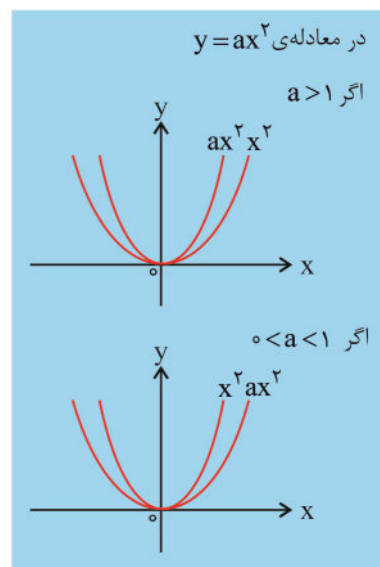
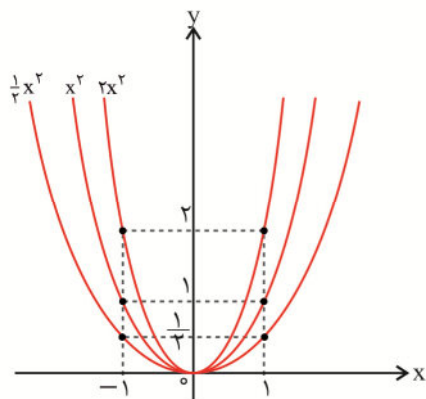
الف) $y = x^2$, $y = 2x^2$, $y = \frac{1}{2}x^2$

ب) $y = -x^2$, $y = -2x^2$, $y = -\frac{1}{2}x^2$

پاسخ

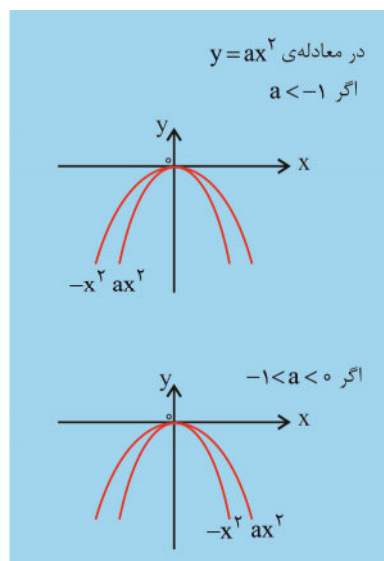
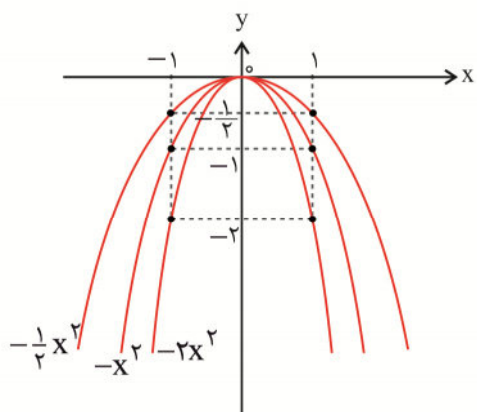
(الف)

x	$-\infty$	-۲	-۱	۰	۱	۲	$+\infty$
$y = x^2$	$+\infty$	۴	۱	۰	۱	۴	$+\infty$
$y = 2x^2$	$+\infty$	۸	۲	۰	۲	۸	$+\infty$
$y = \frac{1}{2}x^2$	$+\infty$	۲	$\frac{1}{2}$	۰	$\frac{1}{2}$	۲	$+\infty$



(ب)

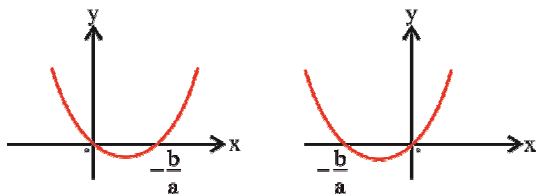
x	$-\infty$	-۲	-۱	۰	۱	۲	$+\infty$
$y = -x^2$	$-\infty$	-۴	-۱	۰	-۱	-۴	$-\infty$
$y = -۲x^2$	$-\infty$	-۸	-۲	۰	-۲	-۸	$-\infty$
$y = -\frac{1}{۲}x^2$	$-\infty$	-۲	$-\frac{1}{۲}$	۰	$-\frac{1}{۲}$	-۲	$-\infty$



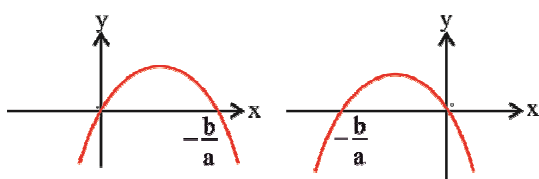
نکته

در معادله $y = ax^2$ ، اگر $|a|$ افزایش بیابد، دهانه سهمی باریک‌تر و اگر $|a|$ کم شود، دهانه سهمی عریض‌تر می‌شود. نمودار معادله $y = ax^2 + bx$ به صورت زیر است:

$$y = ax^2 + bx, \quad a > 0$$



$$y = ax^2 + bx, \quad a < 0$$



رسم نمودار معادله $y = ax^2 + bx + c$

برای رسم نمودار معادله $y = ax^2 + bx + c$ مراحل زیر را دنبال کنید.

۱- پیدا کردن مختصات رأس سهمی

۲- پیدا کردن نقاط برخورد با محور X و Y

۳- در نهایت با توجه به مختصات به دست آمده، سهمی را رسم می‌کنیم.

۱- رأس سهمی

فرض کنید x_1 و x_2 ریشه‌های چندجمله‌ای $y = ax^2 + bx + c$ باشد. بنابراین:

$$ax^2 + bx + c = a(x - x_1)(x - x_2)$$

$$= a\left(x - \frac{-b + \sqrt{\Delta}}{2a}\right)\left(x - \frac{-b - \sqrt{\Delta}}{2a}\right)$$

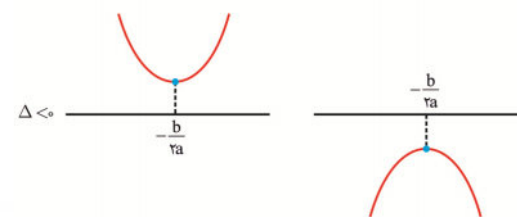
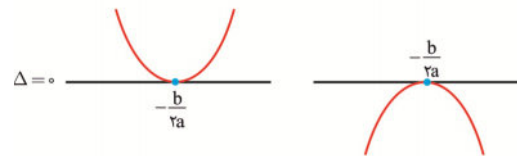
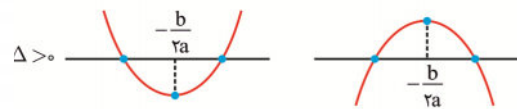
$$= a\left[x^2 - x\left(\frac{-b - \sqrt{\Delta}}{2a}\right) - x\left(\frac{-b + \sqrt{\Delta}}{2a}\right) + \frac{b^2 - \Delta}{4a^2}\right]$$

$$\left[x^2 + \frac{xb + x\sqrt{\Delta} + xb - x\sqrt{\Delta}}{2a} + \frac{b^2}{4a^2} - \frac{\Delta}{4a^2}\right]$$

$$\left[x^2 + \frac{bx}{a} + \frac{b^2}{4a^2}\right] - \frac{\Delta}{4a^2}$$

$$\left(x + \frac{b}{2a}\right)^2 - \frac{\Delta}{4a^2}$$

$$(x - h)^2 + k, \quad h = -\frac{b}{2a}, \quad k = -\frac{\Delta}{4a^2}$$



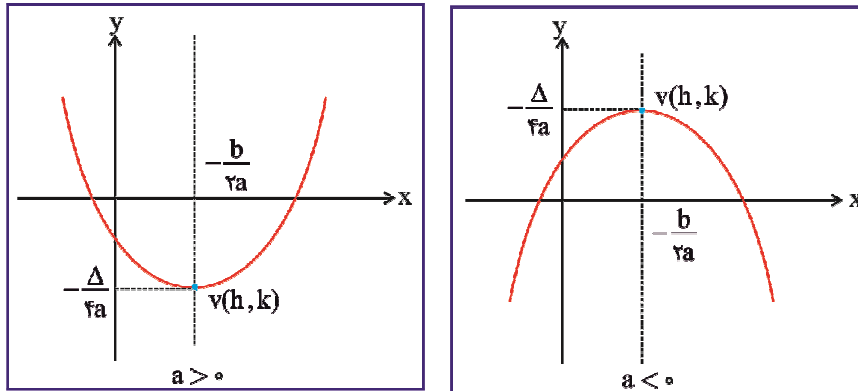
اگر معادله درجه دو $y = ax^2 + bx + c$ دارای دو ریشه باشد، مختصات طول رأس آن به صورت $h = \frac{x_1 + x_2}{2}$ به دست می‌آید.

عبارت به دست آمده فرم مربع کامل معادله درجه دو $y = ax^2 + bx + c$ است، که در آن نقطه (h, k) مختصات

رأس سهمی است.

با توجه به این مطلب نتیجه می‌گیریم که $x = h$ محور تقارن سهمی است.

دقت کنید که در حالت کلی اگر $a > 0$ باشد، مقدار y در مختصات رأس سهمی (k) ، کمترین مقدار معادله درجه دو است و اگر $a < 0$ باشد، مقدار y در مختصات رأس سهمی (k) ، بیشترین مقدار معادله درجه دو است.



نکته

نمودار معادله $y = ax^2 + bx + c$ ، رأسی به مختصات $(-\frac{b}{2a}, \frac{4ac - b^2}{4a})$ و خط تقارنی به معادله $x = -\frac{b}{2a}$ دارد.

مثال

مختصات رأس سهمی و معادله محور تقارن سهمی‌های زیر را پیدا کنید. همچنین بیشترین یا کمترین مقدار آن‌ها را مشخص کنید.

الف) $y = x^2 - 2x - 3$

ب) $y = -x^2 + 4x + 5$

ج) $y = x^2 + 3x + 1$

پاسخ

الف) می‌دانیم که مختصات رأس سهمی به صورت $(-\frac{b}{2a}, \frac{4ac - b^2}{4a})$ و معادله محور تقارن آن $x = -\frac{b}{2a}$ است.

$$V: (-\frac{-2}{2 \times 1}, \frac{4 \times 1 \times (-3) - (-2)^2}{4 \times 1}) = (1, -4)$$

$x = 1$ محور تقارن و $y = -4$ کمترین مقدار این سهمی است. (زیرا $a > 0$).
(ب)

$$V: (\frac{-4}{2(-1)}, \frac{4 \times (-1) \times (5) - (4)^2}{4 \times (-1)}) = (2, 9)$$

$x = 2$ محور تقارن و $y = 9$ بیشترین مقدار این سهمی است. (زیرا $a < 0$).
(ج)

$$V: (-\frac{3}{2 \times 1}, \frac{4 \times (1) \times (1) - 3^2}{4 \times 1}) = (-\frac{3}{2}, -\frac{5}{4})$$

$x = -\frac{3}{2}$ محور تقارن و $y = -\frac{5}{4}$ کمترین مقدار این سهمی است. ($a > 0$)



اگر خط $3x + 1 = 0$ محور تقارن سهمی $y = -2x^2 + mx - 1$ باشد، بیشترین مقدار این سهمی چقدر است؟



$$\text{محور تقارن سهمی } 3x + 1 = 0 \Rightarrow x = -\frac{1}{3}$$

$$h = -\frac{1}{3} = -\frac{b}{2a} = -\frac{m}{2 \times (-2)} \Rightarrow m = \frac{-4}{3}$$

با توجه به این که $a = -2 < 0$ ، این سهمی دارای بیشترین مقدار است.

$$k = \frac{4ac - b^2}{4a} = \frac{4(-2)(-1) - \left(-\frac{4}{3}\right)^2}{4(-2)} = -\frac{7}{9}$$



کمترین مقدار عبارت $y = x^2 - 8x + n$ عدد -4 است. مقدار n را به دست آورید.

۲- نقاط برخورد با محور x و y

معادله درجه دو $y = ax^2 + bx + c$ و $a \neq 0$ را در نظر بگیرید.

(۱) اگر $x = 0$ باشد، $y = c$ می‌شود و نقطه $(0, c)$ ، نقطه برخورد این سهمی با محور y ها نامیده می‌شود. به این معنی که نمودار این چندجمله‌ای محور y ها را در نقطه $(0, c)$ قطع می‌کند.

(۲) اگر $y = 0$ باشد، $ax^2 + bx + c = 0$ می‌شود. فرض کنیم x_1 و x_2 ریشه‌های این معادله باشند، نقطه‌های $(x_1, 0)$ و $(x_2, 0)$ ، نقاط برخورد این سهمی با محور x ها هستند. یعنی نمودار این سهمی محور x ها را در نقاط $(x_1, 0)$ و $(x_2, 0)$ قطع می‌کند.

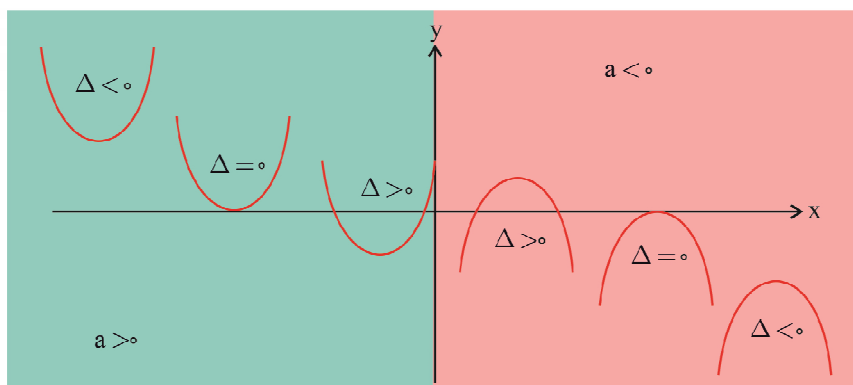
می‌دانید برای ریشه‌های معادله درجه دو، سه حالت وجود دارد، حالت‌های مختلف را بررسی می‌کنیم:

۱- اگر $\Delta > 0$ باشد، سهمی در دو نقطه‌ی مجزا محور x را قطع می‌کند.

۲- اگر $\Delta = 0$ باشد، سهمی فقط در یک نقطه بر محور x مماس می‌شود.

۳- اگر $\Delta < 0$ باشد، سهمی با محور x هیچ نقطه برخوردی ندارد.

به شکل زیر دقت کنید.





نقطه برخورد با محور x و y را در هر یک از معادلات زیر به دست آورید.

الف) $y = x^2 - 9$

ب) $y = -4x^2 + 5x$

ج) $y = x^2 + 3x + 7$

د) $y = 4x^2 + 20x + 25$



الف) نقطه برخورد با محور y $(0, -9)$ $x = 0 \Rightarrow y = -9$

$$y = 0 \Rightarrow x^2 - 9 = 0 \Rightarrow x_1 = -3, x_2 = 3$$

در نتیجه نقطه‌های $(3, 0)$ و $(-3, 0)$ ، نقاط برخورد با محور x هستند.

ب) نقطه برخورد با محور y $(0, 0)$ $x = 0 \Rightarrow y = 0$

$$y = 0 \Rightarrow -4x^2 + 5x = 0 \Rightarrow x_1 = 0, x_2 = \frac{5}{4}$$

نقطه‌های $(0, 0)$ و $(\frac{5}{4}, 0)$ ، نقاط برخورد با محور x هستند.

ج) نقطه برخورد با محور y $(0, 7)$ $x = 0 \Rightarrow y = 7$

$$y = 0 \Rightarrow x^2 + 3x + 7 = 0$$

$$\Delta = 3^2 - 4 \times 1 \times 7 = -19 < 0$$

این سهمی در هیچ نقطه‌ای محور x را قطع نمی‌کند.

د) نقطه برخورد با محور y $(0, 25)$ $x = 0 \Rightarrow y = 25$

$$y = 0 \Rightarrow 4x^2 + 20x + 25 = 0$$

$$\Delta = 20^2 - 4 \times 4 \times 25 = 0 \Rightarrow x_1 = x_2 = \frac{-20}{8} = -\frac{5}{2}$$

سهمی در نقطه $(-\frac{5}{2}, 0)$ بر محور x مماس می‌شود.

عبارت $y = x^2 + (m+2)x + 5 + m$ را در نظر بگیرید. اگر نمودار این سهمی در یک نقطه بر



محور x مماس شود، مقدار m را به دست آورید.

۳- رسم منحنی

برای رسم منحنی $y = ax^2 + bx + c$ و $a \neq 0$ مراحل زیر را انجام دهید.

۱- به علامت a دقت کنید.

اگر $a > 0$ باشد، نمودار سهمی دارای کمترین مقدار است و دهانه آن به سمت بالا است.

اگر $a < 0$ باشد، نمودار سهمی دارای بیشترین مقدار است و دهانه آن به سمت پایین است.

۲- مختصات رأس سهمی را بیابید، یعنی نقطه $V : (h, k)$.

۳- نقاط برخورد با محور x و y را مشخص کنید.

۴- نمودار سهمی را رسم کنید.

نمودار سهمی‌های زیر را رسم کنید.

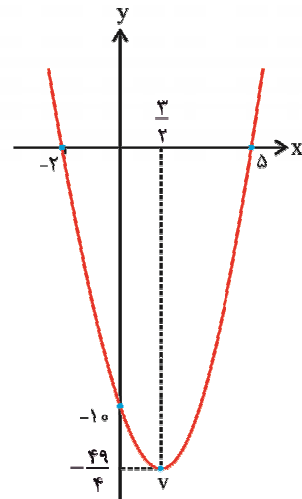
الف) $y = x^2 - 3x - 10$

ب) $y = x^2 + 4x + 5$

ج) $y = -2x^2 - 8x$

د) $y = x^2 - 2\sqrt{2}x + 2$

الف) $a = 1 > 0$ ، پس دهانه‌ی سهمی به سمت بالا است.



$$h = -\frac{b}{2a} = \frac{3}{2}$$

$$k = \frac{4ac - b^2}{4a} = \frac{4(1)(-10) - (-3)^2}{4(1)} = -\frac{49}{4}$$

مختصات رأس سهمی $V: (\frac{3}{2}, -\frac{49}{4})$

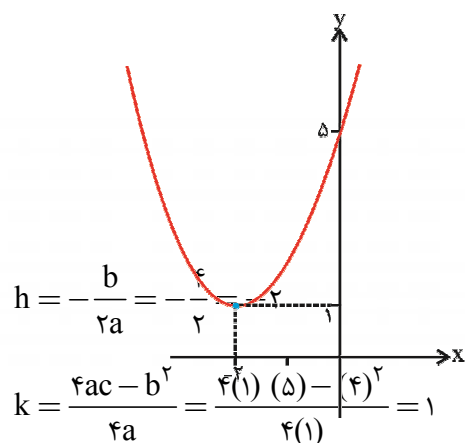
نقطه برخورد با محور y $(0, -10)$ ، $(0, -10)$

$$y = 0: x^2 - 3x - 10 = 0 \Rightarrow (x - 5)(x + 2) = 0 \Rightarrow x = 5, x = -2$$

نقاط برخورد با محور x $(5, 0)$ ، $(-2, 0)$

ب)

$a = 1 > 0$ ، پس دهانه سهمی به سمت بالا است.



$$h = -\frac{b}{2a} = -\frac{4}{2} = -2$$

$$k = \frac{4ac - b^2}{4a} = \frac{4(1)(5) - (4)^2}{4(1)} = 1$$

مختصات رأس سهمی $V: (-2, 1)$

نقطه برخورد با محور y $(0, 5)$ ، $(0, 5)$

سهمی محور x را قطع نمی‌کند. $\Delta = 4^2 - 4(1)(5) = -4 < 0$

ج) $a = -2 < 0$ ، بنابراین دهانه سهمی به سمت پایین است.

$$h = -\frac{b}{2a} = -\frac{-8}{2(-2)} = -2$$

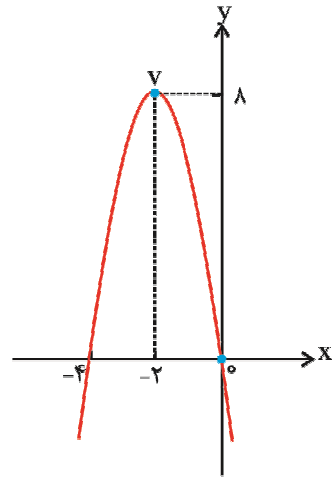
$$k = \frac{4ac - b^2}{4a} = \frac{4(-2)(0) - (-8)^2}{4(-2)} = 8$$

مختصات رأس سهمی $V: (-2, 8)$

نقطه برخورد با محور y $(0, 0)$ $x = 0 \Rightarrow y = 0$

$$y = 0 \Rightarrow -2x^2 - 8x = 0 \Rightarrow -2x(x + 4) = 0 \Rightarrow x = 0, x = -4$$

نقاط برخورد با محور x $(0, 0), (-4, 0)$



د) $a = 1 > 0$ ، پس دهانه سهمی به سمت بالا است.

$$h = -\frac{b}{2a} = -\frac{-2\sqrt{2}}{2 \times (1)} = \sqrt{2}$$

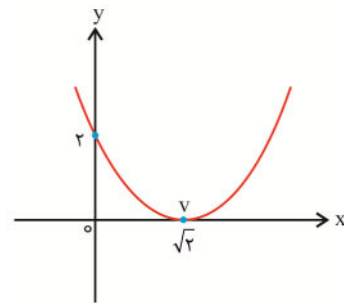
$$k = \frac{4ac - b^2}{4a} = \frac{4(1)(2) - (-2\sqrt{2})^2}{4(1)} = 0$$

نقطه برخورد با محور y $(0, 2)$ $x = 0 \Rightarrow y = 2$

$$y = 0 \Rightarrow x^2 - 2\sqrt{2}x + 2 = 0 \Rightarrow (x - \sqrt{2})^2 = 0$$

$$x_1 = x_2 = \sqrt{2}$$

نقطه مماس بر محور x $(\sqrt{2}, 0)$



انتقال سهمی

معادله سهمی $y = x^2$ را در نظر بگیرید.

الف) انتقال عمودی

شکل (۱) نمودار سهمی به اندازه $|k|$ واحد در راستای محور y بالا می‌رود. $k > 0$
 نمودار سهمی به اندازه $|k|$ واحد در راستای محور y پایین می‌رود. $k < 0$

$$y = x^2 + k$$

ب) انتقال افقی

شکل (۲) نمودار سهمی به اندازه $|h|$ واحد به سمت چپ می‌رود. $h > 0$
 نمودار سهمی به اندازه $|h|$ واحد به سمت راست می‌رود. $h < 0$

$$y = (x + h)^2$$

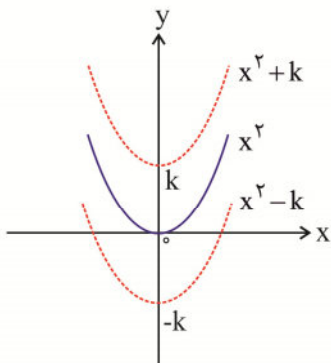
ج) انعکاس سهمی

$y = -x^2$ نمودار سهمی نسبت به محور x قرینه می‌شود. شکل (۳)

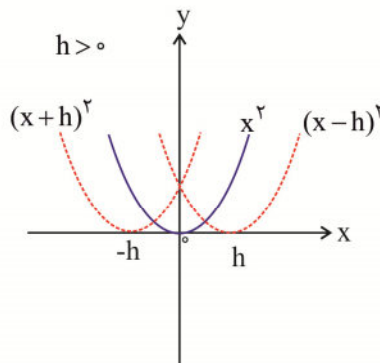
د) انتقال عمودی و افقی

نمودار سهمی به اندازه $|k|$ واحد در راستای محور y به سمت بالا یا پایین جابه‌جا می‌شود.

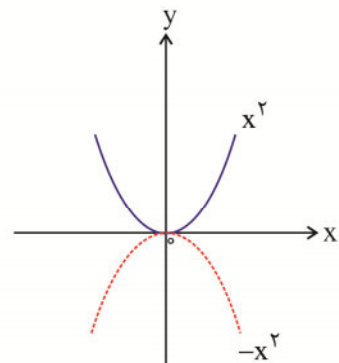
و به اندازه $|h|$ واحد در راستای محور x به سمت چپ یا راست می‌رود.



شکل (۱)



شکل (۲)



شکل (۳)

مثال

نمودار هر یک از سهمی‌های زیر را با استفاده از روش انتقال رسم کنید.

الف) $y = x^2 + 3$

ب) $y = x^2 - 3$

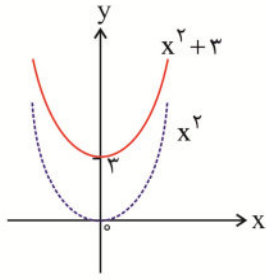
ج) $y = (x - 3)^2$

د) $y = (x + 3)^2$

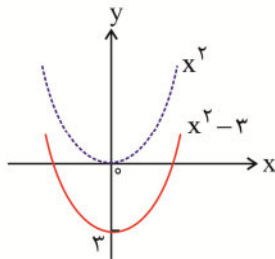
ن) $y = -(x - 4)^2$

و) $y = (x + 2)^2 - 3$

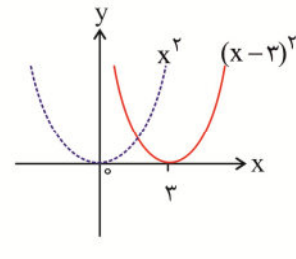
هـ) $y = -(x - 2)^2 + 1$



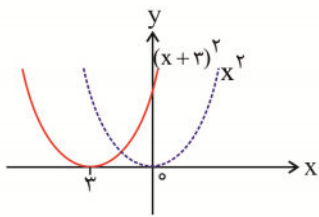
(الف)



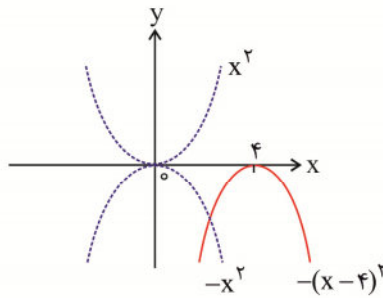
(ب)



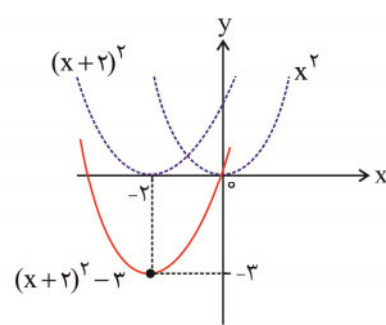
(ج)



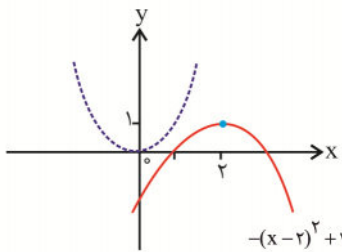
(د)



(ن)



(و)



(هـ)

به دست آوردن معادله سهمی

تاکنون آموختیم که چگونه نمودار یک سهمی را رسم کنیم. حال این سؤال پیش می‌آید که اگر نمودار یک سهمی را داشته باشیم، چگونه معادله آن را به دست آوریم؟

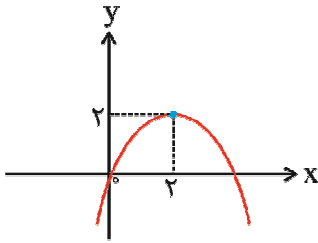
روش‌های مختلفی برای رسیدن به این هدف وجود دارد. استفاده از این روش‌ها بستگی به داده‌های مسئله دارد. اگر نقطه رأس سهمی $(V : (h, k))$ داده شده باشد، می‌توانیم برای به دست آوردن این معادله از فرمول $y = a(x - h)^2 + k$ استفاده کنیم. (البته باید یک نقطه دیگر از سهمی را نیز داشته باشیم.)

اگر ریشه‌های سهمی را داشته باشیم می‌توانیم از فرمول $y = a(x - x_1)(x - x_2)$ برای به دست آمدن معادله سهمی استفاده کنیم. ضمناً باید یک نقطه دیگر از سهمی را نیز داشته باشیم.

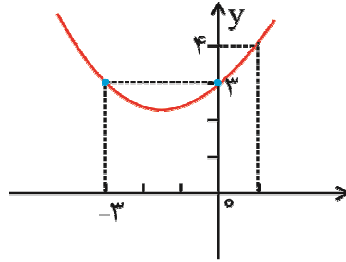
اگر سه نقطه دلخواه از سهمی را داشته باشیم: می‌توانیم از فرمول $y = ax^2 + bx + c$ برای رسیدن به هدف مورد نظر استفاده کنیم.

مثال

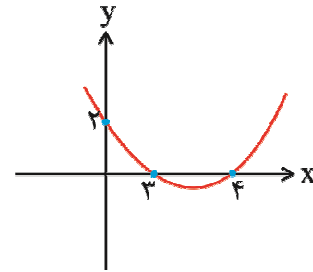
معادله هر یک از سهمی‌های زیر را بنویسید.



(الف)



(ب)



(ج)

پاسخ

(الف) رأس سهمی نقطه $V = (2, 2)$ است، بنابراین داریم:

$$y = a(x - 2)^2 + 2$$

همچنین می‌بینیم که سهمی از نقطه $(0, 0)$ می‌گذرد. بنابراین این نقطه در معادله سهمی صدق می‌کند. پس:

$$0 = a(0 - 2)^2 + 2 \Rightarrow 0 = 4a + 2 \Rightarrow a = -\frac{1}{2}$$

$$y = -\frac{1}{2}(x - 2)^2 + 2 \Rightarrow y = -\frac{1}{2}x^2 + 2x$$

(ب) فرض کنید معادله سهمی $y = ax^2 + bx + c$ باشد. همان‌طور که در شکل می‌بینیم سهمی از نقاط $(0, 3)$ ، $(-3, 3)$ و $(1, 4)$ می‌گذرد. بنابراین این نقاط در معادله سهمی صدق می‌کنند.

$$(0, 3) : 3 = c$$

$$(-3, 3) : 3 = 9a - 3b + 3 \Rightarrow 9a - 3b = 0$$

$$(1, 4) : 4 = a + b + 3 \Rightarrow a + b = 1$$

$$\begin{cases} 9a - 3b = 0 & (1) \\ a + b = 1 & (2) \end{cases}$$

$$(1), (2) \Rightarrow a = \frac{1}{4}, b = \frac{3}{4}$$

بنابراین معادله این سهمی به صورت زیر است:

$$y = \frac{1}{4}x^2 + \frac{3}{4}x + 3$$

(ج) از آنجایی که نقاط $(3, 0)$ و $(4, 0)$ ریشه‌های سهمی موردنظر هستند پس فرض می‌کنیم معادله سهمی $y = a(x - 3)(x - 4)$ باشد، نقطه $(0, 2)$ روی سهمی قرار دارد. بنابراین:

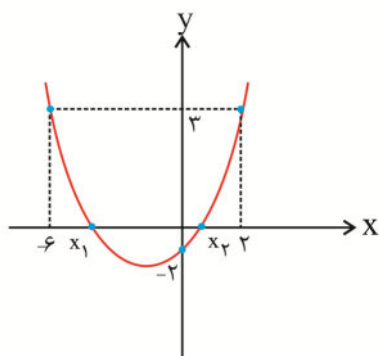
$$2 = a(0 - 3)(0 - 4) \Rightarrow a = \frac{1}{6}$$

$$y = \frac{1}{6}(x - 3)(x - 4)$$

$$\Rightarrow y = \frac{1}{6}x^2 - \frac{7}{6}x + 2$$



اگر x_1 و x_2 ریشه‌های سهمی زیر باشند، مقدار $x_1 + x_2$ را به دست آورید.



پاسخ مثال



داریم:

$$-4 = \frac{f(n) - (-2)^2}{f(1)} \Rightarrow n = 12$$

$$\Delta = (m+2)^2 - 4(m+2) = m^2 - 16$$

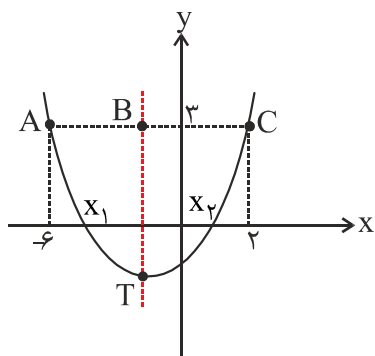
$$\Delta = m^2 - 16 = 0 \Rightarrow m = \pm 4$$



مقدار h این سهمی در نقطه $+2$ و -6 برابر است.

$$AB = BC \Rightarrow h = \frac{-6+2}{2} = -2$$

$$h = -\frac{b}{2a} \Rightarrow \frac{x_1 + x_2}{2} = -2 \Rightarrow x_1 + x_2 = -4$$



تعیین علامت

همان طور که می‌دانیم یک معادله، گزاره‌ای است که نشان می‌دهد دو عبارت با هم برابرند.

به عنوان مثال $a = b$ یک معادله است.

در حل مسائل تنها آگاهی از معادلات کافی نیست و گاهی لازم است که از نامعادلات نیز استفاده کنیم، بنابراین آشنایی

با آن‌ها الزامی است.

به عبارات زیر دقت کنید:

(الف) قیمت ماشین علی بیشتر از ۲۰ میلیون تومان نیست. ($x \leq 20000000$)

(ب) جرم سارا کمتر از ۶۰ کیلوگرم است. ($y < 60$)

(ج) حقوق احمد بیشتر از دو میلیون تومان است. ($z > 2000000$)

آیا می‌توانید مسئله زیر را حل کنید.

نمره زبان زهرا در سه امتحان اول ۸۶، ۸۸ و ۷۸ (از ۱۰۰) شده است. اگر او بخواهد بعد از امتحان چهارم میانگین

نمره‌هایش حداقل ۸۰ باشد، در امتحان چهارم باید حداقل چه نمره‌ای کسب کند؟

فرض کنیم نمره زهرا در امتحان چهارم x باشد.

$$\frac{78 + 88 + 86 + x}{4} \geq 80 \Rightarrow 78 + 88 + 86 + x \geq 320 \Rightarrow 252 + x \geq 320$$

$$\Rightarrow x - 68 \geq 0 \Rightarrow x \geq 68$$

یعنی زهرا در امتحان چهارم باید حداقل نمره ۶۸ را کسب کند.

یادآوری

به جدول زیر توجه کنید:

بازه	نامساوی	نمودار هندسی
$(-\infty, a)$	$x < a$	
$(-\infty, a]$	$x \leq a$	
$(a, +\infty)$	$x > a$	
$[a, +\infty)$	$x \geq a$	
$[a, b]$	$a \leq x \leq b$	
$[a, b)$	$a \leq x < b$	
$(a, b]$	$a < x \leq b$	
(a, b)	$a < x < b$	
$(-\infty, +\infty)$	\mathbb{R}	

نامساوی خطی

تعریف

یک نامساوی خطی، نامساوی است که می‌تواند به شکل‌های زیر نوشته شود.

$$\begin{aligned} ax + b > 0 & , & ax + b < 0 \\ ax + b \geq 0 & , & ax + b \leq 0 \end{aligned}$$

دقت کنید که $a, b \in \mathbb{R}$ و $a \neq 0$ است.

لازم است بدانید اگر دو طرف نامساوی را در یک عدد منفی، ضرب یا تقسیم کنیم، جهت نامساوی باید عوض شود. توجه کنید که منظور از حل کردن یک نامعادله، پیدا کردن مقدار یا محدوده متغیر آن (x) است.



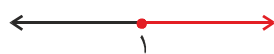
نامعادلات زیر را حل کنید و جواب به دست آمده را روی نمودار نمایش دهید.

الف) $2x + 3 \leq 5x$

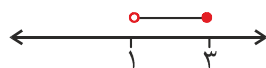
ب) $2 < 3x - 1 \leq 8$



الف) $2x + 3 \leq 5x \Rightarrow -3x \leq -3 \Rightarrow x \geq 1$ $[1, +\infty)$



ب) $2 < 3x - 1 \leq 8 \Rightarrow 3 < 3x \leq 9 \Rightarrow 1 < x \leq 3$ $(1, 3]$

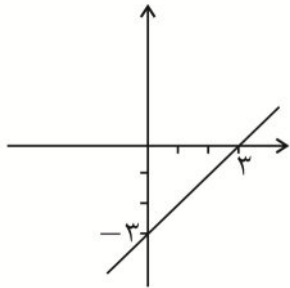


جدول تعیین علامت

در حالت کلی، برای حل یک نامعادله خطی مانند $ax + b > 0$ یا $ax + b \leq 0$ ، لازم است که علامت چندجمله‌ای $a \neq 0$ و $ax + b$ را بدانیم.

مثال

نمودار خط $y = x - 3$ در شکل زیر رسم شده است. آیا می‌توانید با استفاده از آن، علامت y را در جدول داده شده، بنویسید:



x	$-\infty$	3	$+\infty$
$y = x - 3$?	o	?

پاسخ

همان‌طور که روی نمودار مشاهده می‌کنید، هنگامی که $x > 3$ است، مقدار y مثبت است و هنگامی که $x < 3$ است، مقدار y منفی می‌شود. مثلاً:

$$x > 3: x = 4 \Rightarrow y = 4 - 3 = 1 > 0$$

$$x < 3: x = 2 \Rightarrow y = 2 - 3 = -1 < 0$$

در نتیجه داریم:

x	$x < 3$	3	$x > 3$
$y = x - 3$	-	o	+

برای تعیین علامت چندجمله‌ای $ax + b, a \neq 0$ مراحل زیر را دنبال کنید:

(۱) ریشه چندجمله‌ای را به دست آورید.

$$ax + b = 0 \Rightarrow x = -\frac{b}{a}$$

(۲) جدولی به نام جدول تعیین علامت، به صورت زیر رسم کنید.

x	$x < -\frac{b}{a}$	$x = -\frac{b}{a}$	$x > -\frac{b}{a}$
$ax + b$	علامت $ax + b$ مخالف علامت a است.	o	علامت $ax + b$ با علامت a یکی است.

مشاهده می‌کنید که جدول تعیین علامت نشان می‌دهد:

اگر $x \in (-\infty, -\frac{b}{a})$ باشد، علامت چندجمله‌ای مخالف علامت a است.

اگر $x \in (-\frac{b}{a}, +\infty)$ باشد، علامت چندجمله‌ای با علامت a یکی است.

مثال

نامعادله $3x - 2 \geq 0$ را حل کنید.

پاسخ

ابتدا ریشه $3x - 2 = 0$ را پیدا می‌کنیم.

$$3x - 2 = 0 \Rightarrow 3x = 2 \Rightarrow x = \frac{2}{3}$$

جدول تعیین علامت را رسم می‌کنیم.

x	$-\infty$	$x = \frac{2}{3}$	$+\infty$
$3x - 2$	-	o	+

داریم:

اگر $x \in (-\infty, \frac{2}{3})$ باشد، $3x - 2$ منفی است.

اگر $x \in (\frac{2}{3}, +\infty)$ باشد، $3x - 2$ مثبت است.

چون هدف ما یافتن x هایی است که به‌ازای آن $3x - 2 \geq 0$ می‌باشد پس $x \in [\frac{2}{3}, +\infty)$.

مثال

نامساوی $6 - 2x \geq 0$ را با استفاده از جدول تعیین علامت حل کنید.

پاسخ

$$6 - 2x = 0 \Rightarrow x = 3$$

x	$-\infty$	3	$+\infty$
$6 - 2x$	+	o	-

چون $6 - 2x \geq 0$ مدنظر است، پس جواب نامعادله $x \in (-\infty, 3]$ خواهد بود.



نامساوی‌های زیر را با استفاده از جدول تعیین علامت حل کنید.

الف) $5 - 2x < 0$

ب) $\frac{x+14}{6} - \frac{x-12}{8} \leq 3$

ج) $6x + (x-2)(x+2) \geq (x+4)^2$

نامعادله درجه دو

نامعادله‌ای که می‌تواند به یکی از شکل‌های زیر نوشته شود را یک نامعادله درجه دو می‌گوییم.

$$ax^2 + bx + c > 0, \quad ax^2 + bx + c < 0$$

$$ax^2 + bx + c \geq 0, \quad ax^2 + bx + c \leq 0$$

دقت کنید که $a, b, c \in \mathbb{R}$ و $a \neq 0$ است.

تاکنون آموختید که چگونه یک نامعادله خطی را حل کنید. حال این سؤال پیش می‌آید که مجموعه جواب یک نامعادله درجه دو را چگونه به دست آوریم؟
به عنوان مثال نامعادله زیر را در نظر بگیرید.

$$x^2 - 5x \geq -6$$

برای حل این نامعادله ابتدا آن را به صورت زیر می‌نویسیم. (طوری که فقط 0 در سمت راست باشد).

$$x^2 - 5x + 6 \geq 0$$



دقت کنید که اگر علامت \leq یا \geq در نامعادله‌ها استفاده شود، ریشه‌های چندجمله‌ای درجه دو نیز جزء جواب‌های آن نامعادله هستند. (چرا؟)

بنابراین ابتدا ریشه‌های $x^2 - 5x + 6$ را می‌یابیم.

$$x^2 - 5x + 6 = (x-2)(x-3) = 0 \Rightarrow x=2, x=3$$

در ادامه جدول تعیین علامت را برای هرکدام از فاکتورهای خطی $x-2$ و $x-3$ این چندجمله‌ای رسم می‌کنیم و حاصل آن‌ها را در هم ضرب می‌کنیم.

x	$-\infty$	2	3	$+\infty$	
$x-2$	-	o	+	+	
$x-3$	-	-	o	+	
$(x-2)(x-3)$	+	o	-	o	+

$+ \times + = +$
$+ \times - = -$
$- \times + = -$
$- \times - = +$

با توجه به این که $x^2 - 5x + 6 \geq 0$ است، بنابراین قسمت‌های مثبت، مجموعه جواب این نامعادله است.
مجموعه جواب کلی این نامعادله به صورت زیر است:

$$(-\infty, 2] \cup [3, +\infty)$$

دقت کنید منظور از حل کردن یک نامعادله، پیدا کردن مقدار یا محدوده مجهول آن (x) است.
جالب است بدانید که تنها در یک مرحله نیز می‌توان چندجمله‌ای درجه دو را تعیین علامت کرد و مجموعه جواب آن را به دست آورد.

برای این منظور مراحل زیر را دنبال کنید.

• اگر $\Delta < 0$ باشد، همواره علامت چندجمله‌ای $ax^2 + bx + c$ با علامت a یکسان است.

x	-∞	+∞
$ax^2 + bx + c$	هم علامت با a	

• اگر $\Delta = 0$ باشد، چندجمله‌ای $ax^2 + bx + c$ هم علامت با a است، اما باید ریشه‌های چندجمله‌ای را در نظر بگیریم.

x	-∞	$x_1 = x_2 = -\frac{b}{2a}$	+∞
$ax^2 + bx + c$	هم علامت با a		هم علامت با a

• اگر $\Delta > 0$ باشد، چندجمله‌ای $ax^2 + bx + c$ در بین ریشه‌ها مخالف علامت a و در بقیه بازه‌ها هم علامت با a است.

x	-∞	x_1	x_2	+∞
$ax^2 + bx + c$	هم علامت با a	مخالف علامت a	هم علامت با a	



نامعادله $-x^2 - 4 < -5x$ را حل کنید.




$$-x^2 - 4 < -5x \Rightarrow -x^2 + 5x - 4 < 0$$

$$-x^2 + 5x - 4 = 0 \Rightarrow (-x + 4)(x - 1) = 0 \Rightarrow x = 4, x = 1$$

x	1	4
$-x^2 + 5x - 4$	-	+

$$x \in (-\infty, 1) \cup (4, +\infty)$$


نامعادلات زیر را حل کنید: 

الف) $3x + 4 \geq x^2$

ب) $x(x+2) > 35$

ج) $9x^2 - 12x + 4 \leq 0$


د) $x^2 - \frac{2x-1}{4} < 0$

معادله $x^2 + 2(m+1)x + 1 = 0$ را در نظر بگیرید. برای کدام مقدار m این معادله 

الف) ریشه حقیقی ندارد.

ب) ریشه مضاعف دارد.


ج) دو ریشه مجزا دارد.

نامعادلات زیر را حل کنید: 

الف) $(3-x)(x^3 - 2x^2 - 8x)(x^2 + 3) < 0$

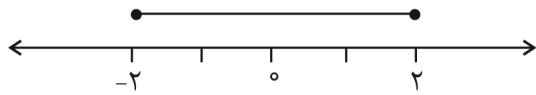
ب) $\frac{(3x+2)(x-5)}{x(x-1)(x^2+x+1)} \geq 0$

ج) $\frac{(x^2-x-6)(x-1)^{17}}{x^8(1-x^2)^{55}} \leq 0$

نامعادله $\frac{|2x^2+3x-2|(1-x^2)}{(x^2+3x)|x-2|} \leq 0$ را حل کنید. 

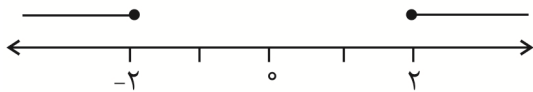
نامعادله‌های قدر مطلق

می‌دانیم $|x|$ با $|x-0|$ برابر است و به معنی فاصله x از نقطه صفر روی مبدأ است. بنابراین وقتی می‌نویسیم $|x| \leq 2$ ، یعنی مجموعه نقاطی که فاصله آن‌ها از مبدأ کوچک‌تر یا مساوی ۲ باشد، نمودار هندسی آن به صورت زیر است:



یعنی $-2 \leq x \leq 2$ ، به عنوان مثال $|1/5 - 0| = 1/5 < 2$.

به همین ترتیب وقتی می‌نویسیم $|x| \geq 2$ ، یعنی تمام نقاطی که فاصله آن‌ها از مبدأ بزرگ‌تر یا مساوی ۲ باشد، نمودار هندسی آن را مشاهده کنید.



یعنی $x \leq -2$ یا $x \geq 2$.

به عنوان مثال $|3 - 0| = 3 > 2$.

تعریف:

فرض کنیم a یک عدد حقیقی مثبت و U یک عبارت جبری باشد، در این صورت:

(۱) اگر $|U| \leq a$ ، آن‌گاه $-a \leq U \leq a$.

(۲) اگر $|U| \geq a$ ، آن‌گاه $U \geq a$ یا $U \leq -a$.



نامعادله‌های زیر را حل کنید:

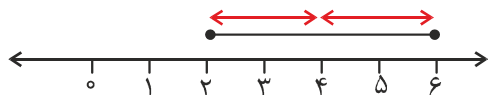
الف) $|x - 4| \leq 2$

ب) $|x + 1| \geq 3$



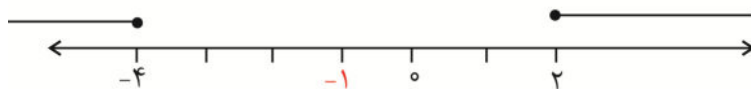
نامعادله (الف) یعنی مجموعه نقاطی مانند (x) که فاصله آن‌ها از نقطه ۴ کوچک‌تر یا مساوی ۲ باشد.

$$|x - 4| \leq 2 \Rightarrow -2 \leq x - 4 \leq 2 \Rightarrow -2 + 4 \leq x \leq 2 + 4 \Rightarrow 2 \leq x \leq 6$$



نامعادله (ب) یعنی مجموعه نقاطی مانند (x) که فاصله آن‌ها از نقطه (-۱) بزرگ‌تر یا مساوی ۳ باشد.

$$|x - (-1)| \geq 3 \Rightarrow x + 1 \geq 3 \quad \text{یا} \quad x + 1 \leq -3 \Rightarrow x \geq 2 \quad \text{یا} \quad x \leq -4$$



دستگاه نامعادلات

به دستگاهی که شامل چند نامعادله باشد، دستگاه نامعادلات گوئیم. برای حل یک دستگاه نامعادلات، هر کدام از نامعادلات آن را جداگانه حل می‌کنیم، سپس بین جواب‌ها اشتراک می‌گیریم.



نامعادلات زیر را حل کنید:

$$\begin{cases} x^2 - 7x - 8 > 0 \\ x^2 - 4x + 3 > 0 \end{cases}$$



هر کدام از چندجمله‌ای‌ها را تعیین علامت می‌کنیم:

$$1) x^2 - 7x - 8 > 0$$

$$x^2 - 7x - 8 = 0 \Rightarrow x = -1, x = 8$$

$$2) x^2 - 4x + 3 > 0$$

$$x^2 - 4x + 3 = 0 \Rightarrow x = 1, x = 3$$

x	$-\infty$	-1	1	3	8	$+\infty$	
(1)	+	o	-	o	-	o	+
(2)	+	+	o	-	o	+	+
دستگاه نامعادله	+	o	-	o	+	o	+

می‌بینیم که هر دو چندجمله‌ای در ناحیه‌های مشخص شده بزرگ‌تر از صفر هستند، پس:

$$x \in (-\infty, -1) \cup (8, +\infty)$$

دستگاه نامعادلات زیر را حل کنید:



$$\begin{cases} \frac{x^2 + x - 4}{x} < 1 \\ x^2 < 64 \end{cases}$$

نامعادله $\sqrt{2x-1} < x+2$ را حل کنید.



نامعادله $\sqrt{x^2 + x - 2} > x$ را حل کنید.



پسرخ مثال



الف) $5 - 2x = 0 \Rightarrow x = \frac{5}{2}$

x	$-\infty$	$\frac{5}{2}$	$+\infty$
$5 - 2x$		+	-

$5 - 2x < 0 \Rightarrow x > \frac{5}{2} : (\frac{5}{2}, +\infty)$

ب) $\frac{x+14}{6} - \frac{x-12}{8} \leq 3 \Rightarrow \frac{4x+56-3x+36}{24} \leq 3$

$x+92 \leq 72 \Rightarrow x+20 \leq 0$

داریم:

$x+20=0 \Rightarrow x=-20$

x	$-\infty$	-20	$+\infty$
$x+20$		-	+

$x \in (-\infty, -20]$

ج) $6x + (x-2)(x+2) \geq (x+4)^2$

$\Rightarrow 6x + x^2 - 4 \geq x^2 + 8x + 16 \Rightarrow -2x - 20 \geq 0$

داریم:

$-2x - 20 = 0 \Rightarrow x = -10$

x	$-\infty$	-10	$+\infty$
$-2x - 20$		+	-

$x \in (-\infty, -10]$



$$\text{الف) } 3x + 4 \geq x^2 \Rightarrow -x^2 + 3x + 4 \geq 0$$

$$-x^2 + 3x + 4 = 0$$

$$\Delta = 9 + 16 = 25 \Rightarrow x_1 = -1, x_2 = 4$$

x	-∞	-1	4	+∞
-x ² + 3x + 4	-		+	-

$$x \in [-1, 4]$$

$$\text{ب) } 35 < x(x+2) \Rightarrow -x^2 - 2x + 35 < 0$$

$$\Delta = 4 + 140 = 144 \Rightarrow x_1 = -7, x_2 = -5$$

x	-∞	-7	-5	+∞
-x ² - 2x + 35	-		+	-

$$x \in (-\infty, -7) \cup (-5, +\infty)$$

$$\text{ج) } 9x^2 - 12x + 4 \leq 0$$

$$\Delta = 144 - 144 = 0, x_1 = x_2 = \frac{12}{18} = \frac{2}{3}$$

x	-∞	2/3	+∞
9x ² - 12x + 4	+		+

بنابراین تنها $x = \frac{2}{3}$ مجموعه جواب است.

$$\text{د) } x^2 - \frac{2x-1}{4} < 0 \Rightarrow 4x^2 - 2x + 1 < 0$$

$$\Delta = 4 - 16 = -12 < 0$$

x	-∞	+∞
4x ² - 2x + 1	+	+

مجموعه جواب این نامعادله تهی است، زیرا همواره مثبت است.



داریم:

$$\Delta = b^2 - 4ac = (2(m+1))^2 - 4(1)(1) = 4m^2 + 8m + 4 - 4 = 4m^2 + 8m$$

$$4m^2 + 8m = 0 \Rightarrow m = -2 \text{ یا } m = 0$$

جدول تعیین علامت را برای Δ رسم می‌کنیم.

m	$-\infty$	-2	0	$+\infty$	
$4m^2 + 8m$	+		-		+

حال می‌بینیم که:

الف) اگر $\Delta < 0$ باشد، معادله ریشه حقیقی ندارد، پس $m \in (-2, 0)$.

ب) اگر $\Delta = 0$ باشد، معادله دارای ریشه مضاعف است، پس $m = -2$ یا $m = 0$.

ج) اگر $\Delta > 0$ باشد، معادله دارای دو ریشه حقیقی است، پس $m \in (-\infty, -2) \cup (0, +\infty)$.



برای پیدا کردن مجموعه جواب این نامعادلات، ابتدا صفرهای چندجمله‌ای داده شده را پیدا می‌کنیم. سپس علامت هر کدام از چندجمله‌ای‌ها را به دست می‌آوریم و در نهایت آن‌ها را در هم ضرب می‌کنیم.

$$\text{الف) } (3-x)(x^3 - 2x^2 - 8x)(x^2 + 3) = (3-x)x(x^2 - 2x - 8)(x^2 + 3)$$

$$3-x=0 \Rightarrow x=3$$

$$x=0$$

$$x^2 - 2x - 8 = 0 \Rightarrow x = -2 \text{ یا } x = 4$$

$$x^2 + 3 = 0 \Rightarrow \text{ریشه حقیقی ندارد.}$$

x	$-\infty$	-2	0	3	4	$+\infty$			
$3-x$	+	+		+	-	-			
x	-	-		+	+	+			
$x^2 - 2x - 8$	+		-	-	-	+			
$x^2 + 3$	+	+		+	+	+			
$(3-x)(x^3 - 2x^2 - 8x)(x^2 + 3)$	-		+		-		+		-

$$x \in (-\infty, -2) \cup (0, 3) \cup (4, +\infty)$$

مقدارهای کمتر از 0 را می‌خواهیم، پس:

ب) در این سؤال باید دقت کنیم که X هایی که مخرج را صفر می کنند، جزء مجموعه جواب نیستند.

$$\frac{(3x+2)(x-5)}{x(x-1)(x^2+x+1)} \geq 0$$

$$3x+2=0 \Rightarrow x = -\frac{2}{3}$$

$$x-5=0 \Rightarrow x=5$$

مخرج در این نقطه تعریف نشده $x=0$

مخرج در این نقطه تعریف نشده $x=1=0$

معادله ریشه حقیقی ندارد. $\Delta < 0 \Rightarrow x^2+x+1=0$

X	$-\infty$	$-\frac{2}{3}$	0	1	5	$+\infty$			
$3x+2$	-	o	+	+	+	+			
$x-5$	-	-	-	-	o	+			
x	-	-	o	+	+	+			
$x-1$	-	-	-	o	+	+			
x^2+x+1	+	+	+	+	+	+			
$\frac{(3x+2)(x-5)}{x(x-1)(x^2+x+1)}$	+	o	-	تعریف نشده	+	تعریف نشده	-	o	+

$$x \in (-\infty, -\frac{2}{3}] \cup (0, 1) \cup [5, +\infty)$$

مقدارهای بزرگتر یا مساوی صفر را می خواهیم، پس:

$$ج) \frac{(x^2-x-6)(x-1)^{17}}{x^8(1-x^2)^{55}} \leq 0$$

دقت کنید x^8 بزرگتر یا مساوی صفر است و علامت آن در کل عبارت تأثیری ندارد. بنابراین نیازی نیست آن را تعیین

علامت کنیم. فقط ریشه آن را بررسی می کنیم.

$$x^2-x-6=0 \Rightarrow x=3 \text{ یا } x=-2$$

$$(x-1)^{17}=0 \Rightarrow x-1=0 \Rightarrow x=1$$

(علامت $(x-1)^{17}$ با علامت $(x-1)$ یکی است.)

مخرج را صفر می کند، جزء مجموعه جواب نیست. $x^8=0 \Rightarrow x=0$

$$(1-x^2)^{55}=0 \Rightarrow 1-x^2=0 \Rightarrow \underbrace{x=1 \text{ یا } x=-1}_{\text{مخرج را صفر می کند،}} \text{ (علامت } (1-x^2)^{55} \text{ با علامت } (1-x^2) \text{ یکی است.)}$$

جزء مجموعه جواب نیست.

x	$-\infty$	-2	-1	0	1	3	$+\infty$				
$x^2 - x - 6$	+	o	-	-	-	-	o	+			
$(x-1)^4$	-	-	-	-	-	o	+	+			
$(1-x^2)^{55}$	-	-	o	+	+	o	-	-			
$\frac{(x^2 - x - 6)(x-1)^{17}}{x^8(1-x^2)^{55}}$	+	o	-	تعریف نشده	+	تعریف نشده	+	تعریف نشده	+	o	-

$$x \in (-2, -1) \cup [3, +\infty)$$

مقادیر کوچک تر یا مساوی صفر را می‌خواهیم. پس:



با توجه به این که $|x-2|$ و $|2x^2 + 3x - 2|$ عبارات بزرگ تر یا مساوی صفر هستند، فقط لازم است ریشه‌های آن‌ها را بررسی کنیم و در علامت کل عبارت تأثیری ندارند.

$$2x^2 + 3x - 2 = 0 \Rightarrow x = -2, x = \frac{1}{2}$$

$$x - 2 = 0 \Rightarrow x = 2$$

$-\frac{1}{2}$ و 2 در مجموعه جواب هستند، اما $x = 2$ در مجموعه جواب این نامعادله نیست، زیرا مخرج را صفر می‌کند.

$$1 - x^2 = 0 : x = -1, x = 1$$

$$x^2 + 3x = 0 : x = 0, x = -3$$

x	$-\infty$	-3	-2	-1	0	$\frac{1}{2}$	1	2	$+\infty$		
$(1-x^2)$	-	-	-	o	+	+	+	o	-	-	
$x^2 + 3x$	+	o	-	-	-	o	+	+	+	+	
$\frac{ 2x^2 + 3x - 2 (1-x^2)}{(x^2 + 3x) x-2 }$	-	تعریف نشده	+	o	+	o	+	+	o	تعریف نشده	-

$$x \in (-\infty, -3) \cup [-1, 0) \cup \{-2, \frac{1}{2}\} \cup [1, 2) \cup (2, +\infty)$$



$$1) \frac{x^2 + x - 4}{x} < 1 \Rightarrow \frac{x^2 + x - 4 - x}{x} < 0 \Rightarrow \frac{x^2 - 4}{x} < 0$$

$$x^2 - 4 = 0 \Rightarrow x = \pm 2$$

$$x = 0$$

$$2) x^2 < 64 \Rightarrow x^2 - 64 < 0$$

$$x^2 - 64 = 0 \Rightarrow x = \pm 8$$

x	$-\infty$	-8	-2	0	2	8	$+\infty$
(1)	-	-	o	+	o	-	+
(2)	+	o	-	-	-	-	o
دستگاه نامعادله		o		o		o	

در این دستگاه، هر دو نامعادله کوچک‌تر از صفراند، پس:

$$x \in (-8, -2) \cup (0, 2)$$



می‌دانیم عبارت زیر رادیکال همواره نامنفی است، پس داریم:

$$2x - 1 \geq 0 \quad (1)$$

از طرفی $\sqrt{2x-1} < x+2$ است، پس:

$$x+2 > 0 \quad (2)$$

طرفین نامساوی را به توان ۲ می‌رسانیم، تا رادیکال از بین برود، داریم:

$$2x - 1 < (x+2)^2 \quad (3)$$

بنابراین دستگاه نامعادلات زیر را داریم:

$$\begin{cases} 2x - 1 \geq 0 & (1) \\ x + 2 > 0 & (2) \\ 2x - 1 < (x+2)^2 & (3) \end{cases}$$

$$(1) 2x - 1 \geq 0$$

$$2x - 1 = 0$$

$$x = \frac{1}{2}$$

$$(2) x + 2 \geq 0$$

$$x + 2 = 0$$

$x = -2$ دستگاه در آن تعریف نشده
عبارت زیر رادیکال منفی می‌شود.

$$(3) 2x - 1 < x^2 + 4x + 4$$

$$x^2 + 2x + 5 > 0$$

$$x^2 + 2x + 5 = 0$$

ریشه حقیقی ندارد $\Delta < 0$

X	$-\infty$	-2	$\frac{1}{2}$	$+\infty$
(1)	-	-	o	+
(2)	-	o	+	+
(3)	+	+	+	+
دستگاه نامعادلات		تعریف نشده	o	

$$\Rightarrow x \in \left[\frac{1}{2}, +\infty\right)$$



$$(1) \text{ حالت } \begin{cases} x < 0 & (1) \\ x^2 + x - 2 \geq 0 & (2) \end{cases}$$

$$(1) x < 0$$

$$(2) x^2 + x - 2 = 0$$

$$x_1 = -2, x_2 = 1$$

یا

$$(2) \text{ حالت } \begin{cases} x \geq 0 & (1) \\ x^2 + x - 2 > x^2 & (2) \end{cases}$$

$$(1) x \geq 0$$

$$(2) x - 2 > 0$$

$$x - 2 = 0 \Rightarrow x = 2$$

X	$-\infty$	-2	0	1	2	$+\infty$	
حالت ()	(1)	-	-	o	+	+	+
	(2)	+	o	-	-	o	+
دستگاه نامعادلات		o					
حالت (')	(1)	-	-	o	+	+	+
	(2)	-	-	-	o	-	o
دستگاه نامعادلات					o		

$$\in (-\infty, -2] \cup [2, +\infty)$$

فصل ۵

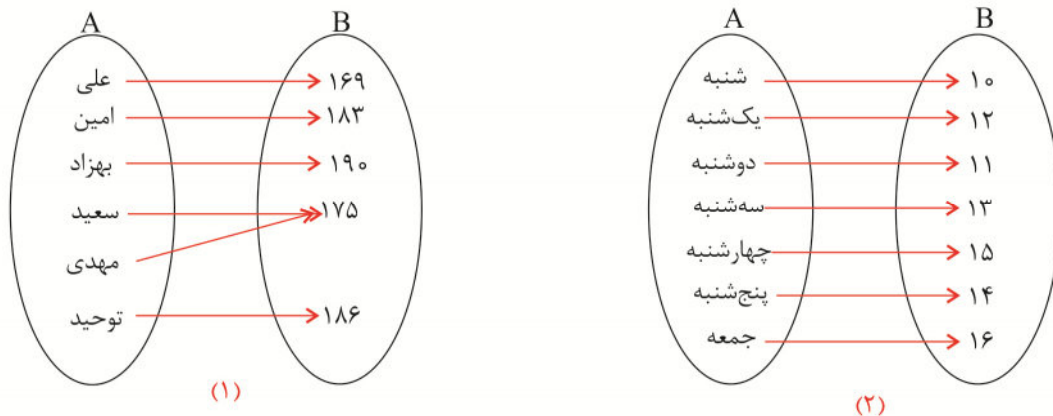
مفهوم تابع و بازنمایی آن

همان طور که می‌دانید هر شخص قد مشخصی دارد و یا میانگین دمای هوا در هر روز مقدار مشخصی است. به جدول‌های زیر دقت کنید.

نام	قد (cm)
علی	۱۶۹
امین	۱۸۳
بهزاد	۱۹۰
سعید	۱۷۵
مهدی	۱۷۵
توحید	۱۸۶

روزهای هفته	دمای هوا (C)
شنبه	۱۰
یکشنبه	۱۲
دوشنبه	۱۱
سه‌شنبه	۱۳
چهارشنبه	۱۵
پنج‌شنبه	۱۴
جمعه	۱۶

با توجه به جدول‌های بالا، می‌توانیم یک ارتباط بین ستون اول و ستون دوم در قالب نمودار زیر داشته باشیم.

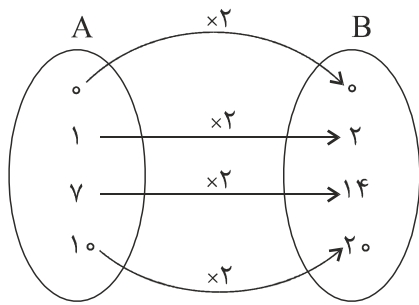


به این شیوه نمایش اطلاعات، نمودار پیکانی می‌گویند.

نمودار پیکانی در واقع بیان‌گر رابطه بین مجموعه‌ی A و B است.

فرض کنید X و Y دو مجموعه‌ی ناتهی باشند، یک تابع از X به Y رابطه‌ای است که به هر عضو از X دقیقاً یک عضو

از Y را نسبت می‌دهد.



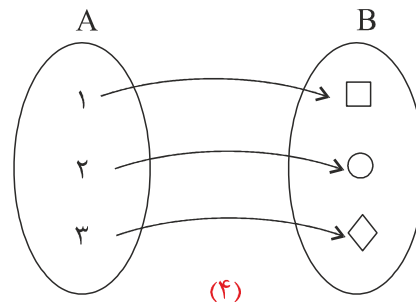
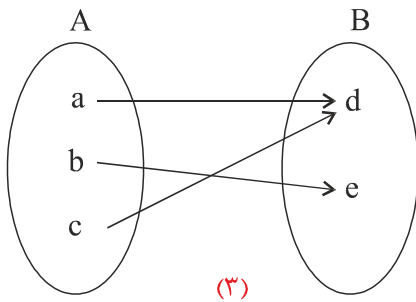
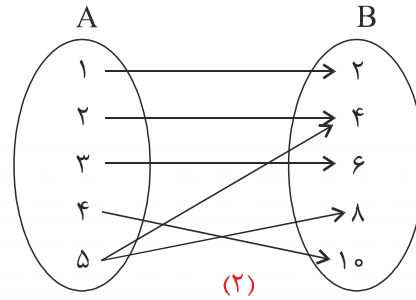
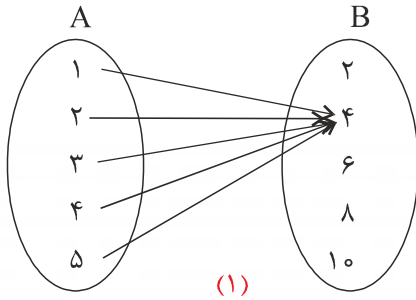
مثال: رابطه‌های (۱) و (۲) تابع‌اند.

مثال: نمودار پیکانی زیر بیانگر یک تابع است.

این تابع هر عضو از مجموعه‌ی A را دو برابر می‌کند

و به مجموعه‌ی B می‌برد.

مثال: کدام‌یک از روابط زیر تابع هستند؟



حل:

رابطه‌ی (۱) تابع است، زیرا هر عضو از مجموعه‌ی A را به یک عضو از مجموعه‌ی B نسبت می‌دهد.

رابطه‌ی (۲) تابع نیست، زیرا عضو ۵ از مجموعه‌ی A را به دو عضو از مجموعه‌ی B می‌برد.

$$\begin{pmatrix} 5 \rightarrow 4 \\ 5 \rightarrow 8 \end{pmatrix}$$

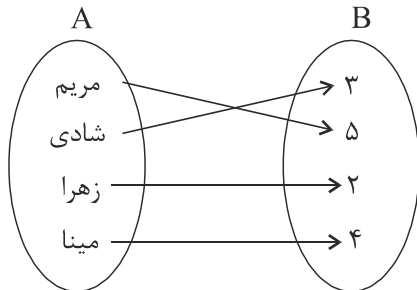
رابطه‌ی (۳) تابع است.

رابطه‌ی (۴) تابع است.

نمایش تابع به صورت زوج‌ها مرتب و نمودار مختصاتی

نمودار پیکانی زیر نشان‌دهنده‌ی تعداد عروسک‌های یک گروه از بچه‌های مهد کودک است.

(افراد و تعداد عروسک‌های آنها)



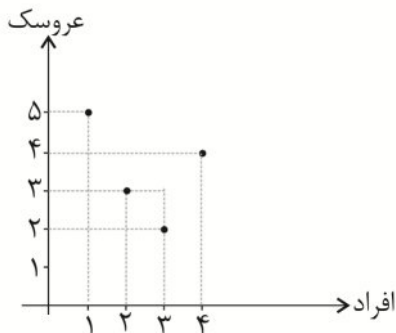
اطلاعات داده شده را به صورت جدول زیر می‌نویسیم.

افراد	مریم (۱)	شادی (۲)	زهرا (۳)	مینا (۴)
تعداد عروسک‌ها	۵	۳	۲	۴

اطلاعات جدول بالا را می‌توانیم به صورت زوج‌های زیر نمایش دهیم. (تعداد عروسک‌ها، افراد)

$(۱, ۵), (۲, ۳), (۳, ۲), (۴, ۴)$

نمایش این نقاط روی محورهای مختصات به صورت زیر است و به آن نمودار تابع گوییم.



دقت کنید که زوج $(۱, ۵)$ با $(۵, ۱)$ متفاوت است، به همین دلیل به هر یک از زوج‌های بالا زوج مرتب می‌گوییم.

در زوج مرتب دلخواه (x, y) ، x را «مؤلفه‌ی اول» و y را «مؤلفه‌ی دوم» می‌نامیم. به عنوان مثال در زوج مرتب

$(۵, ۱)$ ، ۵ مؤلفه‌ی اول و ۱ مؤلفه‌ی دوم است.

اگر همه‌ی زوج‌های مرتب را در مجموعه‌ای قرار دهیم، یک نمایش دیگر برای اطلاعات داده شده به دست می‌آید که به آن

نمایش زوج مرتبی رابطه‌ی داده شده می‌گویند.

برای نام‌گذاری این مجموعه از حروفی مانند f و g استفاده می‌کنیم.

$$f = \{(1, 5), (2, 3), (3, 2), (4, 4)\}$$

مثال: نمایش زوج‌های مرتب زیر را روی دستگاه مختصات نمایش دهید و نمودار پیکانی آن‌ها را رسم کنید.
 سپس مشخص کنید کدام یک از آن‌ها تابع است.

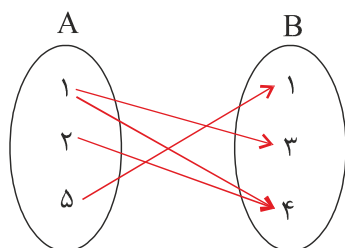
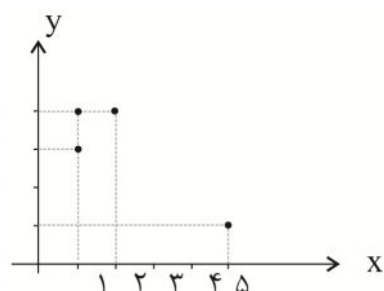
الف) $\{(1, 3), (2, 4), (5, 1), (1, 4)\}$

ب) $\{(2, 1), (3, 2), (5, 2), (4, 6)\}$

ج) $\{(-1, 3), (2, 1), (2, -2), (4, 2)\}$

حل:

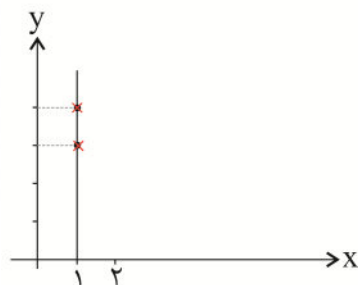
الف)

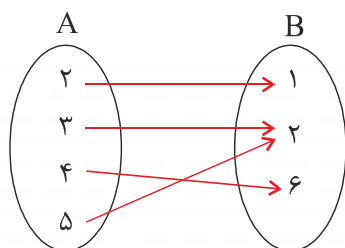
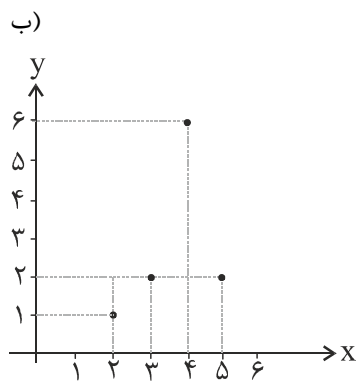


با توجه به نمودار پیکانی، می‌بینیم که رابطه‌ی الف، تابع نیست. زیرا عضو ۱ از مجموعه‌ی A به دو عضو ۳ و ۴ از

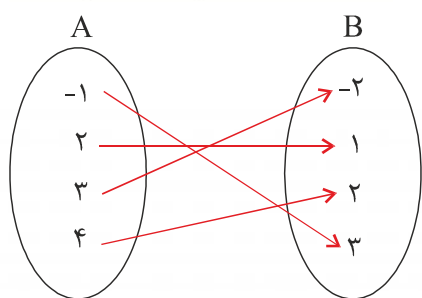
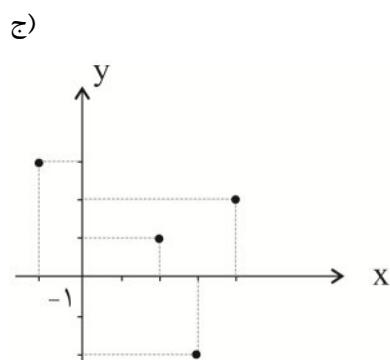
مجموعه‌ی B نسبت داده شده است. $\begin{pmatrix} 1 \rightarrow 3 \\ 1 \rightarrow 4 \end{pmatrix}$

دقت کنید اگر در نقطه‌ی $(1, 0)$ خطی موازی محور y ‌ها رسم کنیم (خط $x=1$)، نمودار را دو نقطه قطع می‌کند.





این رابطه تابع است، زیرا به هر عضو از مجموعه A ، دقیقاً یک عضو از مجموعه B نسبت می‌دهد.



این رابطه نیز تابع است، زیرا به هر عضو از مجموعه A دقیقاً یک عضو از مجموعه B نسبت می‌دهد.

روی محورهای مختصات نیز هر خط موازی محور y ها، نمودار را حداکثر در یک نقطه قطع می‌کند.

(یعنی یا در هیچ نقطه‌ای قطع نمی‌کند یا فقط در یک نقطه قطع می‌کند)

نتیجه‌گیری:

اگر یک رابطه به صورت نمایش زوج مرتبی نوشته شود، هنگامی تابع است که هیچ دو زوج مرتب متمایزی در آن دارای مؤلفه‌های اول برابر نباشند. یعنی:

$$\text{اگر } x_1 = x_2 \Rightarrow y_1 = y_2$$

مثال: کدام یک از رابطه‌های زیر تابع است؟

الف) $\{(3, 2), (-1, 4), (5, 1), (-1, 6)\}$

ب) $\{(-1, 2), (-3, -5), (0, 6), (1, 7)\}$

حل:

رابطه‌ی (الف) تابع نیست. زیرا زوج مرتب‌های (۴ و -۱) و (۶ و -۱) دارای مؤلفه‌های اول برابرند، ولی مؤلفه‌های دوم آن متفاوت است.

رابطه‌ی (ب) تابع است. همان‌طور که مشاهده می‌کنید هیچ دو زوج مرتب متمایزی در آن دارای مؤلفه‌های اول برابر نیستند.

۱. بازه‌های زیر را به صورت نماد ریاضی بنویسید و نمودار هندسی آن‌ها را رسم کنید.

الف) $(-\sqrt{2}, +\infty)$

ب) $(-1, 3) \cup (-6, 2)$

ج) $(-2, 3) \cap (0, 4)$

د) $(-\infty, \sqrt{2}) \cup (1, +\infty)$

۲. نمادهای ریاضی زیر را به بازه تبدیل کنید.

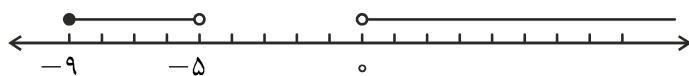
الف) $\{x \in \mathbb{R} \mid -1 \leq x < 1\}$

ب) $\{x \in \mathbb{R} \mid -3 \leq x < 1 \text{ یا } x > 0\}$

ج) $\{x \in \mathbb{R} \mid -4 < x \leq 3 \text{ و } 2 \leq x < 5\}$

د) $\{x \in \mathbb{R} \mid x \geq 0 \text{ و } x < 0\}$

۳. کدام یک از مجموعه‌های زیر انتخاب درست تری برای محور نمایش داده شده است؟



الف) $\{x \in \mathbb{R} \mid -9 \leq x < -5 \text{ یا } x > 0\}$

ب) $\{x \in \mathbb{R} \mid -9 \leq x < -4 \text{ یا } x > 0\}$

ج) $\{x \in \mathbb{R} \mid -9 \leq x \leq -5 \text{ یا } x > 0\}$

۴. کدام یک از سه موارد زیر شامل عدد ۹ می‌شود؟

الف) $x < 9$ یا $x > 9$

ب) $(-\infty, 9] \cup (9, +\infty)$

ج) $\{x \in \mathbb{R} \mid x \neq 9\}$

د) $(-\infty, 9) \cap [9, +\infty)$

۵. چه تفاوتی میان دو بازه‌ی $(2, 8)$ و $[2, 8]$ وجود دارد؟

۶. بازه‌ی $[-1, 3)$ را به صورت اجتماع دو بازه بنویسید.

۷. بازه‌ی $[1, +\infty)$ را به صورت اشتراک سه بازه بنویسید.

۸. تفاضل بازه‌های زیر را حساب کنید.

الف) $[-6, 6) - (-7, 2)$

ب) $[0, +\infty) - (1, 2]$

۹. متناهی یا نامتناهی بودن مجموعه‌های زیر را مشخص کنید.

الف) $A = \{x \mid x \in \mathbb{Z}, -3 \leq x \leq 2\}$

ب) $B = \{2k \mid k \in \mathbb{N}, 1 \leq k \leq 3\}$

ج) $C = \{-5k \mid k \in \mathbb{W}\}$

د) $\mathbb{Z} \cap \{-1, 0\}$

هـ) $D = \{x \mid x \in \mathbb{Z}, x^2 < 6\}$

ی) $P = \{x \mid x \in \mathbb{R}, 0 < x < 1\}$

۱۰. در زیر، مجموعه‌ی A مشخص شده است، تعداد اعضای این مجموعه را حساب کنید.

$A = \{5k \mid k \in \mathbb{N} \text{ و } \delta k \text{ عدد دو رقمی است}\}$

۱۱. اگر $A \subseteq B$ و B مجموعه‌ی نامتناهی باشد، در مورد متناهی یا نامتناهی بودن A توضیح دهید.

۱۲. فرض کنید A مجموعه‌ی مقسوم‌علیه‌های عدد ۱۲ و B مجموعه‌ی مقسوم‌علیه‌های عدد ۱۵ باشد. در مورد متناهی یا نامتناهی بودن $A \cap B$ توضیح دهید.

۱۳. اگر $R = \{1, 3, 5\}$ ، $S = \{3, 4, 5\}$ و $T = \{2, 4\}$ باشد، تعداد اعضای مجموعه‌های زیر را مشخص کنید.

الف) $R \cap S \cap T$

ب) $(R \cup S) \cap (R \cup T)$

۱۴. مجموعه‌ی \mathbb{W} را به صورت اجتماع دو مجموعه‌ی نامتناهی و همچنین به شکل اجتماع یک مجموعه‌ی متناهی بایک مجموعه‌ی نامتناهی بنویسید.

۱۵. مجموعه‌های زیر هر کدام چند عضو دارند؟

الف) $A = \{x \in \mathbb{R} \mid 3x + 1 > \frac{1}{4}x - 3\}$

ب) $B = \{x \in \mathbb{N} \mid 2x + \frac{1}{4} < x + 7\}$

ج) $C = \{x \in \mathbb{Z} \mid x \geq 0, 2^x \leq x^2\}$

د) $D = \{x \in \mathbb{N} \mid x \geq \frac{1}{x}\}$

هـ) $P = \{x^2 \mid x \in \mathbb{Z}, x^2 \leq 7\}$

ی) $F = \{2x \mid x \in \mathbb{W}, 0 \leq x < 4\}$

۱۶. اگر $A = \{x \in \mathbb{N} \mid 2 \leq x \leq 20\}$ و $B = \{2k+1 \mid k \in \mathbb{W}\}$ باشند، در مورد متناهی یا نامتناهی بودن $A \cap B$ توضیح دهید.

۱۷. اگر $A = \{2, \{2\}\}$ و $B = \{1, 2, 3\}$ ، $n(B - A)$ را به دست آورید.

۱۸. مجموعه‌ی $A = \{\{\phi\}, 2, 3, \{2\}, \{2, 3\}, \{3\}\}$ چند عضو دارد؟

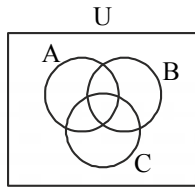
۱۹. اعضای مجموعه‌ی $B = \left\{ x \in \mathbb{Z} \mid \frac{\sqrt{1-x^2}}{2} \in \mathbb{Z} \right\}$ را به دست آورید.

۲۰. اگر $U = \{\{a\}, a, \{a, b\}, \{b\}, b\}$ و $A = \{\{a\}\}$ باشد، آن گاه مجموعه‌ی A' را مشخص کنید.

۲۱. حاصل عبارت زیر را به دست آورید.

$$(A - \phi)' \cap (U - A)'$$

۲۲. در شکل زیر مجموعه‌های مشخص شده را هاشور بزنید.



الف) $(C' \cap A) \cap (A \cap B)$

ب) $(C - A)' \cap A$

ج) $\phi' \cap C$

۲۳. اگر $U = \{x \in \mathbb{Z} \mid \frac{1}{x} \leq 1\}$ و $A = \{x \in \mathbb{Z} \mid 4x + 4 \leq 0\}$ باشد، آن گاه A' را به دست بیاورید.

۲۴. اگر $A = \{x \in \mathbb{N} \mid 1 \leq x \leq 6\}$ و $B = \{x \in \mathbb{N} \mid 4 \leq x \leq 7\}$ باشند، تعداد اعضای $A \cup B$ را به دست آورید.

۲۵. فرض کنید A و B دو مجموعه‌ی مجزا باشند، اگر $n(A \cup B) = 14$ و $n(B) = 6 + n(A)$ آن گاه $n(A)$ چه عددی است؟

۲۶. از میان ۱۰۰ نفر تماشاگران یک بازی، ۵۰ نفر آن‌ها کلاه بر سر دارند و ۶۰ نفر آن‌ها با لباس ورزشی به ورزشگاه آمده‌اند، همچنین ۲۰ نفر هم لباس ورزشی پوشیده‌اند و هم کلاه گذاشته‌اند. چند نفر از این تماشاگران نه کلاه بر سر دارند و نه لباس ورزشی دارند؟

۲۷. اگر مجموعه‌های A و B به صورت زیر باشند، تعداد اعضای $A \cup B$ را به دست آورید.

$$A = \{5k \mid k \in \mathbb{N}, 5k \leq 30\}$$

$$B = \{3k \mid k \in \mathbb{N}, 3k \leq 30\}$$

۲۸. اگر $n(B - A) = 7$ ، $n(A - B) = 10$ و $n(A) = 14$ آن گاه $n(A \cup B)$ را محاسبه کنید.

۲۹. اگر $A \cup B = A - B$ باشد، B چه مجموعه‌ای است؟

۳۰. اگر $A - B = A$ باشد، آن گاه $B - A$ چه مجموعه‌ای است؟

۳۱. اگر $n(A) = 6$ و $n(B) = 8$ ، تعداد اعضای مجموعه‌های زیر را به دست آورید.

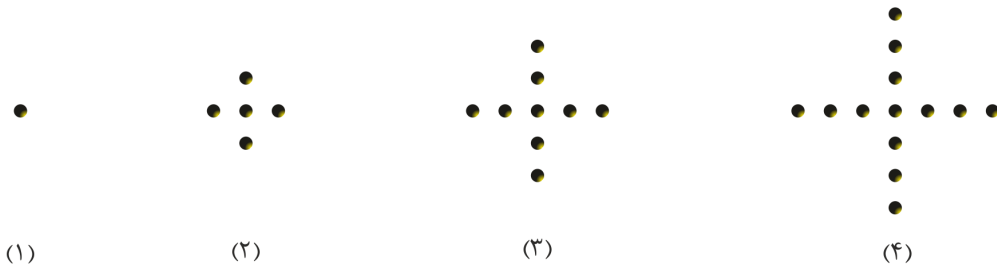
الف) $(B - A) \cup (A \cap B)$

ب) $A \cup (A \cap B)$

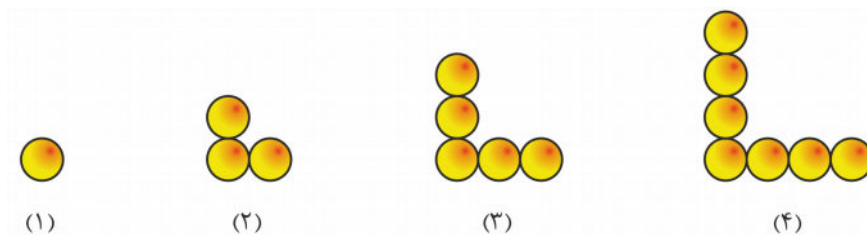
۳۲. در یک مهمانی ۲۰ نفره، ۱۴ نفر نوشیدنی‌های میوه‌ای، ۱۱ نفر نوشیدنی‌های کافئین‌دار و ۶ نفر هر دو نوشیدنی را دوست دارند.

- الف) چند نفر فقط نوشیدنی میوه‌ای را دوست دارند؟
 ب) چند نفر حداقل یکی از این دو نوشیدنی را دوست دارند؟
 ج) چند نفر نوشیدنی میوه‌ای را دوست دارند یا نوشیدنی کافئین‌دار دوست ندارند؟

۳۳. به الگوهای زیر نگاه کنید. جمله‌ی عمومی آن‌ها را پیدا کنید؟ آیا این الگوها خطی هستند؟



۳۴. یک رابطه بین تعداد دایره‌های هر شکل بیابید.



۳۵. اگر داشته باشیم $\Delta n + a_n = 16$ ، جدول مربوط به اطلاعات این الگو را برای $n = 1, 2, 3$ بنویسید.

۳۶. الگوی جدول زیر را مشاهده کنید. جمله‌ی عمومی آن را بنویسید.

n	۱	۲	۳	۴	۵
a_n	۵	۸	۱۱	۱۴	۱۷

۳۷. در جدول زیر اطلاعات یک الگوی خطی داده شده است. معادله‌ی خطی که از این نقاط می‌گذرد را به دست آورید، سپس جمله‌ی عمومی آن را بنویسید.

n	۱	۲	۳	۴	۵
a_n	۴	۵	۶	۷	۸

۳۸. جمله‌ی عمومی دنباله‌ی زیر را مشخص کنید و a_7 را بیابید.

$$\frac{1}{2}, -\frac{4}{3}, \frac{9}{4}, -\frac{16}{5}, \frac{25}{6}, \dots$$

۳۹. در دنباله‌ی $b_1 = b_2 = 3$ و $b_{n+1} = b_n + b_{n-1}$ ، جمله‌ی هشتم را به دست آورید.

۴۰. جمله‌ی عمومی دنباله‌ی $a_1 = 1$ و $a_n = a_{n-1} + 2n - 1$ کدام است؟

۴۱. جمله‌ی عمومی دنباله‌ی a_n به صورت زیر است. مجموع جمله‌های پنجم و ششم این دنباله را به دست آورید.

$$a_n = \begin{cases} \frac{n^2}{8} & \text{زوج } n \\ \frac{n^2 - 1}{4} & \text{فرد } n \end{cases}$$

۴۲. اگر جمله‌ی a_{2n+5} ام دنباله‌ای به صورت $\frac{n^3 + 1}{2n - 1}$ باشد، جمله‌ی یازدهم آن چه می‌شود؟

۴۳. پنج جمله‌ی اول دنباله‌ی $a_n = 2(3^{n-1})$ را بنویسید.

۴۴. جمله‌ی عمومی دنباله حسابی با جمله‌ی اول ۶۳ و قدر نسبت ۴- را به دست آورید.

۴۵. کدام یک از دنباله‌های زیر تشکیل دنباله عددی می‌دهند؟ قدر نسبت آن‌ها را محاسبه کنید.

الف) $6, 8, 10, 12, \dots$

ب) $1, 4, 9, 16, 25, \dots$

۴۶. عدد q را چنان تعیین کنید که اعداد زیر، سه جمله‌ی متوالی یک دنباله عددی باشند.

$$q - 20, 4q + 3, q + 5$$

۴۷. جمله‌ی اول یک دنباله عددی ۳ و قدر نسبت آن ۱۱ می‌باشد، جمله‌ی چندم آن ۹۱ است؟

۴۸. در یک دنباله حسابی $t_5 + t_6 = 3$ و $t_8 + t_9 = -2$ می‌باشد، حاصل $t_{13} + t_{15}$ را به دست آورید.

۴۹. بین دو عدد که تفاصل آن‌ها ۷۲۰ است، پنج واسطه‌ی عددی درج می‌کنیم. قدرنسبت این دنباله حسابی را محاسبه کنید.

۵۰. در یک دنباله حسابی اگر $t_3 = 8$ و $t_6 = 17$ باشد، t_{14} را بیابید.

۵۱. اگر در یک دنباله‌ی حسابی داشته باشیم $t_1 = 3x + 1$ و $d = 2x + 6$ ، آن‌گاه t_6 را محاسبه کنید.

۵۲. اگر در یک دنباله‌ی حسابی داشته باشیم $t_n = 6n + 3$ ، آن‌گاه جمله‌ی اول و قدرنسبت این دنباله را به دست آورید.

۵۳. اگر مجموع سه عدد که تشکیل دنباله‌ی حسابی می‌دهند، ۲۱ و حاصل ضرب آن‌ها ۲۳۱ باشد، آن سه عدد را بیابید.

۵۴. بین دو عدد ۱۹ و ۳۹، چهار واسطه‌ی حسابی درج کرده‌ایم تا یک دنباله حسابی صعودی حاصل شود، مجموع این چهار واسطه چقدر است؟

۵۵. زانوی پدر علی به توصیه‌ی پزشک تحت عمل جراحی قرار می‌گیرد. بعد از عمل برای سریع شدن روند بهبود، دکتر به او می‌گوید باید راه رفتن آهسته را در برنامه‌ی روزانه‌اش قرار بدهد. به این صورت که در هفته‌ی اول، هر روز ۱۲' راه برود و هر هفته بعد از آن ۶' به این زمان اضافه کند، چند هفته باید بگذرد تا زمان راه رفتن پدر علی ۶۰ دقیقه شود؟

۵۶. خانواده مینا قصد دارند به مناسبت قبولی او در دانشگاه مهمانی بدهند. آن‌ها قصد دارند مهمانی خود را در یک هتل برگزار کنند. کارمند پذیرش هتل اطلاعات مربوط به مهمانی‌های گذشته که در هتل برگزار شده را به پدر مینا می‌دهد. با توجه به جدول زیر اگر این خانواده ۶۰ نفر مهمان داشته باشند، چه هزینه‌ای را باید پرداخت کنند؟

تعداد مهمان‌ها	۳۳	۳۴	۳۵
هزینه‌های پرداخت شده	۵۰۰۰۰۰	۵۰۹۰۰۰	۵۱۸۰۰۰

۵۷. تصور کنید که شما به تازگی صاحب شغلی شده‌اید. (به صورت پاره‌وقت). حقوق شما در ابتدا ۸۰۰۰۰۰ تومان است و هر سال ۷٪ افزایش می‌یابد. حقوق شما بعد از ۶ سال تقریباً چقدر می‌شود؟

۵۸. جمله‌ی چندم دنباله‌ی زیر ۲۰۴۸ است؟

۲, ۸, ۳۲, ...

۵۹. در یک دنباله هندسی با قدر نسبت ۲، حاصل $\frac{t_1 t_7}{(t_2)^2}$ کدام است؟

۶۰. جمله‌ی نهم یک دنباله هندسی، ۵ برابر جمله‌ی ششم آن است. نسبت جمله‌ی یازدهم به جمله‌ی پنجم را به دست آورید.

۶۱. بین دو عدد ۳ و ۱۹۲ پنج واسطه‌ی هندسی درج کرده‌ایم. اگر قدر نسبت این دنباله را منفی در نظر بگیریم. مجموع واسطه‌ها را محاسبه کنید.

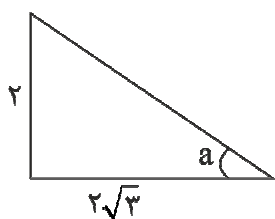
۶۲. جمله‌ی عمومی دنباله‌ی هندسی زیر را به دست آورید.

۳, -۶, ۱۲, -۲۴, ...

۶۳. دو دنباله هندسی با جمله‌های اول یکسان را در نظر بگیرید. قدر نسبت دنباله اول برابر ۳- و قدر نسبت دنباله دوم برابر ۲۷ است. جمله‌ی هفتم دنباله دوم، با جمله‌ی چندم دنباله اول برابر است؟

۶۴. اگر جمله‌ی چهارم در یک دنباله‌ی هندسی $\frac{4}{3}$ و جمله‌ی هفتم $\frac{32}{81}$ باشد، قدر نسبت این دنباله چه عددی است؟

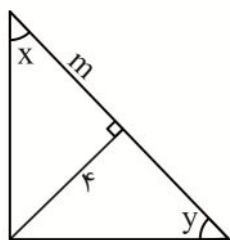
۶۵. با توجه به اطلاعات شکل، زاویه a را بیابید.



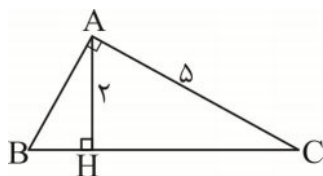
۶۶. مثلث ABC در زاویه C قائم است. اگر $\sin A = \frac{2}{3}$ باشد، $\tan B$ را به دست آورید.

۶۷. یک دوربین امنیتی در بانک روی دیواری با ارتفاع ۵ متر نصب شده است. وقتی که زاویه دید افقی دوربین 24° درجه است، یک شیء را روی زمین مشاهده می‌کند. فاصله جسم تا پای دیواری که دوربین روی آن نصب است تقریباً چقدر است؟ ($\tan 24^\circ \approx 0.44$)

۶۸. در شکل زیر مقدار m را بر حسب زاویه y به دست آورید.



۶۹. در مثلث ABC ، اگر $A = 90^\circ$ و $H = 90^\circ$ باشد، اندازه AB را به دست آورید.



۷۰. حاصل عبارت‌های زیر را به دست آورید.

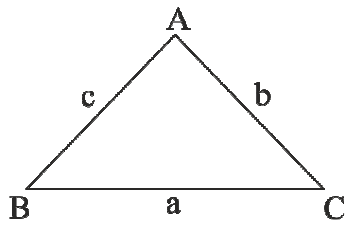
الف) $\sin 30^\circ + \cos 40^\circ$

ب) $\tan 45^\circ + \cos 30^\circ - \sin 45^\circ$

۷۱. در مثلث قائم‌الزاویه ABC ، $\hat{A} = 90^\circ$ و $\cot B = \frac{12}{9}$ و اندازه هر کدام از اضلاع مثلث از ۱۰ کوچک‌ترند.

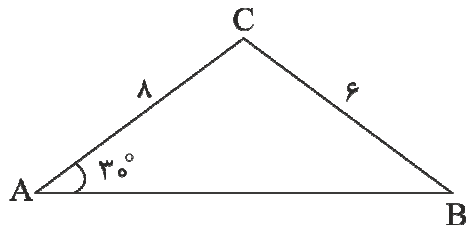
$\sin C$ برابر با چه مقداری است؟

۷۲. برای مثلث دلخواه ABC ثابت کنید:

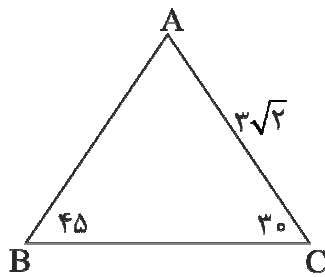


$$\frac{\sin A}{a} = \frac{\sin B}{b} = \frac{\sin C}{c}$$

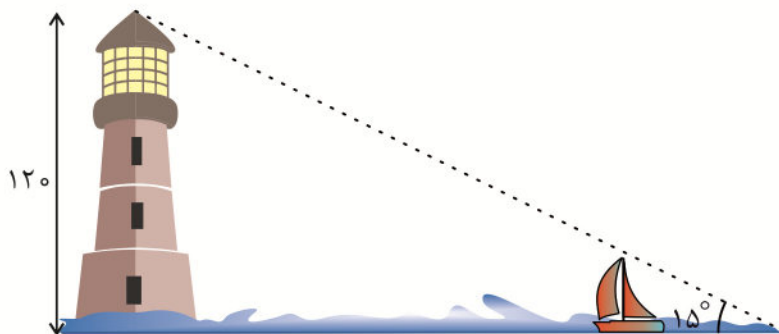
۷۳. در مثلث زیر $\sin B$ چقدر است؟



۷۴. در مثلث زیر اندازه ضلع AB را به دست آورید.



۷۵. یک فانوس دریایی در ارتفاع ۱۲۰ متری از سطح دریا قرار دارد. یک قایق به سمت فانوس دریایی در حرکت است. باتوجه به شکل زیر، فاصله قایق تا فانوس دریایی را محاسبه کنید. ($\tan 15^\circ = 0.26$)



۷۶. هرگاه $\sin \theta \tan \theta < 0$ باشد، θ در کدام ناحیه قرار دارد؟

۷۷. حدود m را چنان بیابید طوری که $\cos x = 2m - 4$ شود.

۷۸. بیشترین و کمترین مقدار $A = \frac{-2}{3 + \cos \theta}$ را به دست آورید.

۷۹. هرگاه $\frac{\cos \theta}{\sin \theta - 1} < 0$ باشد، θ در کدام ناحیه قرار دارد؟

۸۰. بیشترین مقدار عبارت $A = \cos^2 \theta - 4 \cos \theta + 3$ چقدر است؟

۸۱. درستی یا نادرستی نامساوی‌های زیر را مشخص کنید.

$$\tan 20^\circ < \tan 100^\circ$$

$$\cot 35^\circ < \sin 6^\circ$$

$$\tan 120^\circ > \tan 26^\circ$$

$$\sin 8^\circ < \tan 31^\circ$$

$$\sin 3^\circ < \sin 29^\circ$$

$$\cos 11^\circ < \sin 11^\circ$$

$$\cos 34^\circ > \cos 100^\circ$$

۸۲. اگر $\sin \theta = -\frac{3}{5}$ و θ در ربع چهارم نباشد، $\tan \theta$ چه عددی است؟

۸۳. اگر نقطه M روی نیمساز ربع اول قرار داشته باشد و OM با قسمت مثبت محور x زاویه θ بسازد، $\cot \theta$ کدام است؟

۸۴. تانژانت زاویه‌ای که خط $3x + 2y = 5$ با جهت مثبت محور x می‌سازد را حساب کنید.

۸۵. اگر شیب خطی برابر با $\tan 30^\circ$ و این خط از نقطه $(2, 1)$ بگذرد، معادله آن را به دست آورید.

۸۶. در طول درس نشان دادیم $\sin \theta = \pm \sqrt{1 - \cos^2 \theta}$ ، زاویه‌ای مثال بزنید که در رابطه $\sin \theta = -\sqrt{1 - \cos^2 \theta}$ صدق کند.

۸۷. درستی عبارت‌های زیر را نشان دهید.

الف) $\cos \theta \tan \theta = \sin \theta$

ب) $\frac{\tan \theta}{\cot \theta} = \tan^2 \theta$

ج) $\frac{\cos^2 \theta}{1 + \sin \theta} = 1 - \sin \theta$

د) $\sin^4 \theta - \cos^4 \theta = \sin^2 \theta - \cos^2 \theta$

و) $\frac{1 - \tan \theta}{1 + \tan \theta} = \frac{\cot \theta - 1}{\cot \theta + 1}$

هـ) $\frac{1 - \tan^2 \theta}{1 - \cot^2 \theta} = 1 - \sec^2 \theta$

$$c) \sin \theta = \pm \frac{\tan \theta}{\sqrt{1 + \tan^2 \theta}}$$

$$n) \frac{1 - 2 \cos^2 \theta}{\sin \theta \cos \theta} = \tan \theta - \cot \theta$$

۱.۸۸ اگر $\cot a = \frac{\sqrt{7}}{3}$ و a در ناحیه اول مثلثاتی باشد، آن گاه $\sin a$ چه عددی است؟

۱.۸۹ اگر $\sin x = \frac{3}{5}$ و x در ناحیه دوم باشد، مقدار $\tan x$ را به دست آورید.

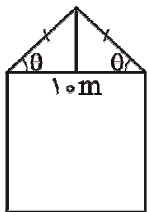
۱.۹۰ اگر $\tan x = 2$ و انتهای کمان x در ربع سوم باشد، مقدار $\sin x$ چقدر است؟

۱.۹۱ اگر کمان a در ناحیه دوم باشد، مقدار عبارت $\sqrt{\frac{1 + \sin a}{1 - \sin a}} + \frac{1 - \sin a}{\cos a}$ را محاسبه کنید.

۱.۹۲ اگر $\tan 22^\circ = \frac{2}{5}$ باشد، مقدار $\frac{\cos(-22^\circ) + \sin 202^\circ}{\sin 382^\circ}$ چه عددی است؟

۹۳. حاصل عبارت $\frac{\cos^3 x - \sin^3 x}{1 + \sin x \cos x}$ برابر با چه مقداری است؟

۱.۹۴ اگر زاویه $\theta = 43^\circ$ باشد و طول سقف خانه ۱۰ متر باشد، ارتفاع شیروانی را به دست آورید. ($\cos 43^\circ = 0.7$)



۹۵. در جاهای خالی یکی از علامت‌های $<$ ، $>$ یا $=$ قرار دهید.

۱) $(0.2)^5 \bigcirc (0.3)^3$

۲) $(0.1)^{1^\circ} \bigcirc (2)^1$

۳) $\sqrt{0.0004} \bigcirc 0.02$

۴) $\sqrt[5]{0.00001} \bigcirc \sqrt[4]{0.0001}$

۹۶. حاصل عبارت‌های زیر را محاسبه کنید.

۱) $\sqrt[5]{864} \times \sqrt[5]{46080}$

۲) $\sqrt{72}$

$$۳) \sqrt[4]{288} \times \sqrt[4]{8 \times 9}$$

$$۴) \sqrt[4]{40}$$

$$۵) \sqrt[4]{1/6 \times 10^{-3}}$$

$$۶) \sqrt[2]{\sqrt[3]{\sqrt[5]{x^{120}}}}$$

$$۷) \sqrt[4]{8 \times x^5 y^3}, x, y > 0$$

$$۸) \sqrt[3]{0/000216}$$

$$۹) \sqrt[4]{252} + \sqrt[3]{52} + \sqrt{144}$$

$$۱۰) \sqrt[4]{10 - \sqrt{19}} \times \sqrt[4]{10 + \sqrt{19}}$$

۹۷. مقدار تقریبی عبارات زیر را به دست بیاورید.

$$۱) \sqrt[5]{68}$$

$$۲) \sqrt[4]{254}$$

۹۸. در تساوی $\frac{x^2}{128} = \frac{162}{x}$ ، مقدار x چه عددی است؟

۹۹. مقدار عبارات زیر را پس از ساده کردن کسر محاسبه کنید.

$$۱) \frac{2^1 + 2^0 + 2^{-1}}{2^{-2} + 2^{-3} + 2^{-4}}$$

$$۲) \sqrt{8} + \sqrt{18}$$

۱۰۰. اگر $x^2 y + xy^2 + x + y = 16807$ و $xy = 6$ باشد، مقدار $\sqrt[4]{x+y}$ را به دست آورید.

۱۰۱. در عبارات زیر، مقدار ممکن برای x را پیدا کنید. (فرض کنید x مقدار مثبتی باشد).

$$۱) (25)^x (125)^x = (125)^x \left(\frac{1}{25}\right)$$

$$۲) 2^8 + 2^8 + 2^8 + 2^8 + 2^8 + 2^8 + 2^8 + 2^8 = 2^x$$

۱۰۲. اگر $x^2 = 100$ و $x^3 \neq 1000$ باشد، مقدار x^5 را به دست آورید.

۱۰۳. اگر $0 = 1 - \frac{1}{x} - \frac{1}{x^2} - \frac{1}{x^3}$ باشد، مقدار $(x^3 + x^2 + x + 1)^{10}$ را به دست بیاورید.

۱۰۴. در عبارت $16 = \left((\sqrt{x})^{\sqrt{x}} \right)^{\sqrt{x}}$ چه عددی است؟

۱۰۵. صاحب یک هتل قصد دارد، در اتاق‌های آن فرش پهن کند به طوری که فرش کل اتاق را پوشاند و به تناسب اندازه‌ی اتاق از دیوار \sqrt{x} متر فاصله داشته باشد. اگر طول و عرض یک اتاق به ترتیب ۱۰ و ۶ متر و مقدار x ، $2/25$ باشد، مساحت فرش چقدر است؟

۱۰۶. عبارت زیر را ساده کنید.

$$-3\sqrt{160} + 8\sqrt{40} + \sqrt{90}$$

۱۰۷. محاسبه کنید.

الف) $\sqrt[4]{\sqrt[3]{5^2} \times \sqrt[3]{5^{10}}}$

ب) $\frac{\sqrt[6]{(\sqrt{a}-1)^6}}{\sqrt{a}-1}$, $a > 1$

ج) $\sqrt[11]{b^{10}} \cdot \sqrt[5]{b^2} \sqrt[6]{b^{18}}$, $b > 0$

د) $\frac{x^2 \sqrt[3]{x}}{\sqrt[3]{x^{10}}}$

و) $\sqrt[5]{\frac{32}{243}}$

۱۰۸. حاصل عبارت‌های زیر را به دست آورید.

الف) $3\sqrt[4]{405} + 5\sqrt[4]{5} - 2\sqrt[4]{80} + 4\sqrt[4]{5} - \sqrt[4]{405} + \sqrt[4]{80}$

ب) $\sqrt[5]{a^6 b^6} - 2b\sqrt[5]{a^6 b} - 5\sqrt[5]{a^6 b^6} + 3a\sqrt[5]{ab^6} + 3ab\sqrt[5]{ab}$

ج) $\frac{\sqrt[5]{a^3} \times \sqrt[3]{a^6}}{\sqrt[7]{a^{14}} \div \sqrt[5]{a^2}}$

۱۰۹. اگر $x > 0$, $\sqrt[4]{x} = 4$ باشد، آن‌گاه \sqrt{x} را محاسبه کنید.

۱۱۰. اگر $\left(\left(\frac{5}{4} \right)^4 \right)^{\frac{5}{4}} = \left(\left(\frac{5}{4} \right)^5 \right)^{x^6}$ مقدار x را به دست آورید.

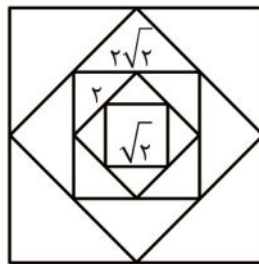
۱۱۹. مخرج کسره‌های زیر را گویا کنید.

الف) $\frac{\sqrt{5}}{\sqrt{3} + \sqrt{2}}$

ب) $\frac{\sqrt{5} - \sqrt{3}}{\sqrt{5} + \sqrt{3}}$

ج) $\frac{7\sqrt{5} - 4}{7\sqrt{5} + 4}$

۱۲۰. در شکل زیر مربع‌هایی را می‌بینید که به صورت تودرتو درون هم قرار گرفته‌اند. اگر طول ضلع مربع اول $\sqrt{2}$ باشد، طول ضلع مربع هجدهم چقدر است؟



۱۲۱. جمعیت افراد بزرگسال در یک شهر ۲۵۰۰۰۰ نفر است. اگر جمعیت مورد نظر بعد از هر سال ۳٪ افزایش یابد، بعد از سه سال، جمعیت افراد بزرگسال این شهر تقریباً چند نفر می‌شود؟

۱۲۲. حاصل عبارت $(3 + \sqrt{3})^3 + (3 - \sqrt{3})^3$ را بیابید.

۱۲۳. مقدار عبارت $(\sqrt{2} + 1)^6 (3 - 2\sqrt{2})^3$ چه عددی است؟

۱۲۴. هرگاه $\frac{x^2}{x^4 + 1} = \frac{1}{3}$ و $x > 0$ باشد، مطلوب است محاسبه $A = x^3 + \frac{1}{x^3}$.

۱۲۵. اگر $x^2 - 2x + 3 = 0$ باشد، حاصل عبارت $x^3 + \frac{27}{x^3}$ را به دست آورید.

۱۲۶. هر یک از عبارات زیر را تجزیه کنید.

الف) $x^2 + 7x + 12$

ب) $(x - y)^2 - (x - y) - 3$

پ) $x^4 - 5x^2 + 4$

ت) $a^6 - 7a^3 - 8$

ث) $9x^2 - 12xy + 4y^2 - 9$

ج) $\lambda ax - bx + \lambda ay - by$

چ) $x^5 + x^4 + x^3 + x^2 + x + 1$

هـ) $y^5 + y + 1$

و) $a(a+1)(a+2)(a+3)+1$

۱۲۷. اگر $a+b+c=1$ و $\frac{1}{a} + \frac{1}{b} + \frac{1}{c} = 0$ باشد، آن گاه ثابت کنید:

$a^2 + b^2 + c^2 = 1$

۱۲۸. اگر $a+b+c=0$ و $a^2 + b^2 + c^2 = 1$ باشد، حاصل عبارت $a^4 + b^4 + c^4$ را به دست آورید.

۱۲۹. حاصل عبارت $A = \frac{x^2+4}{x^2-4x+3} + \frac{3}{x^2-x-6}$ را به دست آورید.

۱۳۰. حاصل عبارت‌های زیر را ساده کنید.

الف) $\left(\frac{x^2 - 3yx + 2y^2}{x^2 - y^2} + \frac{x^2 - 4yx + 3y^2}{x - 3y} \right) \div \frac{y^2 - x^2 - x + 2y}{x + y}$

ب) $\frac{1}{(x-y)(y-z)} + \frac{1}{(y-z)(z-x)} + \frac{1}{(z-x)(x-y)}$

۱۳۱. مخرج کسرهای زیر را گویا کنید.

الف) $\frac{19}{\sqrt{10} + \sqrt{32}}$

ب) $\frac{3}{\sqrt[3]{16} + \sqrt[3]{4} + 1}$

۱۳۲. ریشه معادلات زیر را به دست آورید.

الف) $\sqrt{2}x^2 = 0$

ب) $-\frac{1}{5}x^2 = 0$

پ) $(\sqrt{3} - 2)x^2 = 0$

ث) $2x^2 + 5x = 0$

ت) $-7x^2 + 3x = 0$

ج) $x^2 - 49 = 0$

د) $x^2 - x - 2 = 0$

و) $x^2 + 3x + 2 = 0$

هـ) $(x+1)^2 - 3(x+1) = 0$

ی) $(2x-1)(x+3) = -3$

۱۳۳. با فرض این که $a, b \neq 0$ ، معادلات زیر را حل کنید.

الف) $x^2 + (a+1)x + a = 0$

ب) $2ax^2 + (\Delta b - 2a)x - \Delta b = 0$

ج) $(x+2)^2 - 2(x+1)(x-3) + (x-3)^2 = 0$

۱۳۴. با استفاده از مربع کامل کردن معادلات زیر را حل کنید.

الف) $x^2 - 4x - 1 = 0$

ب) $x^2 - 6x - 13 = 0$

ج) $\frac{1}{2}x^2 - 3x + \frac{1}{2} = 0$

د) $2x^2 + 7x + 11 = 0$

۱۳۵. معادلات زیر را با استفاده از فرمول حل کنید.

الف) $x^2 - 4x + 2 = 0$

ب) $2x^2 + x - 1 = 0$

ج) $(2x-3)^2 = 11x - 19$

د) $\frac{x^2-1}{2} = 11(x+1)$

۱۳۶. معادله $ax^2 + 3x + 10 = 0$ را در نظر بگیرید. مقدار a را برای هر کدام از حالت‌های زیر به دست آورید.

الف) معادله دو ریشه متمایز داشته باشد.

ب) معادله یک ریشه داشته باشد.

ج) معادله جواب حقیقی نداشته باشد؟

۱۳۷. یک سال پیش، سن پدر علی، ۸ برابر سن علی بود. حال سن پدر علی، مربع سن علی است. پدر علی چند

سال سن دارد؟

۱۳۸. بدون محاسبه و با استفاده از فرمول، حاصل جمع ریشه‌های معادلات زیر را به دست آورید.

الف) $10x^2 - 11x - 12 = 0$

ب) $x + 7 = (2x-1)(3x-2)$

ج) $x^2 = \sqrt{2}(3x - \sqrt{2}x)$

۱۳۹. اگر حاصل جمع ریشه‌های معادله $(\Delta k + 2)x^2 + 7kx - 8k = 0$ برابر با عدد ۳ باشد، حاصل ضرب

ریشه‌های آن را محاسبه کنید.

۱۴۰. دو مربع دارای اضلاع $x+6$ و $2x+1$ سانتی متر هستند. اگر مجموع مساحت‌های آن‌ها 697cm^2 باشد، مساحت هر یک از مربع‌ها را جداگانه به دست آورید.

۱۴۱. نمودار سهمی‌های زیر را رسم کنید.

الف) $y = 2x^2$

ب) $y = -x^2 + x + 1$

ج) $y = 3(x+1)(x-4)$

د) $y = -(x+3)^2 - 5$

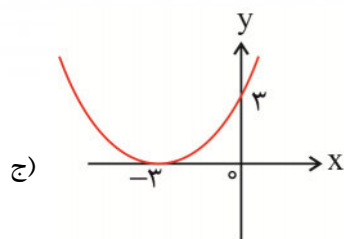
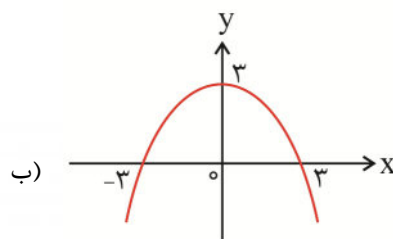
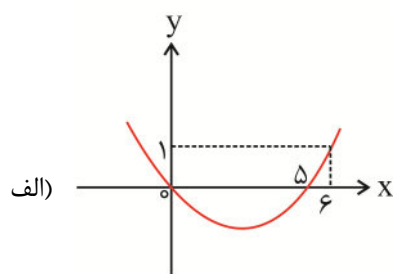
و) $y = -2(x+4)^2$

۱۴۲. معادله محور تقارن سهمی $y = 2x^2 + (m+1)x - 4$ ، به صورت $4x - 3 = 0$ است. کمترین مقدار این سهمی را بیابید.

۱۴۳. رأس سهمی $y = -3x^2 - 2(2k+5)x + 4$ روی محور y قرار دارد. مقدار k را محاسبه کنید.

۱۴۴. سهمی $y = mx^2 - (m+1)x + 2m - 1$ از نقطه $A(2, 9)$ می‌گذرد. مقدار m را بیابید.

۱۴۵. معادلات سهمی‌های زیر را بنویسید.



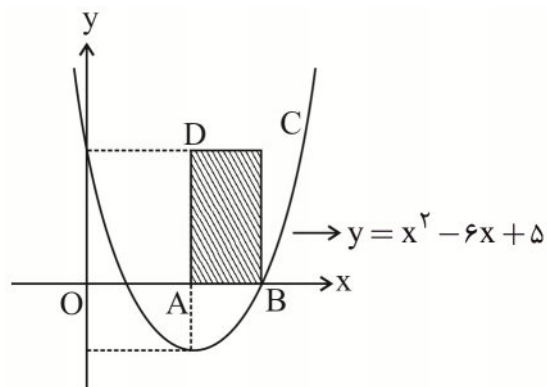
۱۴۶. نمودار معادلات زیر را رسم کنید.

الف) $y = |x^2 - 3x + 2|$

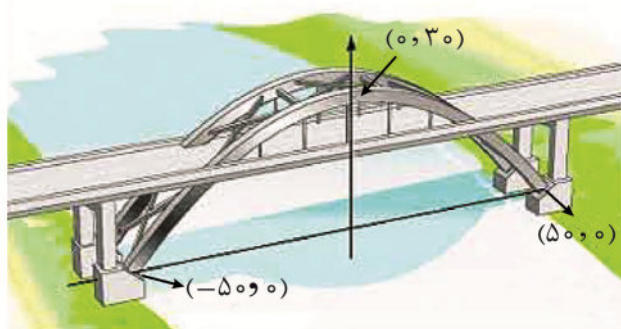
ب) $y = -x^2 + 2|x| + 3$

ج) $y = x|x + 2|$

۱۴۷. با توجه به شکل مساحت مستطیل ABCD را محاسبه کنید.



۱۴۸. برای محکم کردن یک پل سنگی، یک سازه فلزی به شکل منحنی از آن عبور کرده است. اگر این سازه از نقاط $(-50, 0)$ ، $(0, 30)$ و $(50, 0)$ بگذرد، معادله آن را بیابید.



۱۴۹. علامت هر کدام از چند جمله‌ای‌های زیر را مشخص کنید.

الف) $3x - 2$

ب) $x^2 - 5x + 4$

ج) $12x^2 + 4\sqrt{3}x + 1$

د) $-4x^2 + 10x - 25$

۱۵۰. نامعادلات زیر را حل کنید.

الف) $x^2 < 9x - 20$

ب) $4x - 7x^2 > 0$

ج) $(2x-1)^2 > (x-5)^2$

۱۵۱. برای کدام مقدار k معادله $x^2 + 2(1-k)x + 1 = 0$

الف) ریشه حقیقی ندارد.

ب) ریشه مضاعف دارد.

ج) دو ریشه مجزا دارد.

۱۵۲. نامعادلات زیر را حل کنید.

الف) $x(x-1)^2 \geq 0$

ب) $(2-x)(3x+1)(2x-3) > 0$

ج) $(3x-2)(x-3)^2(x+1)^2(x+2)^4 < 0$

د) $\frac{(x-1)(3x-2)}{5-2x} \geq 0$

و) $\left| \frac{x+2}{2x-3} \right| < 3$

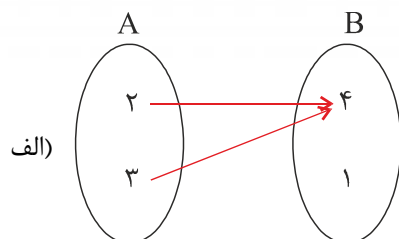
۱۵۳. نامعادله $\sqrt[3]{2x-1} < \frac{x-3}{8^{3x-7}}$ را حل کنید.

۱۵۴. نامعادله $|x^2 - 3x + 2| \leq 2x - x^2$ را حل کنید.

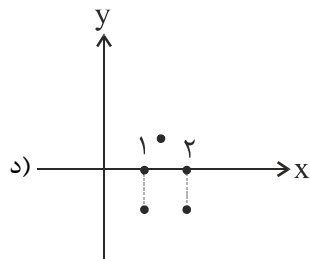
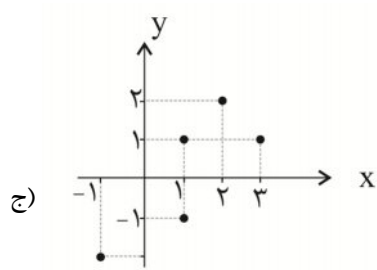
۱۵۵. مقدار a و b را طوری پیدا کنید که زوج مرتب $(2a-3b, 4a-1)$ با زوج مرتب $(5, 2)$ برابر باشد.

۱۵۶. اگر دو زوج مرتب $(2m-1, 4)$ و $(5, m+1)$ برابر باشند، مقدار m را بیابید.

۱۵۷. در گزینه‌های زیر رابطه‌ای که تابع است را مشخص کنید.



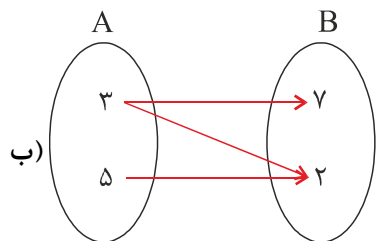
ب) $\{(-1, 0), (2, 1), (3, -1), (-2, 3)\}$



۱۵۸. مقدار a و b را طوری مشخص کنید که رابطه‌ی $\{(-4, a^2 - 1), (a - 6, 3), (-4, 3), (-8, b)\}$ تابع باشد.

۱۵۹. تابع بودن یا نبودن رابطه‌های زیر را مشخص کنید.

الف) رابطه‌ی بین مستطیل‌ها و محیط آن‌ها.



۱۶۰. رابطه‌ی $R = \{(x, y) | x, y \in \mathbb{N}, x \geq y, x < 3\}$ مفروض است، R را به صورت زوج‌های مرتب نوشته، سپس مشخص کنید که رابطه‌ی مورد نظر تابع است یا خیر؟

۱۶۱. در هر یک از موارد زیر رابطه‌ای بین دو پدیده ذکر شده است. مشخص کنید که کدام یک از رابطه‌ها یک تابع را توصیف می‌کند؟ (هر پدیده‌ای که اول ذکر شده مؤلفه‌ی اول می‌باشد).

الف) رابطه بین هر فرد با اثر انگشت او

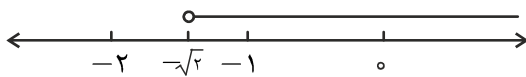
ب) رابطه‌ی بین اعداد و توان سوم آن‌ها

ج) رابطه‌ی بین یک کشور و تعداد همسایگان آن‌ها

د) رابطه بین یک صندوق پستی و تعداد نامه‌های درون آن

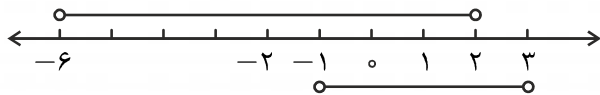
۱.

(الف) $\{x \in \mathbb{R} \mid x > -\sqrt{2}\}$

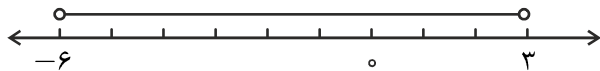


(ب) $\{x \in \mathbb{R} \mid -1 < x < 3 \text{ یا } -6 < x < 2\}$

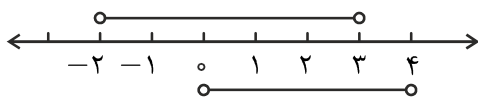
حال ابتدا نمودار هندسی مربوط به بازه را رسم کنیم.



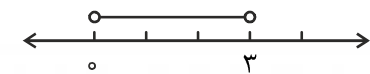
با نگاهی به نمودار می‌بینیم اجتماع دو بازه به صورت بازه $(-6, 3)$ است.



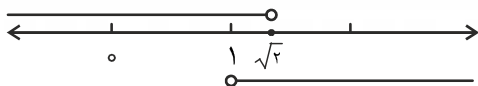
(ج) $\{x \in \mathbb{R} \mid -2 < x < 3, 0 < x < 4\}$



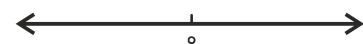
باتوجه به نمودار هندسی، $(0, 3)$ پاسخ سوال است.



(د) $\{x \in \mathbb{R} \mid x < \sqrt{2} \text{ یا } x > 1\}$



اجتماع این دو بازه، کل اعداد حقیقی است.



۲.

الف) $[-1, 1)$

ب) $[-3, 1) \cup (0, +\infty)$

ج) $(-4, 3] \cap [2, 5)$

د) $[0, +\infty) \cap (-\infty, 0) = \emptyset$

۳.

قسمت (الف)

۴.

قسمت (ب)

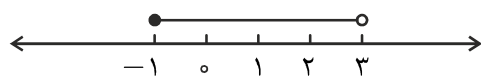
تنها قسمت (ب) شامل عدد ۹ می‌شود و بقیه‌ی قسمت‌ها عدد ۹ را درون خود ندارند.

۵.

بازه $(2, 8]$ شامل عدد ۲ نیست، ولی $2 \in [2, 8]$ است. بنابراین $(2, 8] \subseteq [2, 8]$.

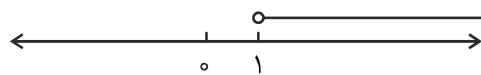
۶.

$[-1, 3) = [-1, 1] \cup (1, 3) = (-1, 3) \cup \{-1\}$



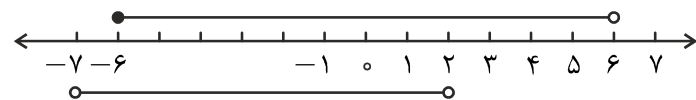
۷.

$[1, +\infty) = (-1, +\infty) \cap (0, +\infty) \cap [1, +\infty)$



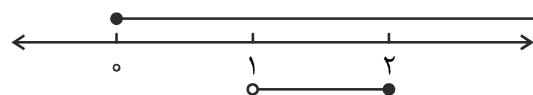
۸. ابتدا نمودار هندسی را رسم می‌کنیم.

(الف)



$[-6, 6) - (-7, 2) = [2, 6)$

(ب)



$$[0, +\infty) - (1, 2] = [0, 1] \cup (2, +\infty)$$

۹.

الف) $A = \{-3, -2, -1, 0, 1, 2\}$

$n(A) = 6$ ، بنابراین A مجموعه‌ای متناهی است.

ب) $k = 1, 2, 3 \Rightarrow B = \{2, 4, 6\}$

$n(B) = 3$ ، بنابراین مجموعه‌ی B متناهی است.

ج) $k = 0, 1, 2, 3, \dots \Rightarrow C = \{0, -5, -10, -15, \dots\}$

همان‌طور که می‌بینیم، تعداد اعضای C قابل شمارش نیست. بنابراین C مجموعه‌ای نامتناهی است.

د) می‌دانیم که اگر $A \subseteq B$ باشد، آن‌گاه $A \cap B = A$. بنابراین $\mathbb{Z} \cap \{-1, 0\} = \{-1, 0\}$ و مجموعه‌ای متناهی است.

هـ) تنها ارقام $-2, -1, 0, 1, 2$ در نامساوی $x^2 < 6$ صدق می‌کنند. بنابراین $D = \{-2, -1, 0, 1, 2\}$ و مجموعه‌ای

متناهی است.

و) تعداد اعضای P قابل شمارش نیست. بنابراین P مجموعه‌ای نامتناهی است.

۱۰.

$$k = 1, 2, 3, 4, 5, \dots, 19$$

$$A = \{5, 10, 15, 20, 25, 30, 35, 40, 45, 50, 55, 60, 65, 70, 75, 80, 85, 90, 95\}$$

بنابراین $n(A) = 19$ است و A مجموعه‌ای متناهی است.

۱۱.

اگر $A \subseteq B$ و B مجموعه‌ای نامتناهی باشد، مجموعه‌ی A ، هم می‌تواند متناهی و هم نامتناهی باشد. به عنوان مثال

$\mathbb{W} \subseteq \mathbb{Z}$ ، هر دو مجموعه‌ای نامتناهی هستند. همچنین $\{0, 1\} \subseteq \mathbb{Z}$ است که $\{0, 1\}$ مجموعه‌ای متناهی است.

۱۲.

$$A: 12 = \{1, 2, 3, 4, 6, 12\}$$

$$B: 15 = \{1, 3, 5, 15\}$$

$$A \cap B = \{3\}$$

بنابراین مجموعه‌ی $A \cap B$ ، متناهی است.

۱۳.

د) $R \cap S \cap T = (R \cap S) \cap T = \{3, 5\} \cap \{2, 4\} = \emptyset$

الف) $\Rightarrow n(R \cap S \cap T) = 0$

$$\begin{aligned} \text{د) } & (R \cup S) \cap (R \cup T) = \{1, 3, 4, 5\} \cap \{1, 2, 3, 4, 5\} = \{1, 3, 4, 5\} \\ \text{ب) } & \Rightarrow n((R \cup S) \cap (R \cup T)) = 4 \end{aligned}$$

۱۴.

تعریف می‌کنیم $A = \{2k - 2 \mid k \in \mathbb{N}\}$ و $B = \{2k - 1 \mid k \in \mathbb{N}\}$. دو مجموعه‌ی A و B نامتناهی‌اند و اعضای آن‌ها به صورت $A = \{2, 4, 6, 8, \dots\}$ و $B = \{1, 3, 5, 7, \dots\}$ است. بنابراین \mathbb{W} را به صورت اجتماع دو مجموعه‌ی نامتناهی نوشتیم:

$$\mathbb{W} = A \cup B$$

همچنین می‌توانیم داشته باشیم:

$$\mathbb{W} = \{0\} \cup \mathbb{N}$$

در این جا \mathbb{W} به صورت اجتماع یک مجموعه‌ی متناهی با یک مجموعه‌ی نامتناهی است.

۱۵.

الف) برای حل این سوال، ابتدا نامساوی را حل می‌کنیم.

$$\begin{aligned} 3x + 1 > \frac{1}{2}x - 3 & \Rightarrow 3x - \frac{1}{2}x > -3 - 1 \Rightarrow \frac{5}{2}x > -4 \Rightarrow x > -\frac{8}{5} \\ \Rightarrow A = \{x \in \mathbb{R} \mid x > -\frac{8}{5}\} \end{aligned}$$

بنابراین A مجموعه‌ای نامتناهی است.

ب)

$$\begin{aligned} 2x + \frac{1}{2} < x + 7 & \Rightarrow x < \frac{13}{2} = 6.5 \\ \Rightarrow B = \{1, 2, 3, 4, 5, 6, 7\} & \Rightarrow n(B) = 7 \end{aligned}$$

ج) تنها اعداد ۲، ۳، ۴ در این نامساوی صدق می‌کنند. بنابراین:

$$C = \{2, 3, 4\} \Rightarrow n(C) = 3$$

د) کلیه اعداد طبیعی در نامساوی مجموعه‌ی D صدق می‌کنند. بنابراین $D = \mathbb{N}$ و نامتناهی است.

ه)

$$x = -1, -2, 0, 1, 2 \Rightarrow P = \{-1, 0, 1, 2\} \Rightarrow n(P) = 4$$

و)

$$x = 0, 1, 2, 3 \Rightarrow F = \{0, 1, 2, 3\} \Rightarrow n(F) = 4$$

۱۶.

$$A = \{2, 3, 4, \dots, 20\} \Rightarrow n(A) = 19$$

$$B = \{1, 3, 5, 7, \dots\}$$

$$A \cap B = \{3, 5, 7, 9, 11, 13, 15, 17, 19\}$$

اعضای $A \cap B$ قابل شمارش است و $n(A \cap B) = 9$ ، بنابراین $A \cap B$ مجموعه‌ای متناهی است.

.۱۷

$$B - A = \{1, 3\} \Rightarrow n(B - A) = 2$$

.۱۸

$$n(A) = 6$$

.۱۹

$x = -1, 1$ در مجموعه‌ی B قرار می‌گیرد. بنابراین $n(B) = 2$.

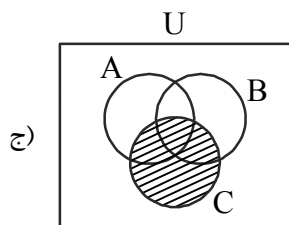
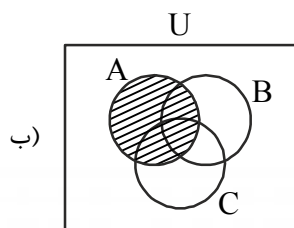
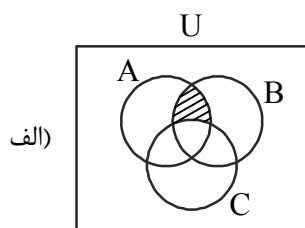
.۲۰

$$A' = U - A = \{a, \{a, b\}, \{b\}, b\}$$

.۲۱

$$(A - \phi)' \cap (U - A)' = A' \cap (A')' = A' \cap A = \phi$$

.۲۲



۲۳.

با توجه به سوال، مجموعه‌ی $U = \mathbb{Z} - \{0\}$ و $A = \{-1, -2, -3, \dots\}$ می‌شود. بنابراین A' مجموعه‌ی اعداد طبیعی است.

۲۴.

برای حل سوال، مجموعه‌های A ، B و $A \cup B$ را مشخص می‌کنیم.

$$A = \{1, 2, 3, 4, 5, 6\}$$

$$B = \{4, 5, 6, 7\}$$

$$A \cap B = \{4, 5, 6\}$$

$$\Rightarrow n(A \cup B) = n(A) + n(B) - n(A \cap B) = 6 + 4 - 3 = 7$$

۲۵.

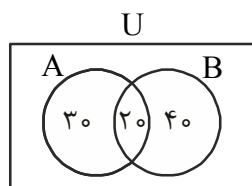
چون دو مجموعه مجزا هستند، داریم:

$$n(A \cup B) = n(A) + n(B)$$

$$\Rightarrow 14 = n(A) + 6 + n(A) \Rightarrow 2n(A) = 8 \Rightarrow n(A) = 4$$

۲۶.

تعریف می‌کنیم:



$$A = \{\text{تماشاگرانی که کلاه بر سر دارند}\}$$

$$B = \{\text{تماشاگرانی که لباس ورزشی پوشیده‌اند}\}$$

سوال از ما تعداد اعضای $(A \cup B)'$ را می‌خواهد.

$$(A \cup B)' = U - (A \cup B)$$

$$n(A \cup B) = n(A) + n(B) - n(A \cap B) \Rightarrow 50 + 60 - 20 = 90$$

$$n(A \cup B)' = n(U) - n(A \cup B) = 100 - 90 = 10$$

۲۷.

$$A = \{5, 10, 15, 20, 25, 30\}$$

$$B = \{3, 9, 12, 15, 18, 21, 24, 27, 30\}$$

$$A \cap B = \{15, 30\}$$

$$n(A \cup B) = n(A) + n(B) - n(A \cap B) = 6 + 9 - 2 = 13$$

۲۸.

داریم:

$$n(B - A) = 7, \quad n(A - B) = 10, \quad n(A) = 14$$

می‌دانیم $n(A) = n(A - B) + n(A \cap B)$ ، بنابراین:

$$14 = 10 + n(A \cap B) \Rightarrow n(A \cap B) = 4$$

همچنین:

$$n(B) = n(B - A) + n(A \cap B) = 7 + 4 = 11$$

$$\Rightarrow n(A \cup B) = n(A) + n(B) - n(A \cap B) = 14 + 11 - 4 = 21$$

۲۹.

$$A \cup B = A - B \Rightarrow n(A \cup B) = n(A - B)$$

$$\Rightarrow n(A \cup B) = n(A - B) + n(A \cap B) + n(B - A)$$

$$\Rightarrow n(B - A) + n(A \cap B) = 0 \Rightarrow n(B) = 0 \Rightarrow B = \phi$$

۳۰.

$$A - B = A \Rightarrow n(A - B) = n(A)$$

$$n(A) = n(A - B) + n(A \cap B) \Rightarrow n(A \cap B) = 0$$

از طرفی داریم:

$$n(B) = n(B - A) + n(A \cap B)$$

$$\Rightarrow n(B - A) = n(B)$$

پس:

$$B - A = B$$

۳۱.

الف) بدیهی است که:

$$(B - A) \cap (A \cap B) = \phi$$

$$\Rightarrow n((B - A) \cup (A \cap B)) = n(B - A) + n(A \cap B) = n(B) = 8$$

ب) می‌دانیم $A \cap B \subseteq A$

پس:

$$A \cup (A \cap B) = A \Rightarrow n(A \cup (A \cap B)) = n(A) = 6$$

۳۲. ابتدا مجموعه‌های زیر را معرفی می‌کنیم:

$A = \{\text{افرادى كه نوشيدنى ميوه‌اى دوست دارند}\}$

$B = \{\text{افرادى كه نوشيدنى كافئين‌دار دوست دارند}\}$

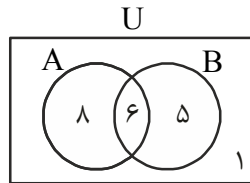
الف) منظور این سوال پیدا کردن $n(A - B)$ است.

$$n(A - B) = n(A) - n(A \cap B) = 14 - 6 = 8$$

ب) منظور این سوال پیدا کردن $n(A \cup B)$ است.

$$n(A \cup B) = n(A) + n(B) - n(A \cap B) = 14 + 11 - 6 = 19$$

ج) منظور این سوال پیدا کردن $n(A \cup B')$ است و می‌توان آن را با رسم نمودار ون حل کرد.



$$\begin{aligned} n(A \cup B') &= n(A) + n(B') - n(A \cap B') \\ &= 14 + 9 - 8 = 15 \end{aligned}$$

۳۳. ابتدا جدول مربوط به نمایش اطلاعات الگوی هندسی را رسم می‌کنیم.

n : شماره شکل	۱	۲	۳	۴	۵	۶
a_n : تعداد نقطه‌های هر شکل	۱	۵	۹	۱۳	?	?

با بسط دادن الگوهای هندسی می‌بینیم تعداد نقطه‌های شکل پنجم، ۱۷ و تعداد نقطه‌های شکل ششم ۲۱ است.

حال می‌توانیم فرمولی که رابطه‌ی نقاط را نشان می‌دهد، بیابیم.

۳- شماره‌ی شکل $\times 4 =$ تعداد نقطه‌های هر شکل

$$\Rightarrow a_n = 4n - 3$$

بنابراین الگو خطی است.

مانند همیشه، اطلاعات مربوط به شکل را در جدولی نمایش می‌دهیم.

n: شماره شکل	۱	۲	۳	۴
a_n : تعداد دایره‌های هر شکل	۱	۳	۵	۷

تعداد دایره‌های هر شکل را می‌توانیم به صورت زیر بنویسیم.

$$a_1 = 1 = 2 \times (1) - 1$$

$$a_2 = 3 = 2 \times (2) - 1$$

$$a_3 = 5 = 2 \times (3) - 1$$

$$a_4 = 7 = 2 \times (4) - 1$$

⋮

$$\Rightarrow a_n = 2 \times (n) - 1$$

بنابراین $a_n = 2n - 1$ و الگوی داده شده خطی است.

۳۵

$$n = 1 \Rightarrow 5 \times (1) + a_1 = 16 \Rightarrow a_1 = 11$$

$$n = 2 \Rightarrow 5 \times (2) + a_2 = 16 \Rightarrow a_2 = 6$$

$$n = 3 \Rightarrow 5 \times (3) + a_3 = 16 \Rightarrow a_3 = 1$$

n	۱	۲	۳
a_n	۱۱	۶	۱

۳۶

جملات جدول داده شده را می‌توانیم به صورت زیر بنویسیم:

$$a_1 = 3 \times (1) + 2$$

$$a_2 = 3 \times (2) + 2$$

$$a_3 = 3 \times (3) + 2$$

$$a_4 = 3 \times (4) + 2$$

$$a_5 = 3 \times (5) + 2$$

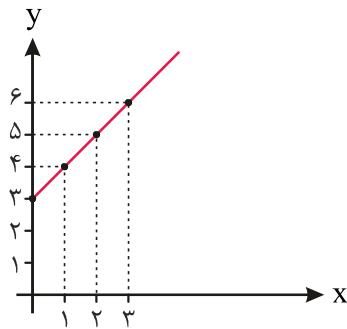
⋮

$$a_n = 3n + 2$$

در نتیجه می‌توانیم بنویسیم:

۳۷.

زوج مرتب‌های $(۱, ۴)$ ، $(۲, ۵)$ ، $(۳, ۶)$ ، $(۴, ۷)$ و $(۵, ۸)$ روی صفحه مختصات نشان داده شده است.



این نقاط روی خط $y = x + 3$ قرار دارند. بنابراین جمله‌ی عمومی دنباله $a_n = n + 3$ است.

۳۸.

مانند همیشه جدول مربوط به اطلاعات دنباله را می‌نویسیم:

a_n	بسط جمله‌ی a_n
$\frac{۱}{۲}$	$(-۱)^{۱+۱} \frac{(۱)^۲}{۱+۱}$
$-\frac{۴}{۳}$	$(-۱)^{۲+۱} \frac{(۲)^۲}{۲+۱}$
$\frac{۹}{۴}$	$(-۱)^{۳+۱} \frac{(۳)^۲}{۳+۱}$
$-\frac{۱۶}{۵}$	$(-۱)^{۴+۱} \frac{(۴)^۲}{۴+۱}$
\vdots	
a_n	$(-۱)^{n+۱} \frac{n^۲}{n+۱}$

در نتیجه: $a_n = (-۱)^{n+۱} \frac{n^۲}{n+۱}$ است.

$$a_{۲۰} = (-۱)^{۲۱} \times \frac{(۲۰)^۲}{۲۱} = -\frac{۴۰۰}{۲۱}$$

$$b_8 = b_7 + b_6$$

بنابراین باید جمله‌های b_7 و b_6 ، b_5 ، b_4 ، b_3 را به دست آوریم:

$$b_3 = b_2 + b_1 = 3 + 3 = 6$$

$$b_4 = b_3 + b_2 = 6 + 3 = 9$$

$$b_5 = b_4 + b_3 = 9 + 6 = 15$$

$$b_6 = b_5 + b_4 = 15 + 9 = 24$$

$$b_7 = b_6 + b_5 = 24 + 15 = 39$$

بنابراین:

$$b_8 = b_7 + b_6 = 39 + 24 = 63$$

برای حل این سوال ابتدا جدول مربوط به اطلاعات این دنباله را رسم می‌کنیم و بعد جمله‌ی عمومی آن را تعیین

می‌کنیم:

a_n	سط جمله‌ی a_n
$a_1 = 1$	$(1)^2$
$a_2 = 1 + (2(2) - 1) = 4$	$(2)^2$
$a_3 = 4 + (2(3) - 1) = 9$	$(3)^2$
$a_4 = 9 + (2(4) - 1) = 16$	$(4)^2$
\vdots	\vdots
$a_n = a_{n-1} + 2n - 1$	$(n)^2$

بنابراین جمله‌ی عمومی این دنباله $a_n = n^2$ است.

۴۱.

باتوجه به ضابطه‌ی دنباله داریم:

$$a_5 = \frac{(5)^2 - 1}{4} = \frac{24}{4} = 6$$

$$a_6 = \frac{(6)^2}{8} = \frac{36}{8} = \frac{9}{2}$$

$$a_5 + a_6 = 6 + \frac{9}{2} = \frac{21}{2}$$

۴۲.

برای این که a_{11} را به دست بیاوریم، باید قرار دهیم.

$$2n + 5 = 11 \quad (\text{چرا؟})$$

$$2n + 5 = 11 \Rightarrow n = 3$$

$$a_{2n+5} = \frac{n^2 + 1}{2n-1} \xrightarrow{n=3} a_{11} = \frac{(3)^2 + 1}{2(3)-1} = \frac{10}{5} = 2$$

۴۳.

$$n=1 \Rightarrow a_n = 2(3^{1-1}) = 2$$

$$n=2 \Rightarrow a_2 = 2(3^{2-1}) = 6$$

$$n=3 \Rightarrow a_3 = 2(3^{3-1}) = 18$$

$$n=4 \Rightarrow a_4 = 2(3^{4-1}) = 54$$

$$n=5 \Rightarrow a_5 = 2(3^{5-1}) = 162$$

داریم:

$$2, 6, 18, 54, 162$$

۴۴. همان طور که قبلاً گفتیم برای مشخص شدن جمله‌ی عمومی یک دنباله‌ی حسابی کافی است که جمله‌ی اول و

قدر نسبت آن را داشته باشیم. بنابراین:

$$t_n = 63 + (n-1) \times (-4) = 67 - 4n$$

۴۵.

دنباله‌ی (الف) یک دنباله حسابی است. زیرا اختلاف هر دو جمله‌ی متوالی آن مقدار ثابت است قدر نسبت این دنباله

عدد ۲ است. ولی در دنباله (ب) داریم:

$$t_2 - t_1 = 3$$

$$t_3 - t_2 = 5$$

تفاضل دو جمله متوالی این دنباله مقدار ثابتی نشد. بنابراین این دنباله، یک دنباله حسابی نیست.

.۴۶

برای این که سه جمله تشکیل یک دنباله‌ی حسابی بدهند، باید تفاضل هر دو جمله‌ی متوالی آن‌ها مقدار ثابتی باشد.

بنابراین داریم:

$$q + 5 - (4q + 3) = 4q + 3 - (q - 20)$$

$$\Rightarrow -3q + 2 = 3q + 23 \Rightarrow -6q = 21 \Rightarrow q = \frac{-7}{2}$$

.۴۷

در این سؤال باید در رابطه‌ی $t_n = a + (n-1)d$ مقدار n را به دست بیاوریم.

$$91 = 3 + (n-1) \times 11 \Rightarrow \boxed{n=9}$$

.۴۸

داریم:

$$t_5 + t_6 = 3 \Rightarrow a + 4d + a + 5d = 3$$

$$t_8 + t_9 = -2 \Rightarrow a + 7d + a + 8d = -2$$

$$\begin{cases} 2a + 9d = 3 \\ 2a + 15d = -2 \end{cases} \Rightarrow d = -\frac{5}{6}, a = \frac{21}{4}$$

$$t_{13} + t_{15} = a + 12d + a + 14d = 2a + 26d$$

$$= 2 \times \left(\frac{21}{4}\right) + 26 \times \left(-\frac{5}{6}\right) = \frac{67}{6}$$

.۴۹

داریم:

$$t_7 - t_1 = 720 \Rightarrow a + 6d - a = 720$$

$$\Rightarrow d = 120$$

.۵۰

$$t_3 = 8 \Rightarrow 8 = a + 2d \Rightarrow d = 3$$

$$t_6 = 17 \Rightarrow 17 = a + 5d \Rightarrow a = 2$$

حال می‌توانیم t_{14} را به دست آوریم.

$$t_{14} = 2 + 13 \times 3 = 41$$

.۵۱

$$t_6 = a + 5d = 3x + 1 + 5(2x + 6) = 13x + 31$$

۵۲

داریم:

$$t_n = 6n + 3$$

پس:

$$6n + 3 = a + (n-1)d = a - d + nd$$

بنابراین $d=6$ است و $a=9$.

۵۳

فرض کنید X, Y, Z تشکیل دنباله‌ی حسابی بدهند. طبق تعریف دنباله‌ی حسابی داریم:

$$\dots, X, Y, Z, \dots$$

$$x = y - d, \quad z = y + d$$

می‌دانیم مجموع این سه عدد ۲۱ شده است.

پس داریم:

$$x + y + z = 21$$

$$\Rightarrow (y-d) + y + (y+d) = 21 \Rightarrow y = 7$$

همچنین در صورت سؤال گفته شده است:

$$xyz = 231 \rightarrow (7-d) \times 7 \times (7+d) = 231$$

$$\Rightarrow 49 - d^2 = \frac{231}{7} = 33 \Rightarrow d^2 = 16 \Rightarrow d = \pm 4$$

اگر $d=4$ باشد این سه عدد به صورت زیر هستند.

$$\dots, 3, 7, 11, \dots$$

اگر $d=-4$ باشد، ترتیب سه عدد مانند زیر است.

$$\dots, 11, 7, 3, \dots$$

۵۴

طبق اطلاعات صورت سؤال داریم:

$$\frac{19}{t_1}, \frac{19}{t_2}, \frac{19}{t_3}, \frac{19}{t_4}, \frac{19}{t_5}, \frac{39}{t_6}$$

$$39 = 19 + 5d \Rightarrow d = 4$$

بنابراین:

$$t_2 = 19 + 4 = 23$$

$$t_3 = 23 + 4 = 27$$

$$t_4 = 27 + 4 = 31$$

$$t_5 = 31 + 4 = 35$$

$$t_2 + t_3 + t_4 + t_5 = 23 + 27 + 31 + 35 = 116$$

۵۵.

دنباله‌ی حسابی مربوط به زمان راه رفتن پدر علی به صورت زیر است:

۱۲, ۱۸, ۲۴, ...

قدر نسبت این دنباله ۶ است.

جدول اطلاعات مربوط به این سؤال را رسم می‌کنیم.

n: تعداد هفته‌های سپری شده	۱	۲	۳	۴
a _n : زمان راه رفتن در هفته‌ی n ام	۱۲	۱۸	۲۴	?

هدف سؤال این است، که پیدا کنیم که در هفته‌ی چندم (n)، پدر علی ۶۰ دقیقه راه می‌رود.

$$60 = 12 + (n-1) \times 6 \Rightarrow n = 9$$

۵۶.

هزینه‌های پرداخت شده تشکیل یک دنباله‌ی عددی با قدر نسبت $d = 9000$ می‌دهند.

قصد داریم از رابطه‌ی $a_n = a + (n-1)d$ استفاده کنیم. چون جمله‌ی اول از ۳۳ شروع می‌شود. بنابراین برای محاسبه‌ی هزینه‌های مربوط به ۶۰ نفر مهمان باید $a_{28} (28 = 60 - 33 + 1)$ را حساب کنیم.

$$a_{28} = 500000 + 27 \times 9000 = 743000$$

۵۷. اگر حقوق شخص را در سال اول a در نظر بگیریم، حقوق در سال دوم به صورت $a + \frac{7}{100}a$ است.

یعنی $\frac{107}{100}a$ می‌شود و در سال n ام $a(1.07)^{n-1}$ است.

بنابراین یک دنباله هندسی داریم که جمله‌ی عمومی آن به صورت $t_n = 800000 \times (1.07)^{n-1}$ است.

پس:

$$t_6 = 800000 \times (1.07)^5 = 1122041/38456$$

یعنی حقوق بعد از ۶ سال تقریباً ۱۱۲۲/۰۰۰ تومان است.

۵۸.

داریم:

$$t_1 = 2, t_2 = 8, t_3 = 32$$

$$\frac{t_3}{t_2} = 4, \quad \frac{t_2}{t_1} = 4$$

بنابراین دنباله داده شده، یک دنباله‌ی هندسی با قدر نسبت $r = 4$ است. باید n را به دست آوریم.

$$t_n = 2048 = 2 \times (4)^{n-1}$$

۲۰۴۸ را تجزیه می‌کنیم. داریم: $2048 = 2^{11}$. پس:

$$2^{11} = 2 \times (2^2)^{n-1} = 2^{2n-1}$$

$$\Rightarrow 2n - 1 = 11 \Rightarrow \boxed{n = 6}$$

۵۹

$$t_1 = a$$

$$t_7 = a \times (2)^6$$

$$t_7 = a \times 2$$

بنابراین:

$$\frac{t_1 t_7}{(t_7)^2} = \frac{a \times a \times 2^6}{(a \times 2)^2} = \frac{2^6}{2^2} = 2^4 = 16$$

۶۰

با توجه به صورت سؤال داریم:

$$t_9 = \Delta t_6 \Rightarrow ar^8 = \Delta(ar^5) \Rightarrow r^3 = \Delta$$

$$\frac{t_{11}}{t_5} = \frac{ar^{10}}{ar^4} = r^6 = (r^3)^2 = (\Delta)^2 = 25$$

۶۱

داریم:

$$\frac{3}{t_1}, \dots, \dots, \dots, \dots, \dots, \frac{192}{t_7}$$

$$t_7 = ar^6 \Rightarrow 192 = 3 \times r^6 \Rightarrow r^6 = 64 = 2^6 \Rightarrow r = \pm 2$$

با توجه به صورت سؤال $r = -2$ را در نظر می‌گیریم.

$$t_2 = -6$$

$$t_3 = 12$$

$$t_4 = -24$$

$$t_5 = 48$$

$$t_6 = -96$$

$$t_2 + t_3 + t_4 + t_5 + t_6 = -6 + 12 - 24 + 48 - 96 = -66$$

۶۲

$$r = \frac{t_2}{t_1} = \frac{-6}{3} = -2$$

$$t_n = ar^{n-1} = 3 \times (-2)^{n-1}$$

۶۳

ابتدا جمله‌ی هفتم دنباله دوم را حساب می‌کنیم.

$$t_7 = a(2^7)^6 = a(2^3)^6 = a \times 3^{18}$$

حال این عبارت را با جمله‌ی n ام از دنباله اول برابر قرار می‌دهیم. تا مقدار n به دست بیاید.

$$a \times 3^{18} = a \times (-3)^{n-1}$$

نتیجه می‌گیریم $n = 19$.

۶۴.

با توجه به صورت سؤال داریم:

$$t_4 = \frac{4}{3}, \quad t_7 = \frac{32}{81}$$

$$\Rightarrow ar^3 = \frac{4}{3}, \quad ar^6 = \frac{32}{81}$$

طرفین تساوی را بر هم تقسیم می‌کنیم.

$$\frac{ar^6}{ar^3} = \frac{\frac{32}{81}}{\frac{4}{3}} = \frac{32 \times 3}{81 \times 4} = \frac{8}{27} = \left(\frac{2}{3}\right)^3$$

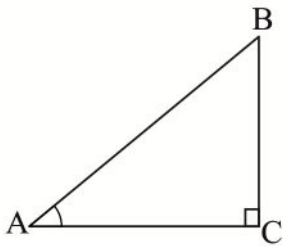
$$\Rightarrow r^3 = \left(\frac{2}{3}\right)^3 \Rightarrow \boxed{r = \frac{2}{3}}$$

۶۵.

$$\tan a = \frac{2}{2\sqrt{3}} = \frac{1}{\sqrt{3}} = \frac{\sqrt{3}}{3} \Rightarrow a = 30^\circ$$

۶۶.

باتوجه به صورت سؤال، شکل زیر را رسم می‌کنیم:

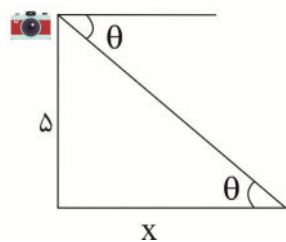


$$\sin A = \frac{BC}{AB} = \frac{2}{3} \Rightarrow BC = 2x, \quad AB = 3x$$

از طرفی داریم:

$$AC = \sqrt{(AB)^2 - (BC)^2} = \sqrt{5}x$$

$$\Rightarrow \tan B = \frac{AC}{BC} = \frac{\sqrt{5}}{2}$$

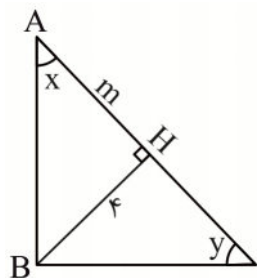


$$\theta = 24 \Rightarrow \tan \theta = 0.44$$

$$0.44 = \frac{5}{x} \Rightarrow x = \frac{5}{0.44} \approx 11.36$$

شکل زیر را داریم:

رأس‌های مثلث را نام‌گذاری می‌کنیم.



در مثلث ABH، داریم:

$$\cot x = \frac{m}{4} \rightarrow m = 4 \cot x$$

حال در مثلث ABC، $\cot x = \tan y$ در نتیجه

$$m = 4 \tan y$$

$$\left. \begin{array}{l} \text{در } ABH : \sin B = \frac{2}{AB} \\ \text{در } ABC : \sin B = \frac{5}{BC} \end{array} \right\} \rightarrow \frac{2}{AB} = \frac{5}{\sqrt{AB^2 + AC^2}} \Rightarrow \frac{2}{AB} = \frac{5}{\sqrt{AB^2 + 25}}$$

$$\Rightarrow 2\sqrt{AB^2 + 25} = 5AB \Rightarrow 4AB^2 + 100 = 25AB^2 \Rightarrow 21AB^2 = 100 \Rightarrow AB = \frac{100}{\sqrt{21}} = \frac{100\sqrt{21}}{21}$$

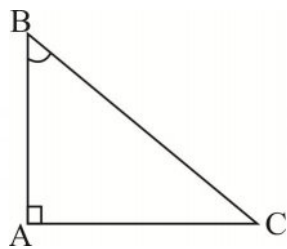
۷۰.

الف) $\sin 30^\circ + \cos 45^\circ = \frac{1}{2} + \frac{\sqrt{2}}{2} = \frac{1+\sqrt{2}}{2}$

ب) $\tan 45^\circ + \cos 30^\circ - \sin 45^\circ = 1 + \frac{\sqrt{3}}{2} - \frac{\sqrt{2}}{2} = \frac{2+\sqrt{3}-\sqrt{2}}{2}$

۷۱.

چون می‌دانیم اندازه اضلاع کمتر از ۱۰ است .



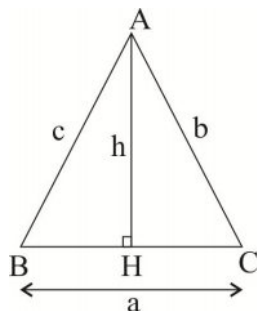
$$\cot B = \frac{12}{9} = \frac{4}{3} = \frac{\text{ضلع مجاور به } B}{\text{ضلع مقابل به } B} = \frac{AB}{AC} \Rightarrow \frac{AB}{AC} = \frac{4}{3} \Rightarrow \begin{cases} AB = 4 \\ AC = 3 \end{cases}$$

$$AB^2 + AC^2 = BC^2 \Rightarrow 16 + 9 = BC^2 \Rightarrow BC = 5$$

$$\sin C = \frac{AB}{BC} = \frac{4}{5}$$

۷۲.

ابتدا ارتفاع AH را برای مثلث ABC رسم می‌کنیم.



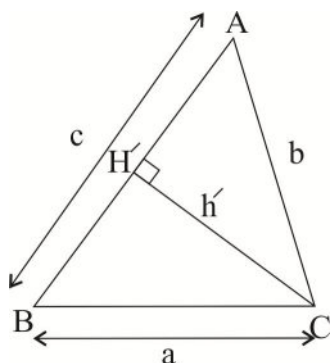
داریم:

$$\left. \begin{aligned} \sin B = \frac{h}{c} &\Rightarrow h = c \sin B \\ \sin C = \frac{h}{b} &\Rightarrow h = b \sin C \end{aligned} \right\} \Rightarrow c \sin B = b \sin C$$

در نتیجه:

$$\frac{\sin c}{C} = \frac{\sin B}{b} \quad (1)$$

حال ارتفاع CH' را رسم می‌کنیم.



$$\left. \begin{aligned} \sin A = \frac{h'}{b} &\Rightarrow h' = b \sin A \\ \sin B = \frac{h'}{a} &\Rightarrow h' = a \sin B \end{aligned} \right\} \Rightarrow b \sin A = a \sin B$$

$$\frac{\sin A}{a} = \frac{\sin B}{b} \quad (2)$$

در نتیجه:

$$\frac{\sin A}{a} = \frac{\sin B}{b} = \frac{\sin C}{c}$$

از (1) و (2) نتیجه می‌گیریم:

.73

طبق رابطه به‌دست آمده در سوال 8 داریم:

$$\frac{\sin B}{8} = \frac{\sin 30^\circ}{6}$$

$$\Rightarrow \sin B = \frac{8 \sin 30^\circ}{6} = \frac{8 \times \frac{1}{2}}{6} = \frac{4}{6} = \frac{2}{3}$$

.74

$$\frac{AB}{\sin 30^\circ} = \frac{3\sqrt{2}}{\sin 45^\circ} \Rightarrow AB = 3$$

.75

اگر فاصله قایق تا فانوس دریایی را x فرض کنیم، داریم:

$$\tan 15^\circ = \frac{12}{x} = 0.26 \Rightarrow x = 461/53$$

.76

باتوجه به این که $\sin \theta \tan \theta < 0$ است، یعنی این دو هم علامت نیستند.

تنها در ربع دوم و سوم $\sin \theta$ و $\tan \theta$ دارای علامت‌های مختلفی هستند.

.77

می‌دانیم همواره $-1 \leq \cos x \leq 1$ ، بنابراین:

$$-1 \leq 2m - 4 \leq 1 \rightarrow 3 \leq 2m \leq 5 \Rightarrow \frac{3}{2} \leq m \leq \frac{5}{2}$$

.78

$$-1 \leq \cos \theta \leq 1 \xrightarrow{+3} 2 \leq 3 + \cos \theta \leq 4 \rightarrow \frac{1}{4} \leq \frac{1}{3 + \cos \theta} \leq \frac{1}{2}$$

$$\xrightarrow{\times(-2)} -1 \leq \frac{-2}{3 + \cos \theta} \leq -\frac{1}{2}$$

-1: کمترین مقدار

$-\frac{1}{2}$: بیشترین مقدار

۷۹.

مخرج کسر عبارت داده شده منفی است. (چرا؟) در نتیجه در نامساوی $\frac{\cos \theta}{\sin \theta - 1} < 0$ باید $\cos \theta > 0$ باشد. بنابراین θ

در ناحیه اول یا چهارم قرار دارد.

۸۰.

$$A = \cos^2 \theta - 4 \cos \theta + 3 = \cos^2 \theta - 4 \cos \theta + 4 - 4 + 3 \\ = (\cos \theta - 2)^2 - 1 \Rightarrow A = (\cos \theta - 2)^2 - 1$$

از طرفی

$$-1 \leq \cos \theta \leq 1 \xrightarrow{-2} -3 \leq \cos \theta - 2 \leq -1 \\ \xrightarrow{-1} 0 \leq (\cos \theta - 2)^2 - 1 \leq 8$$

به توان ۲

بنابراین بیشترین مقدار A برابر با ۸ است.

۸۱.

کافی است به علامت نسبت‌های مثلثاتی در ناحیه‌ها نگاه کنیم.

$\tan 20^\circ < \tan 100^\circ \quad \times$	$\cot 35^\circ < \sin 6^\circ \quad \checkmark$
$\tan 12^\circ > \tan 26^\circ \quad \times$	$\sin 8^\circ < \tan 31^\circ \quad \times$
$\sin 3^\circ < \sin 29^\circ \quad \times$	$\cos 11^\circ < \sin 11^\circ \quad \checkmark$
$\cos 34^\circ > \cos 100^\circ \quad \checkmark$	

۸۲.

چون y منفی است، پس θ در ربع سوم یا ربع چهارم است. با توجه به این که θ در ربع چهارم نیست، پس θ حتماً در ربع سوم است.

$$x^2 + y^2 = 1 \Rightarrow x^2 + \frac{9}{25} = 1 \Rightarrow x^2 = \frac{16}{25} \Rightarrow x = -\frac{4}{5}$$

زیرا در ربع سوم x منفی است.

$$\tan \theta = \frac{y}{x} = \frac{-\frac{3}{5}}{-\frac{4}{5}} = \frac{3}{4}$$

۸۳.

چون نقطه x روی نیمساز ربع اول می‌باشد، پس $y = x$. بنابراین:

$$\cot \theta = \frac{x}{y} = \frac{x}{x} = 1$$

۸۴

$$3x + 2y = 5 \Rightarrow 2y = -3x + 5 \Rightarrow y = -\frac{3}{2}x + \frac{5}{2} \Rightarrow \text{شیب خط} = -\frac{3}{2}$$

$$\tan \alpha = -\frac{3}{2}$$

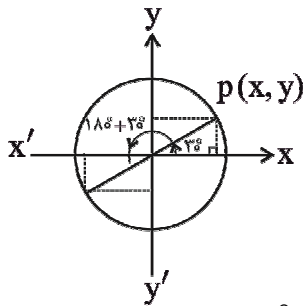
۸۵

$$m = \tan 3^\circ = \frac{\sqrt{3}}{3}$$

از طرفی می‌دانیم $y - y_0 = m(x - x_0)$ ، در نتیجه داریم:

$$y - 1 = \frac{\sqrt{3}}{3}(x - 2) \Rightarrow y = \frac{\sqrt{3}}{3}x - \frac{2\sqrt{3}}{3} + 1 \Rightarrow y = \frac{\sqrt{3}}{3}x + \frac{3 - 2\sqrt{3}}{3}$$

۸۶



همان طوکة می‌بینیم $\sin \theta \leq 0$ است.

بنابراین θ می‌تواند در ناحیه‌های سوم و چهارم باشد. θ را قرار می‌دهیم.

$$\theta = 180^\circ + 30^\circ$$

همان طور که در شکل می‌بینید

$$\sin(180^\circ + 30^\circ) = -\sin(30^\circ) = -\frac{1}{2}$$

$$\cos(180^\circ + 30^\circ) = -\cos(30^\circ) = -\frac{\sqrt{3}}{2}$$

$$\Rightarrow \sin 210^\circ = -\frac{1}{2} \quad \text{و} \quad -\sqrt{1 - \cos^2 210^\circ} = -\sqrt{1 - \left(-\frac{\sqrt{3}}{2}\right)^2} = -\sqrt{1 - \frac{3}{4}} = -\frac{1}{2}$$

مشاهده کردید که زاویه 210° در رابطه داده شده صورت سؤال صدق می‌کند.

۸۷

طرف راست: $\cos \theta \tan \theta = \cos \theta \frac{\sin \theta}{\cos \theta} = \sin \theta$: طرف چپ (الف)

طرف راست: $\frac{\tan \theta}{\cot \theta} = \frac{\tan \theta}{\frac{1}{\tan \theta}} = \tan^2 \theta$: طرف چپ (ب)

ج) $\frac{\cos^2 \theta}{1 + \sin \theta} = \frac{1 - \sin^2 \theta}{1 + \sin \theta} = \frac{(1 - \sin \theta)(1 + \sin \theta)}{(1 + \sin \theta)} = 1 - \sin \theta$

د) $\sin^4 \theta - \cos^4 \theta = (\sin^2 \theta - \cos^2 \theta)(\sin^2 \theta + \cos^2 \theta) = \sin^2 \theta - \cos^2 \theta$

$$\text{و) } \frac{1 - \tan \theta}{1 + \tan \theta} = \frac{1 - \frac{1}{\cot \theta}}{1 + \frac{1}{\cot \theta}} = \frac{\frac{\cot \theta - 1}{\cot \theta}}{\frac{\cot \theta + 1}{\cot \theta}} = \frac{\cot \theta - 1}{\cot \theta + 1}$$

$$\text{ه) } \frac{1 - \tan^2 \theta}{1 - \cot^2 \theta} = \frac{1 - \frac{\sin^2 \theta}{\cos^2 \theta}}{1 - \frac{\cos^2 \theta}{\sin^2 \theta}} = \frac{\frac{\cos^2 \theta - \sin^2 \theta}{\cos^2 \theta}}{\frac{\sin^2 \theta - \cos^2 \theta}{\sin^2 \theta}} = \frac{\sin^2 \theta (\cos^2 \theta - \sin^2 \theta)}{\cos^2 \theta (\sin^2 \theta - \cos^2 \theta)}$$

$$= -\tan^2 \theta = -(\tan^2 \theta + 1 - 1) = -\left(\frac{1}{\cos^2 \theta} - 1\right) = 1 - \frac{1}{\cos^2 \theta} = 1 - \sec^2 \theta$$

$$\text{ع) } 1 + \cot^2 \theta = \frac{1}{\sin^2 \theta} \Rightarrow \sin^2 \theta = \frac{1}{1 + \cot^2 \theta}$$

$$\Rightarrow \sin \theta = \pm \sqrt{\frac{1}{1 + \cot^2 \theta}} = \pm \sqrt{\frac{1}{1 + \frac{1}{\tan^2 \theta}}} = \pm \sqrt{\frac{1}{\frac{\tan^2 \theta + 1}{\tan^2 \theta}}} = \pm \sqrt{\frac{\tan^2 \theta}{1 + \tan^2 \theta}} = \pm \frac{\tan \theta}{\sqrt{1 + \tan^2 \theta}}$$

$$\text{ن) } \frac{1 - 2 \cos^2 \theta}{\sin \theta \cos \theta} = \frac{1 - \cos^2 \theta - \cos^2 \theta}{\sin \theta \cos \theta} = \frac{\sin^2 \theta - \cos^2 \theta}{\sin \theta \cos \theta} = \frac{\sin^2 \theta}{\sin \theta \cos \theta} - \frac{\cos^2 \theta}{\sin \theta \cos \theta}$$

$$= \frac{\sin \theta}{\cos \theta} - \frac{\cos \theta}{\sin \theta} = \tan \theta - \cot \theta$$

.۸۸

$$1 + \cot^2 a = \frac{1}{\sin^2 a} \Rightarrow \sin^2 a = \frac{1}{1 + \cot^2 a} \xrightarrow{\text{در ناحیه اول } a} \sin a = \frac{1}{\sqrt{1 + \cot^2 a}}$$

$$\Rightarrow \sin a = \frac{1}{\sqrt{1 + \frac{7}{9}}} = \frac{1}{\sqrt{\frac{16}{9}}} \Rightarrow \sin a = \frac{3}{4}$$

.۸۹

$$\text{دوم در ناحیه دوم } x \Rightarrow \cos x = -\sqrt{1 - \sin^2 x} = -\sqrt{1 - \frac{9}{25}} = -\sqrt{\frac{16}{25}} = -\frac{4}{5}$$

$$\Rightarrow \tan x = \frac{\sin x}{\cos x} = \frac{\frac{3}{5}}{-\frac{4}{5}} = -\frac{3}{4}$$

.۹۰

$$1 + \tan^2 x = \frac{1}{\cos^2 x} \xrightarrow{\text{در ناحیه سوم } x} \cos x = -\frac{1}{\sqrt{1 + \tan^2 x}} = -\frac{1}{\sqrt{1 + 4}} = -\frac{1}{\sqrt{5}} = -\frac{\sqrt{5}}{5}$$

$$\text{سوم در ناحیه سوم } \Rightarrow \sin x = -\sqrt{1 - \cos^2 x} = -\sqrt{1 - \frac{5}{25}} = -\sqrt{\frac{20}{25}} = -\frac{2\sqrt{5}}{5}$$

۹۱

$$\sqrt{\frac{1+\sin a}{1-\sin a} \times \frac{1+\sin a}{1+\sin a}} = \sqrt{\frac{(1+\sin a)^2}{1-\sin^2 a}} = \sqrt{\frac{(1+\sin a)^2}{\cos^2 a}} = \frac{|1+\sin a|}{|\cos a|}$$

a در ناحیه دوم است، پس $|\cos a| = -\cos a$ چون $\cos a$ در ناحیه دوم منفی است، باتوجه به این که $1 + \sin a$ عبارتی همواره مثبت است، پس $|1 + \sin a| = 1 + \sin a$ بنابراین:

$$\frac{\sqrt{1+\sin a}}{\sqrt{1-\sin a}} + \frac{1-\sin a}{\cos a} = \frac{1+\sin a}{-\cos a} + \frac{1-\sin a}{\cos a} = \frac{-1-\sin a + 1-\sin a}{\cos a} = \frac{-2\sin a}{\cos a} = -2 \tan a$$

۹۲

زاویه 202° در ربع سوم است، در نتیجه سینوس آن منفی است. در درس گذشته نشان دادیم $\cos(-\theta) = \cos \theta$ پس $\cos 22^\circ = \cos(-22^\circ)$ و همچنین زاویه 22° در ربع اول قرار می‌گیرد، بنابراین سینوس آن مثبت است. داریم:

$$\frac{\cos(-22^\circ) + \sin(202^\circ)}{\sin(382^\circ)} = \frac{\cos(-22^\circ) + \sin(180^\circ + 22^\circ)}{\sin(360^\circ + 22^\circ)} = \frac{\cos 22^\circ - \sin 22^\circ}{\sin 22^\circ}$$

$$= \frac{\cos 22^\circ}{\sin 22^\circ} - \frac{\sin 22^\circ}{\sin 22^\circ} = \cot 22^\circ - 1 = \frac{1}{\tan 22^\circ} - 1 = \frac{5}{2} - 1 = \frac{3}{2}$$

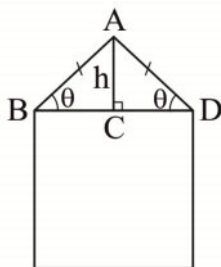
۹۳

$$\frac{\cos^3 x - \sin^3 x}{1 + \sin x \cos x} = \frac{(\cos x - \sin x)(\cos^2 x + \sin^2 x + \cos x \sin x)}{1 + \sin x \cos x}$$

$$= \frac{(\cos x - \sin x)(1 + \cos x \sin x)}{1 + \cos x \sin x} = \cos x - \sin x$$

۹۴

دو مثلث ABC و ACD هم نهشت‌اند.



$$\cos 43^\circ = 0.7$$

می‌دانیم:

$$1 + \tan^r \theta = \frac{1}{\cos^r \theta}$$

$$\Rightarrow 1 + \tan^r \theta = \frac{1}{(\frac{0}{\gamma})^r} \Rightarrow \tan^r \theta = \frac{1}{(\frac{0}{\gamma})^r} - 1 = \frac{\Delta 1}{49} \Rightarrow \tan \theta = \frac{\sqrt{\Delta 1}}{\gamma}$$

$$\tan \theta = \frac{h}{\Delta} = \frac{\sqrt{\Delta 1}}{\gamma} \Rightarrow h = \frac{\Delta \sqrt{\Delta 1}}{\gamma} \xrightarrow{\sqrt{\Delta 1} \sim \gamma/1} h = \Delta / 0.7 \text{ m}$$

.۹۵

۱)

$$\begin{aligned} (\frac{0}{2})^\Delta &= (2 \times 10^{-1})^\Delta = 2^\Delta \times 10^{-\Delta} = 0.2^\Delta \times 10^{-\Delta} \\ (\frac{0}{3})^r &= (3 \times 10^{-1})^r = 3^r \times 10^{-r} \end{aligned} \quad \Rightarrow \quad 0.2^\Delta \times 10^{-\Delta} < 3^r \times 10^{-r}$$

$$(\frac{0}{2})^\Delta \otimes (\frac{0}{3})^r$$

۲)

$$\begin{aligned} (\frac{0}{1})^{1^\circ} &= (1 \times 10^{-1})^{1^\circ} = 10^{-1^\circ} = (\frac{1}{10})^{1^\circ} \\ (\frac{0}{2})^1 &= 2^1 \end{aligned} \quad \Rightarrow \quad (\frac{1}{10})^{1^\circ} < 2^1$$

$$(\frac{0}{1})^{1^\circ} \otimes (\frac{0}{2})^1$$

۳)

$$\begin{aligned} \frac{0.0004}{0.02} &= \frac{\sqrt{4 \times 10^{-4}}}{2 \times 10^{-2}} = 2 \times 10^{-2} = 0.02 \\ \frac{0.0004}{0.02} &= 0.02 \end{aligned} \quad \Rightarrow \quad 0.02 = 0.02$$

$$\frac{0.0004}{0.02} \ominus 0.02$$

۴)

$$\begin{aligned} \sqrt[5]{0.00001} &= \sqrt[5]{1 \times 10^{-5}} = 10^{-1} \\ \sqrt[4]{0.0001} &= \sqrt[4]{1 \times 10^{-4}} = 10^{-1} \end{aligned} \quad \Rightarrow \quad 10^{-1} = 10^{-1}$$

$$\sqrt[5]{0.00001} \ominus \sqrt[4]{0.0001}$$

.۹۶

عبارت‌های زیر را رادیکال را تجزیه می‌کنیم.

$$۱) \sqrt[5]{1864} \times \sqrt[3]{46080} = \sqrt[5]{2^5 \times 3^5} \times \sqrt[3]{2^5 \times 3^3} \times \sqrt[3]{2^2 \times 3^1} \times 5 = \sqrt[5]{2^5 \times 3^5} \times (2^2)^\Delta \times 5 = 2 \times 3 \times 4 \times \sqrt[5]{5} = 24 \sqrt[5]{5}$$

$$۲) \sqrt{72} = \sqrt{36 \times 2} = \sqrt{6^2 \times 2} = 6\sqrt{2}$$

$$۳) \sqrt[۳]{۴۸۸} \times \sqrt[۳]{۸ \times ۹} = \sqrt[۳]{۲^۵ \times ۳^۲} \times \sqrt[۳]{۲^۳ \times ۳^۲} = \sqrt[۳]{۲^۸ \times ۳^۴} = \sqrt[۳]{(۲^۲)^۴ \times ۳^۴} = ۲^۲ \times ۳ = ۱۲$$

$$۴) \sqrt[۳]{۴۰} = \sqrt[۳]{۲^۳ \times ۵} = ۲\sqrt[۳]{۵}$$

$$۵) \sqrt[۳]{۱/۶ \times ۱۰^{-۳}} = \sqrt[۳]{۱/۶ \times ۱۰^{-۴}} = \sqrt[۳]{۲^۴ \times ۱۰^{-۴}} = ۲ \times ۱۰^{-۱} = ۰/۲$$

$$۶) ۱۲۰ = ۲^۳ \times ۳ \times ۵ \Rightarrow x^{۱۲۰} = ((x^۱)^۳)^۵ \Rightarrow \sqrt[۵]{x^{۱۲۰}} = \sqrt[۵]{(x^۱)^۳)^۵} = (x^۱)^۳$$

$$\sqrt[۳]{\sqrt[۵]{x^{۱۲۰}}} = \sqrt[۳]{(x^۱)^۳} = \sqrt[۳]{x^۳} \Rightarrow \sqrt[۳]{\sqrt[۵]{x^{۱۲۰}}} = \sqrt[۳]{x^۳} = \sqrt[۳]{(x^۳)^۳} = x^۳$$

$$۷) \sqrt[۳]{۸ \times x^۵ y^۳} = \sqrt[۳]{۲^۳ \times ۵ \times x^۵ \times x \times y^۳} = ۲x\sqrt[۳]{۵xy^۳}$$

$$۸) \sqrt[۳]{۰/۰۰۰۲۱۶} = \sqrt[۳]{۲۱۶ \times ۱۰^{-۶}} = \sqrt[۳]{۶^۳ \times ۱۰^{-۶}} = ۶ \times ۱۰^{-۲} = ۰/۰۶$$

$$۹) \sqrt[۳]{۲۵۲} + \sqrt[۳]{۵۲ + \sqrt{۱۴۴}} = \sqrt[۳]{۲۵۲ + \sqrt[۳]{۵۲ + ۱۲}} = \sqrt[۳]{۲۵۲ + ۴} = \sqrt[۳]{۲۵۶} = ۴$$

$$۱۰) \sqrt[۳]{۱۰ - \sqrt{۱۹}} \times \sqrt[۳]{۱۰ + \sqrt{۱۹}} = \sqrt[۳]{(۱۰ - \sqrt{۱۹})(۱۰ + \sqrt{۱۹})} = \sqrt[۳]{۱۰۰ - ۱۹} = \sqrt[۳]{۸۱} = ۳$$

۹۷

۱)

می دانیم:

$$۲^۵ = ۳۲ < ۶۸ < ۳^۵ = ۲۴۳$$

حدس ما برای جواب عدد ۲/۳ است، زیرا:

$$(۲/۳)^۵ = ۶۴/۳۶۳۴۳$$

بنابراین:

$$\sqrt[۵]{۶۸} \approx ۲/۳$$

۲)

می دانیم:

$$۳^۴ = ۸۱ < ۲۵۴ < ۲۵۶ = ۴^۴$$

حدس می زنیم، پاسخ عدد تقریبی ۳/۹ باشد، داریم:

$$(۳/۹)^۴ = ۲۳۱/۳۴۴۱$$

بنابراین:

$$\sqrt[۴]{۲۵۴} \approx ۳/۹$$

.۹۸

$$\frac{x^7}{128} = \frac{162}{x} \Rightarrow x^8 = 162 \times 128 = 2 \times 3^4 \times 2^6$$

$$\Rightarrow x = \sqrt[8]{2 \times 3^4 \times 2^6} = 2^2 \times 3 \times \sqrt[4]{6} = 12\sqrt[4]{6}$$

.۹۹

$$1) \frac{2^1 + 2^0 + 2^{-1}}{2^{-2} + 2^{-3} + 2^{-4}} = \frac{2^1 + 2^0 + 2^{-1}}{2^{-3}(2^1 + 2^0 + 2^{-1})} = \frac{1}{2^{-3}} = 2^3 = 8$$

$$2) \sqrt{8} + \sqrt{18} = \sqrt{2^3} + \sqrt{9 \times 2} = 2\sqrt{2} + 3\sqrt{2} = 5\sqrt{2}$$

.۱۰۰

$$x^7 y + xy^7 + x + y = 16807 \Rightarrow xy(x+y) + (x+y) = 7^5$$

$$\Rightarrow (x+y)(xy+1) = 7^5$$

$$\Rightarrow (x+y)(6+1) = 7^5 \Rightarrow x+y = 7^4 \Rightarrow \sqrt[4]{x+y} = 7$$

.۱۰۱

$$1) (125)^x \neq 0$$

**** اگر $b \neq 0$ باشد و $ab = cb$ آن گاه $a = c$ است. ****

$$(25)^x (125)^x = (125)^x \left(\frac{1}{25}\right) \Rightarrow (25)^x = 25^{-1} \Rightarrow x = -1$$

۲)

$$2^8 + 2^8 + 2^8 + 2^8 + 2^8 + 2^8 + 2^8 + 2^8 = 2^x \Rightarrow 8 \times 2^8 = 2^x$$

$$\Rightarrow 2^3 \times 2^8 = 2^x \Rightarrow 2^{11} = 2^x \Rightarrow x = 11$$

.۱۰۲

$$x^2 = 100 \Rightarrow x = \pm 10$$

چون $x^3 \neq 1000$ است، بنابراین تنها مقدار $x = -10$ قابل قبول است.

پس:

$$x^5 = (-10)^5 = -100000$$

.١٠٣

$$\begin{aligned} \frac{1}{x^3} - \frac{1}{x^2} - \frac{1}{x} - 1 &= 0 \Rightarrow \frac{1-x-x^2-x^3}{x^3} = 0 \\ &\Rightarrow 1-x-x^2-x^3 = 0 \\ &\Rightarrow 1-x-x^2-x^3 = -(x^3+x^2+x+1)+2=0 \\ &\Rightarrow (x^3+x^2+x+1)=2 \Rightarrow (x^3+x^2+x+1)^{1^{\circ}} = 2^{1^{\circ}} = 1.024 \end{aligned}$$

.١٠٤

$$\left((\sqrt{x})^{\sqrt{x}} \right)^{\sqrt{x}} = (\sqrt{x})^{\sqrt{x} \times \sqrt{x}} = \sqrt{x}^x = 16 \Rightarrow (\sqrt{x})^x = 2^4 \Rightarrow x = 4$$

.١٠٥

$$\text{مساحت فرش: } (10 - 2\sqrt{2/25})(6 - 2\sqrt{2/25}) = 21$$

.١٠٦

$$\begin{aligned} -3\sqrt{160} + 8\sqrt{40} + \sqrt{90} &= -3 \times 4\sqrt{10} + 8 \times 2\sqrt{10} + 3\sqrt{10} \\ &= -12\sqrt{10} + 16\sqrt{10} + 3\sqrt{10} = 7\sqrt{10} \end{aligned}$$

.١٠٧

$$\text{الف) } \sqrt[4]{\sqrt{5^2} \times \sqrt{5^{10}}} = \sqrt[4]{\sqrt{5^{12}}} = \sqrt[4]{5^4} = 5$$

$$\text{ب) } a > 1 \Rightarrow \sqrt{a-1} > 0$$

$$\frac{\sqrt[6]{(\sqrt{a-1})^6}}{\sqrt{a-1}} = \frac{\sqrt{a-1}}{\sqrt{a-1}} = 1$$

$$\text{ج) } \sqrt[1]{\sqrt[5]{b^{10}} \sqrt[6]{b^2} \sqrt[6]{b^{18}}} = \sqrt[1]{\sqrt[5]{b^{10}} \sqrt[6]{b^2 b^2 b^2}} = \sqrt[1]{\sqrt[5]{b^{10}} \times b} = b$$

$$\text{د) } \frac{x^2 \sqrt[3]{x}}{\sqrt[3]{x^{10}}} = \frac{\sqrt[3]{(x^2)^3 x}}{\sqrt[3]{x^{10}}} = \frac{\sqrt[3]{x^6 x}}{\sqrt[3]{x^{10}}} = \sqrt[3]{\frac{x^7}{x^{10}}} = \sqrt[3]{\frac{1}{x^3}} = \sqrt[3]{\left(\frac{1}{x}\right)^3} = \frac{1}{x}$$

$$\text{ه) } \sqrt[5]{\frac{32}{243}} = \sqrt[5]{\frac{2^5}{3^5}} = \sqrt[5]{\left(\frac{2}{3}\right)^5} = \frac{2}{3}$$

$$\begin{aligned}
 \text{الف) } & ٣\sqrt[٤]{٤٠\delta} + \delta\sqrt[٤]{\delta} - ٢\sqrt[٤]{٨٠} + ٤\sqrt[٤]{\delta} - \sqrt[٤]{٤٠\delta} + \sqrt[٤]{٨٠} \\
 &= (٣-١)\sqrt[٤]{٤٠\delta} + (\delta+٤)\sqrt[٤]{\delta} + (-٢+١)\sqrt[٤]{٨٠} \\
 &= ٢\sqrt[٤]{٣^٤ \times \delta} + ٩\sqrt[٤]{\delta} - \sqrt[٤]{٢^٤ \times \delta} \\
 &= ٢ \times ٣\sqrt[٤]{\delta} + ٩\sqrt[٤]{\delta} - ٢\sqrt[٤]{\delta} \\
 &= (٦+٩-٢)\sqrt[٤]{\delta} \\
 &= ١٣\sqrt[٤]{\delta}
 \end{aligned}$$

$$\begin{aligned}
 \text{ب) } & \sqrt[٤]{a^٧ b^٦} - ٢b\sqrt[٤]{a^٦ b} - \delta\sqrt[٤]{a^٦ b^٦} + ٣a\sqrt[٤]{ab^٦} + ٣ab\sqrt[٤]{ab} \\
 &= (١-\delta)\sqrt[٤]{a^{\delta} b^{\delta} ab} - ٢b\sqrt[٤]{a^{\delta} ab} + ٣a\sqrt[٤]{ab^{\delta} b} + ٣ab\sqrt[٤]{ab} \\
 &= -٢ab\sqrt[٤]{ab} - ٢ab\sqrt[٤]{ab} + ٣ab\sqrt[٤]{ab} + ٣ab\sqrt[٤]{ab} \\
 &= (-٢-٢+٣+٣) ab\sqrt[٤]{ab} \\
 &= (٠)ab\sqrt[٤]{ab} \\
 &= ٠
 \end{aligned}$$

$$\text{ج) } \frac{\sqrt[٤]{a^٣} \times \sqrt[٣]{a^٦}}{\sqrt[٤]{a^{١٤}} \div \sqrt[٤]{a^٢}} = \frac{\sqrt[٤]{a^٣} \times \sqrt[٣]{a^٦}}{\frac{\sqrt[٤]{a^{١٤}}}{\sqrt[٤]{a^٢}}} = \frac{\sqrt[٤]{a^٣} \times \sqrt[٣]{a^٦} \times \sqrt[٤]{a^٢}}{\sqrt[٤]{a^{١٤}}} = \frac{\sqrt[٤]{a^{\delta} \times a^٢}}{a^٢} = a$$

$$\begin{aligned}
 \sqrt[٤]{x} = ٤ &\Rightarrow (\sqrt[٤]{x})^٤ = (٤)^٤ \Rightarrow x = (٢^٢)^٤ = ٢^{١٢} \\
 \Rightarrow \sqrt{x} &= \sqrt{٢^{١٢}} = ٢^٦ = ٦٤
 \end{aligned}$$

داريم:

$$\begin{aligned}
 \left(\frac{\delta}{٤}\right)^{٤ \times \left(\frac{\delta}{٤}\right)^٧} &= \left(\frac{\delta}{٤}\right)^{\delta x^٦} \\
 \Rightarrow ٤ \times \left(\frac{\delta}{٤}\right)^٧ &= \delta x^٦ \Rightarrow x^٦ = \frac{٤}{\delta} \times \left(\frac{\delta}{٤}\right)^٧ = \left(\frac{\delta}{٤}\right)^٦ \Rightarrow x = \pm \frac{\delta}{٤}
 \end{aligned}$$

$$\text{الف) } \sqrt[٣]{٣٦x^٢ y^٤} = (٣٦x^٢ y^٤)^{\frac{1}{٣}} = (٣٦)^{\frac{1}{٣}} (x^٢)^{\frac{1}{٣}} (y^٤)^{\frac{1}{٣}} = ٦xy^{\frac{2}{3}}$$

$$\text{ب) } \sqrt[٣]{-٢٧a^٣ b^٦} = (-٢٧a^٣ b^٦)^{\frac{1}{٣}} = (-٢٧)^{\frac{1}{٣}} (a^٣)^{\frac{1}{٣}} (b^٦)^{\frac{1}{٣}} = -٣ab^٢$$

$$ج) (\sqrt[3]{25})^5 = ((25)^{\frac{1}{2}})^5 = 25^{\frac{1}{2} \times 5} = 25^{\frac{5}{2}} = \sqrt{25} = 5$$

$$د) \sqrt[5]{99} \times (\sqrt[3]{99})^2 = (99^{\frac{1}{5}})(99^{\frac{2}{3}}) = 99^{\frac{1}{5} + \frac{2}{3}} = 99^{\frac{13}{15}}$$

.112

$$\begin{aligned} \sqrt{12} + \sqrt{108} &= \sqrt{4 \times 3} + \sqrt{36 \times 3} = 2\sqrt{3} + 6\sqrt{3} = 8\sqrt{3} = \sqrt{64 \times 3} = \sqrt{192} \\ \Rightarrow \sqrt{N} &= \sqrt{192} \Rightarrow N = 192 \end{aligned}$$

.113

$$\begin{aligned} (\sqrt[3]{2})^{15} (\sqrt{5})^6 &= (2^{\frac{1}{3}})^{15} (5^{\frac{1}{2}})^6 = (2^5)(5^3) \\ &= (2^5)(5^3) = (2^2)(2^3)(5^3) = (2^2) \times (10^3) = 4(1000) = 4000 \end{aligned}$$

.114

ابتدا 15/100 را به صورت کسری $\frac{15}{100}$ می نویسیم و آن را ساده می کنیم.

$$\frac{15}{100} = \frac{3}{20} \Rightarrow (2^{\frac{3}{20}})^b = 2^4 \Rightarrow \frac{3}{20} \times b = 4 \Rightarrow b = 4 \times \frac{20}{3} = \frac{80}{3}$$

.115

$$\begin{aligned} \frac{4+2\sqrt{5}}{7+3\sqrt{5}} &= \frac{4+2\sqrt{5}}{7+3\sqrt{5}} \times \frac{7-3\sqrt{5}}{7-3\sqrt{5}} = \frac{(4+2\sqrt{5})(7-3\sqrt{5})}{7^2 - (3\sqrt{5})^2} \\ &= \frac{28 - 12\sqrt{5} + 14\sqrt{5} - 30}{49 - 45} = \frac{2\sqrt{5} - 2}{4} = \frac{\sqrt{5} - 1}{2} \end{aligned}$$

.116

$$\begin{aligned} (25\sqrt{5})^x &= (\sqrt[3]{5})^{x+1} \\ (\Delta^2 \Delta^2)^x &= (\Delta^3)^{x+1} \\ (\Delta^2)^x &= (\Delta^3)^{x+1} \Rightarrow \frac{\Delta}{2} x = \frac{1}{3} (x+1) \\ \Rightarrow \frac{\Delta}{2} x &= \frac{1}{3} x + \frac{1}{3} \Rightarrow (\frac{\Delta}{2} - \frac{1}{3}) x = \frac{1}{3} \\ \Rightarrow x &= \frac{2}{13} \end{aligned}$$

.117

توجه کنید:

می‌دانیم دو جمله‌ای‌های $A+B$ و $A-B$ را مزدوج می‌گویند، همچنین دو جمله‌ای‌هایی مانند « $a-\sqrt{b}$, $a+\sqrt{b}$ » و « $\sqrt{a}-\sqrt{b}$, $\sqrt{a}+\sqrt{b}$ » را مزدوج گوئیم.

$$\text{الف) } \frac{\sqrt{5}}{\sqrt{3}+\sqrt{2}} = \frac{\sqrt{5}}{\sqrt{3}+\sqrt{2}} \times \frac{\sqrt{3}-\sqrt{2}}{\sqrt{3}-\sqrt{2}} = \frac{\sqrt{5}(\sqrt{3}-\sqrt{2})}{(\sqrt{3})^2 - (\sqrt{2})^2} = \frac{\sqrt{15}-\sqrt{10}}{3-2} = \sqrt{15}-\sqrt{10}$$

$$\text{ب) } \frac{\sqrt{5}-\sqrt{3}}{\sqrt[4]{5}+\sqrt[4]{3}} = \frac{\sqrt{5}-\sqrt{3}}{\sqrt[4]{5}+\sqrt[4]{3}} \times \frac{\sqrt[4]{5}-\sqrt[4]{3}}{\sqrt[4]{5}-\sqrt[4]{3}} = \frac{(\sqrt{5}-\sqrt{3})(\sqrt[4]{5}-\sqrt[4]{3})}{(\sqrt[4]{5})^2 - (\sqrt[4]{3})^2} = \frac{(\sqrt{5}-\sqrt{3})(\sqrt[4]{5}-\sqrt[4]{3})}{\sqrt{5}-\sqrt{3}} = \sqrt[4]{5}-\sqrt[4]{3}$$

$$\text{ج) } \frac{7\sqrt{5}-4}{7\sqrt{5}+4} = \frac{7\sqrt{5}-4}{7\sqrt{5}+4} \times \frac{7\sqrt{5}-4}{7\sqrt{5}-4} = \frac{(7\sqrt{5}-4)^2}{(7\sqrt{5})^2 - (4)^2} = \frac{(7\sqrt{5}-4)^2}{245-16} = \frac{(7\sqrt{5}-4)^2}{229}$$

همان‌طور که در شکل مشاهده می‌کنید، طول ضلع مربع‌ها، تشکیل یک دنباله هندسی می‌دهند، که قدر نسبت آن $r = \sqrt{2}$ است.

$$\sqrt{2}, 2, 2\sqrt{2}, 4, \dots$$

طول ضلع مربع t_n ، همان t_n است.

$$t_{18} = t_1 r^{17} = \sqrt{2} \times (\sqrt{2})^{17} = (\sqrt{2})^{18} = (2^{\frac{1}{2}})^{18} = 2^9 = 512$$

جمعیت افراد این شهر، تشکیل یک دنباله هندسی با قدر نسبت $r = 1/0.3$ می‌دهد.

$$t_3 = 250000 \times (1/0.3)^2 = 250000 \times 1/0.09 = 2652225$$

$$(3+\sqrt{3})^3 + (3-\sqrt{3})^3 = (27+27\sqrt{3}+27+3\sqrt{3}) + (27-27\sqrt{3}+27-3\sqrt{3}) = 4 \times 27 = 108$$

$$(3-2\sqrt{2})^3 (\sqrt{2}+1)^6 = (3-2\sqrt{2})^3 [(\sqrt{2}+1)^2]^3 = (3-2\sqrt{2})^3 (3+2\sqrt{2})^3 = (9-8)^3 = 1$$

۱۲۴

$$\begin{aligned} \frac{x^r}{x^r+1} &= \frac{1}{r} \Rightarrow \frac{x^r+1}{x^r} = r \Rightarrow x^r + \frac{1}{x^r} = r \\ \Rightarrow (x^r) + \left(\frac{1}{x}\right)^r + r(x)\left(\frac{1}{x}\right) - r(x)\left(\frac{1}{x}\right) &= r \Rightarrow (x + \frac{1}{x})^r - r = r \\ \Rightarrow (x + \frac{1}{x})^r &= \Delta \Rightarrow x + \frac{1}{x} = \sqrt{\Delta} \\ A = x^r + \frac{1}{x^r} &= (x + \frac{1}{x})(x^r - 1 + \frac{1}{x^r}) = (x + \frac{1}{x})(x^r + \frac{1}{x^r} - 1) = (\sqrt{\Delta})(r - 1) = r\sqrt{\Delta} \end{aligned}$$

۱۲۵

داریم:

$$\begin{aligned} x^r - 2x + r &= 0 \Rightarrow x^r + r = 2x \Rightarrow x + \frac{r}{x} = 2 \\ x^r + \frac{9}{x^r} + 2x \times \frac{r}{x} &= 4 \Rightarrow x^r + \frac{9}{x^r} + 6 = 4 \Rightarrow x^r + \frac{9}{x^r} = -2 \\ x^r + \frac{r^2}{x^r} &= (x + \frac{r}{x})(x^r + \frac{9}{x^r} - r) = (r)(-2 - r) = -1. \end{aligned}$$

۱۲۶

الف) $x^r + 7x + 12 = (x + 3)(x + 4)$

ب) $(x - y)^r - (x - y) - r = [(x - y) - 6][(x - y) + 5]$

پ) $x^r - 5x^r + 4 = (x^r - 1)(x^r - 4) = (x - 1)(x + 1)(x - 2)(x + 2)$

ت) $a^r - 7a^r - 8 = (a^r - 8)(a^r + 1) = (a - 2)(a^r + 2a + 4)(a + 1)(a^r - a + 1)$

ث) $9x^r - 12xy + 4y^r - 9 = (3x - 2y)^r - 9 = (3x - 2y - 3)(3x - 2y + 3)$

ج) $\lambda ax - bx + \lambda ay - by = x(\lambda a - b) + y(\lambda a - b) = (\lambda a - b)(x + y)$

چ) $x^\Delta + x^r + x^r + x^r + x + 1 = x^r(x^r + x + 1) + (x^r + x + 1) = (x^r + x + 1)(x^r + 1)$

هـ) $y^\Delta + y + 1 = y^\Delta + y^r - y^r + y^r - y^r + y^r - y^r + y^r - y^r + y + 1$
 $= y^\Delta + y^r + y^r - y^r - y^r - y^r + y^r + y + 1$
 $= y^r(y^r + y + 1) - y^r(y^r + y + 1) + (y^r + y + 1) = (y^r + y + 1)(y^r - y^r + 1)$

و) $a(a + 1)(a + 2)(a + 3) + 1 = a(a + 3)(a + 1)(a + 2) + 1$
 $= (a^r + 3a)(a^r + 3a + 2) + 1$

حال اگر $a^r + 3a = A$ قرار دهیم، داریم:

$$= A(A + 2) + 1 = A^r + 2A + 1 = (A + 1)^r = (a^r + 3a + 1)^r$$

.۱۲۷

$$\begin{aligned} \frac{1}{a} + \frac{1}{b} + \frac{1}{c} = 0 &\Rightarrow \frac{bc+ac+ba}{abc} = 0 \Rightarrow ab+ac+bc=0 \\ a+b+c=1 &\Rightarrow a^r+b^r+c^r+rab+rac+rbc=1 \\ \Rightarrow a^r+b^r+c^r+r(ab+ac+bc) &= 1 \\ \Rightarrow a^r+b^r+c^r &= 1 \end{aligned}$$

.۱۲۸

$$\begin{aligned} a+b+c=0 &\Rightarrow a^r+b^r+c^r+r(ab+ac+bc)=0 \Rightarrow \\ 1+r(ab+ac+bc) &= 0 \Rightarrow ab+ac+bc = -\frac{1}{r} \Rightarrow (ab+ac+bc)^r = \frac{1}{r^r} \\ \Rightarrow a^r b^r + a^r c^r + b^r c^r + r a^r b^r c + r a^r b^r c + r a^r b^r c &= \frac{1}{r^r} \\ \Rightarrow a^r b^r + a^r c^r + b^r c^r + r abc(a+b+c) &= \frac{1}{r^r} \Rightarrow \\ a^r b^r + a^r c^r + b^r c^r + 0 &= \frac{1}{r^r} \Rightarrow a^r b^r + a^r c^r + b^r c^r = \frac{1}{r^r} \\ a^r + b^r + c^r = 1 &\Rightarrow a^r + b^r + c^r + r(a^r b^r + a^r c^r + b^r c^r) = 1 \\ \Rightarrow a^r + b^r + c^r + r \times \frac{1}{r^r} &= 1 \Rightarrow a^r + b^r + c^r = \frac{1}{r} \end{aligned}$$

.۱۲۹

$$\begin{aligned} \frac{x^r+4}{x^r-4x+3} + \frac{3}{x^r-x-6} &= \frac{x^r+4}{(x-3)(x-1)} + \frac{3}{(x+2)(x-3)} \\ &= \frac{(x^r+4)(x+2)+3(x-1)}{(x-1)(x+2)(x-3)} = \frac{x^r+2x^r+4x+8+3x-3}{(x-1)(x+2)(x-3)} \\ &= \frac{x^r+2x^r+7x+5}{(x-1)(x+2)(x-3)} \end{aligned}$$

.۱۳۰

(الف)

$$\left(\frac{x^r-3yx+2y^r}{x^r-y^r} + \frac{x^r-4yx+3y^r}{x-3y} \right) \div \frac{y^r-x^r-x+2y}{x+y}$$

ابتدا داخل پرانتز را ساده می‌کنیم.

$$\frac{(x-y)(x-2y)}{(x-y)(x+y)} + \frac{(x-y)(x-3y)}{x-3y} = \frac{x-2y}{x+y} + x-y = \frac{x-2y+x^r-y^r}{x+y}$$

حال صورت سؤال را به شکل زیر می‌نویسیم:

$$\frac{x-2y+x^2-y^2}{x+y} \times \frac{x+y}{y^2-x^2-x+2y} = -1$$

(ب)

ابتدا مخرج سه عبارت گویا را یکسان می‌کنیم و بعد حاصل را به دست می‌آوریم:

$$\frac{1}{(x-y)(y-z)} + \frac{1}{(y-z)(z-x)} + \frac{1}{(z-x)(x-y)} = \frac{(z-x)+(x-y)+(y-z)}{(x-y)(y-z)(z-x)} = 0$$

۱۳۱

$$\text{الف) } \frac{19}{\sqrt[3]{100} + \sqrt[3]{3^2}} = \frac{19}{\sqrt[3]{100} + \sqrt[3]{3^2}} \times \frac{\sqrt[3]{1000} - \sqrt[3]{90} + \sqrt[3]{81}}{\sqrt[3]{1000} - \sqrt[3]{90} + \sqrt[3]{81}} = \frac{19(\sqrt[3]{1000} - \sqrt[3]{90} + \sqrt[3]{81})}{10 + 3^2}$$

$$= \sqrt[3]{1000} - \sqrt[3]{90} + \sqrt[3]{81}$$

$$\text{ب) } \frac{3}{\sqrt[3]{16} + \sqrt[3]{4} + 1} = \frac{3}{\sqrt[3]{16} + \sqrt[3]{4} + 1} \times \frac{\sqrt[3]{4} - 1}{\sqrt[3]{4} - 1} = \frac{3(\sqrt[3]{4} - 1)}{4 - 1} = \sqrt[3]{4} - 1$$

۱۳۲

الف) در طول درس نشان دادیم که معادله‌ی $ax^2 = 0$, $a \neq 0$, دارای جواب $x = 0$ است.

$$\sqrt{2}x^2 = 0 \Rightarrow x = 0$$

$$\text{ب) } -\frac{1}{5}x^2 = 0 \Rightarrow x = 0$$

$$\text{پ) } (\sqrt{3} - 2)x^2 = 0 \Rightarrow x = 0$$

$$\text{ث) } 2x^2 + 5x = 0 \Rightarrow x(2x + 5) = 0 \Rightarrow x = 0 \text{ یا } 2x + 5 = 0$$

$$\Rightarrow x = 0 \text{ یا } x = -\frac{5}{2}$$

$$\text{ت) } -7x^2 + 3x = 0 \Rightarrow x(-7x + 3) = 0 \Rightarrow x = 0 \text{ یا } -7x + 3 = 0$$

$$\Rightarrow x = 0 \text{ یا } x = \frac{3}{7}$$

$$\text{ج) } x^2 - 49 = 0 \Rightarrow x^2 = 49 \Rightarrow |x| = 7 \Rightarrow x = \pm 7$$

$$د) x^2 - x - 2 = 0 \Rightarrow (x-2)(x+1) = 0 \Rightarrow x = 2 \text{ يا } x = -1$$

$$و) x^2 + 3x + 2 = 0 \Rightarrow (x+2)(x+1) = 0 \Rightarrow x = -2 \text{ يا } x = -1$$

$$هـ) (x+1)^2 - 3(x+1) = 0 \Rightarrow (x+1)[(x+1)-3] = 0 \Rightarrow x+1 = 0 \text{ يا } (x+1)-3 = 0$$

$$\Rightarrow x = -1 \text{ يا } x = 2$$

$$ح) (2x-1)(x+3) = -3 \Rightarrow (2x-1)(x+3) + 3 = 0$$

$$\Rightarrow 2x^2 + 6x - x - 3 + 3 = 0 \Rightarrow 2x^2 + 5x = 0 \Rightarrow x(2x+5) = 0$$

$$\Rightarrow x = 0 \text{ يا } x = -\frac{5}{2}$$

.١٣٣

$$\text{الف) } x^2 + (a+1)x + a = 0$$

$$\Rightarrow x^2 + ax + x + a = 0$$

$$\Rightarrow x^2 + x + ax + a = 0 \Rightarrow x(x+1) + a(x+1) = 0$$

$$\Rightarrow (x+1)(x+a) = 0 \Rightarrow x+1 = 0 \text{ يا } x+a = 0$$

$$\Rightarrow x = -1 \text{ يا } x = -a$$

$$\text{ب) } 2ax^2 + (\Delta b - 2a)x - \Delta b = 0$$

$$2ax^2 + \Delta bx - 2ax - \Delta b = 0$$

$$x(2ax + \Delta b) - (2ax + \Delta b) = 0$$

$$\Rightarrow (2ax + \Delta b)(x-1) = 0 \Rightarrow x = 1 \text{ يا } x = -\frac{\Delta b}{2a}$$

$$\text{ج) } (x+2)^2 - 2(x+1)(x-3) + (x-3)^2 = 0$$

$$\Rightarrow x^2 + 4x + 4 - 2(x^2 - 2x - 3) + (x^2 - 6x + 9) = 0$$

$$\Rightarrow x^2 + 4x + 4 - 2x^2 + 4x + 6 + x^2 - 6x + 9 = 0$$

$$2x + 19 = 0 \Rightarrow x = -\frac{19}{2}$$

$$\text{الف) } x^2 - 4x - 1 = 0$$

$$x^2 - 4x = 1 \Rightarrow x^2 - 4x + 4 = 1 + 4 \Rightarrow (x - 2)^2 = 5$$

$$\Rightarrow |x - 2| = \sqrt{5} \Rightarrow x - 2 = \pm\sqrt{5} \Rightarrow x_1 = \sqrt{5} + 2, \quad x_2 = -\sqrt{5} + 2$$

$$\text{ب) } x^2 - 6x - 13 = 0 \Rightarrow x^2 - 6x = 13 \Rightarrow x^2 - 6x + 9 = 13 + 9 \Rightarrow (x - 3)^2 = 22 \Rightarrow$$

$$|x - 3| = \sqrt{22} \Rightarrow x - 3 = \pm\sqrt{22}$$

$$x_1 = \sqrt{22} + 3, \quad x_2 = -\sqrt{22} + 3$$

$$\text{ج) } \frac{1}{2}x^2 - 3x + \frac{1}{2} = 0 \xrightarrow{\times 2} x^2 - 6x + 1 = 0 \Rightarrow x^2 - 6x = -1$$

$$\Rightarrow x^2 - 6x + 9 = -1 + 9 \Rightarrow (x - 3)^2 = 8 \Rightarrow |x - 3| = \sqrt{8}$$

$$\Rightarrow x - 3 = \pm 2\sqrt{2} \Rightarrow x_1 = 2\sqrt{2} + 3, \quad x_2 = -2\sqrt{2} + 3$$

$$\text{د) } 2x^2 + 7x + 11 = 0 \xrightarrow{\times \frac{1}{2}} x^2 + \frac{7}{2}x + \frac{11}{2} = 0 \Rightarrow x^2 + \frac{7}{2}x = -\frac{11}{2}$$

$$x^2 + \frac{7}{2}x + \left(\frac{7}{4}\right)^2 = -\frac{11}{2} + \left(\frac{7}{4}\right)^2 \Rightarrow \left(x + \frac{7}{4}\right)^2 = \frac{27}{4} = -\frac{39}{16}$$

معادله دارای جواب نیست.

$$\text{الف) } a = 1 \quad b = -4 \quad c = 2$$

$$x = \frac{-b \pm \sqrt{b^2 - 4ac}}{2a} = \frac{4 \pm \sqrt{16 - 4(1)(2)}}{2} = \frac{4 \pm \sqrt{8}}{2} = \frac{4 \pm 2\sqrt{2}}{2} = 2 \pm \sqrt{2}$$

$$\Rightarrow x_1 = 2 + \sqrt{2}, \quad x_2 = 2 - \sqrt{2}$$

$$\text{ب) } a = 2 \quad b = 1 \quad c = -1$$

$$x = \frac{-b \pm \sqrt{b^2 - 4ac}}{2a} = \frac{-1 \pm \sqrt{1 - 4(2)(-1)}}{4} = \frac{-1 \pm \sqrt{9}}{4} = \frac{-1 \pm 3}{4}$$

$$\Rightarrow x_1 = -1, x_2 = \frac{1}{2}$$

$$\text{ج) } (2x-3)^2 = 11x-19 \Rightarrow 4x^2 - 12x + 9 = 11x - 19$$

$$\Rightarrow 4x^2 - 23x + 28 = 0$$

$$a = 4, b = -23, c = 28$$

$$x = \frac{-b \pm \sqrt{b^2 - 4ac}}{2a} = \frac{23 \pm \sqrt{(23)^2 - 4(4)(28)}}{8} = \frac{23 \pm \sqrt{81}}{8} = \frac{23 \pm 9}{8}$$

$$x_1 = 4, x_2 = \frac{7}{4}$$

$$\text{د) } \frac{x^2-1}{2} = 11(x+1) \Rightarrow x^2 - 1 = 22(x+1) \Rightarrow x^2 - 1 = 22x + 22$$

$$\Rightarrow x^2 - 22x - 23 = 0$$

$$a = 1, b = -22, c = -23$$

$$x = \frac{22 \pm \sqrt{(-22)^2 - 4(1)(-23)}}{2} = \frac{22 \pm \sqrt{576}}{2} = \frac{22 \pm 24}{2}$$

$$x_1 = -1, x_2 = 23$$

۱۳۶

الف) برای این که معادله درجه‌ی دو دارای دو ریشه متمایز باشد باید $\Delta > 0$ شود.

$$a = a, b = 3, c = 10$$

$$\Delta = b^2 - 4ac = 9 - 4(a)(10) > 0$$

$$\Rightarrow 9 - 40a > 0 \Rightarrow 9 > 40a \Rightarrow a < \frac{9}{40}$$

ب) برای این که معادله درجه‌ی دو یک ریشه داشته باشد، باید $\Delta = 0$

$$\Delta = b^2 - 4ac = 9 - 40a = 0 \Rightarrow a = \frac{9}{40}$$

ج) برای این که معادله‌ی درجه‌ی دو ریشه‌ی حقیقی داشته باشد، باید $\Delta < 0$

$$\Delta = 9 - 4 \cdot a < 0 \Rightarrow 9 < 4 \cdot a \Rightarrow a > \frac{9}{4}$$

۱۳۷

اگر X و Y را به ترتیب برابر با سن علی و سن پدر علی بگیریم، داریم:

$$y = 8x, (y+1) = (x+1)^2$$

$$\Rightarrow (8x+1) = (x+1)^2 \Rightarrow 8x+1 = x^2 + 2x+1 \Rightarrow x^2 - 6x = 0$$

$$x = 0, x = 6$$

$x = 0$ غیر قابل قبول است. بنابراین علی ۷ سال سن دارد و پدر او $8 \times 7 = 42$ سال سن دارد. یعنی پدر علی ۴۲ ساله است.

۱۳۸

می‌دانیم حاصل جمع ریشه‌های معادله‌ی درجه‌ی دو $ax^2 + bx + c = 0$ در صورت وجود برابر با $-\frac{b}{a}$ است.

الف) $b = -11, a = 10$

$$x_1 + x_2 = -\frac{-11}{10} = \frac{11}{10}$$

ب) $x + 7 = (2x-1)(3x-2) \Rightarrow x + 7 = 6x^2 - 4x - 3x + 2$

$$\Rightarrow x + 7 = 6x^2 - 7x + 2 \Rightarrow 6x^2 - 8x - 5 = 0$$

$$x_1 + x_2 = -\frac{-8}{6} = \frac{4}{3}$$

ج) $x^2 = \sqrt{2}(3x - \sqrt{2}x) \Rightarrow x^2 = 3\sqrt{2}x - 2x \Rightarrow x^2 = (3\sqrt{2} - 2)x$

$$\Rightarrow x^2 - (3\sqrt{2} - 2)x = 0$$

$$x_1 + x_2 = \frac{3\sqrt{2} - 2}{1} = 3\sqrt{2} - 2$$

۱۳۹

$$x_1 + x_2 = -\frac{b}{a} = -\frac{\gamma k}{\delta k + 2} = 3 \Rightarrow -\gamma k = 15k + 6 \Rightarrow -22k = 6 \Rightarrow k = -\frac{3}{11}$$

$$x_1 x_2 = \frac{c}{a} = \frac{-8k}{\Delta k + 2} = \frac{-8 \times (-\frac{3}{11})}{5(-\frac{3}{11}) + 2} = \frac{24}{7}$$

۱۴۰.

$$(x+6)^2 + (2x+1)^2 = 697$$

$$\Rightarrow x^2 + 12x + 36 + 4x^2 + 4x + 1 = 697$$

$$\Rightarrow 5x^2 + 16x + 37 = 697 \Rightarrow 5x^2 + 16x - 660 = 0$$

ریشه‌های این معادله را با استفاده از فرمول به دست می‌آوریم.

$$a = 5, b = 16, c = -660$$

$$x = \frac{-16 \pm \sqrt{(16)^2 - 4(5)(-660)}}{10} = \frac{-16 \pm \sqrt{13456}}{10} = \frac{-16 \pm 116}{10}$$

$$x_1 = -\frac{132}{10} \text{ و } x_2 = \frac{100}{10} = 10 \text{ و غیرقابل قبول است}$$

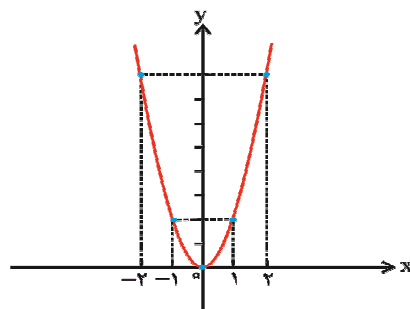
در نتیجه ضلع یکی از مربع‌ها ۱۶ و ضلع مربع دیگر ۲۱ است.

بنابراین مساحت مربع‌ها ۲۵۶ و ۴۴۱ است.

۱۴۱.

$$\text{الف) } y = 2x^2$$

x	$-\infty$	-۲	-۱	۰	۱	۲	$+\infty$
y	$+\infty$	۸	۲	۰	۲	۸	$+\infty$



ب) $y = -x^2 + x + 1$

$a = -1 < 0$ ، سهمی دارای بیشترین مقدار است و دهانه آن روبه پایین است.

$$h = -\frac{b}{2a} = -\frac{1}{2(-1)} = \frac{1}{2}$$

$$k = \frac{4ac - b^2}{4a} = \frac{4(-1)(1) - (1)^2}{4(-1)} = \frac{-4 - 1}{-4} = \frac{5}{4}$$

$V: (\frac{1}{2}, \frac{5}{4})$ مختصات رأس سهمی

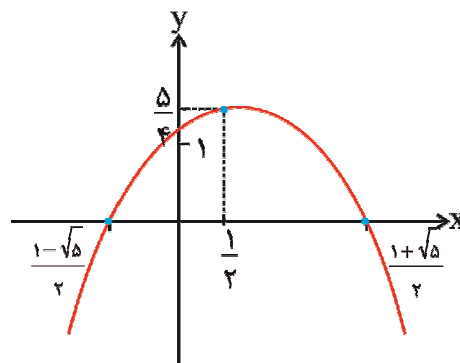
نقطه برخورد با محور y $(0, 1)$ $x = 0 \Rightarrow y = 1$

$$y = 0 \Rightarrow -x^2 + x + 1 = 0$$

$$\Delta = b^2 - 4ac = 1 - 4(-1)(1) = 1 + 4 = 5$$

$$x = \frac{-b \pm \sqrt{\Delta}}{2a} = \frac{-1 \pm \sqrt{5}}{-2} \Rightarrow x_1 = \frac{1 + \sqrt{5}}{2}, x_2 = \frac{1 - \sqrt{5}}{2}$$

نقطه‌های برخورد با محور x $(\frac{1 + \sqrt{5}}{2}, 0), (\frac{1 - \sqrt{5}}{2}, 0)$



ج) $y = 3(x+1)(x-4)$

$y = 3(x^2 - 3x - 4) = 3x^2 - 9x - 12$ دهانه سهمی به سمت بالا است. $a = 3 > 0$

$$h = -\frac{b}{2a} = -\frac{-9}{2(3)} = \frac{3}{2}$$

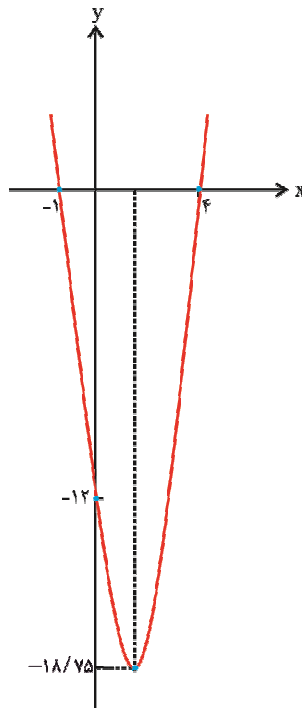
$$k = \frac{4ac - b^2}{4a} = \frac{4(3)(-12) - (-9)^2}{4(3)} = -\frac{225}{12} = -18.75$$

رأس سهمی $V: (\frac{3}{2}, -\frac{225}{12})$

نقطه برخورد با محور y $(0, -12)$ $x=0 \Rightarrow y=-12$

$y=0 \Rightarrow 3(x+1)(x-4) \Rightarrow x=-1, x=4$

نقاط برخورد با محور x $(-1, 0), (4, 0)$



$$د) y = -(x+3)^2 - 5$$

$$y = -(x^2 + 6x + 9) - 5 = -x^2 - 6x - 9 - 5 = -x^2 - 6x - 14$$

$a = -1 < 0$ ، دهانه سهمی به سمت پایین است.

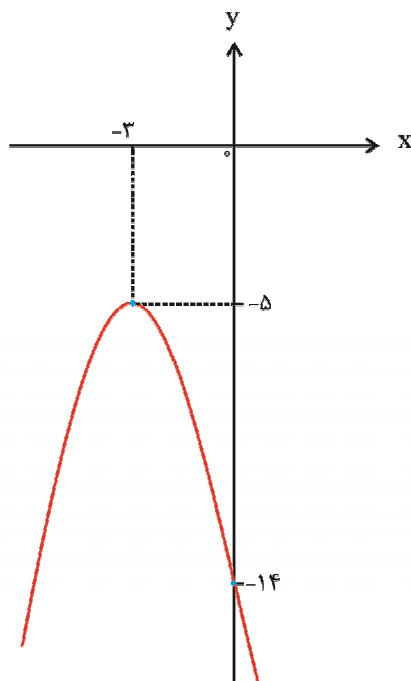
$$h = -\frac{b}{2a} = -\frac{-6}{2(-1)} = -3$$

$$K = \frac{4ac - b^2}{4a} = \frac{4(-1)(-14) - (-6)^2}{4(-1)} = \frac{20}{-4} = -5$$

مختصات رأس سهمی $(-3, -5)$

نقطه برخورد با محور y $(0, -14)$ $x=0 \Rightarrow y=-14$

نمودار با محور x برخورد نمی‌کند. $y=0 \Rightarrow \Delta = -20 < 0$



با استفاده از روش‌های انتقال سهمی نیز می‌توان نمودار را رسم کرد.

$$و) y = -2(x+4)^2$$

$$y = -2(x^2 + 8x + 16) = -2x^2 - 16x - 32$$

$a = -2 < 0$ ، دهانه سهمی به سمت پایین است.

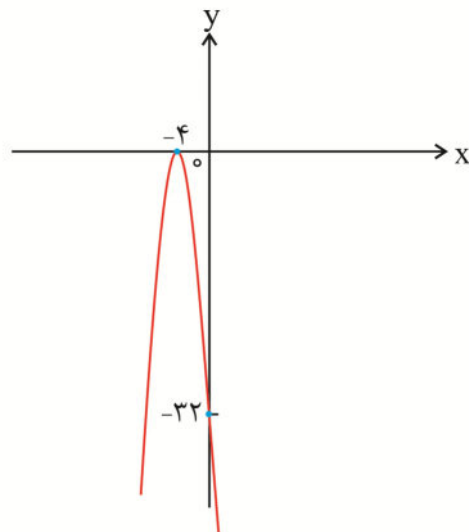
$$h = -\frac{b}{2a} = -\frac{-16}{2(-2)} = -4$$

$$k = \frac{4ac - b^2}{4a} = \frac{4(-2)(-32) - (-16)^2}{4(-2)} = \frac{256 - 256}{-8} = 0$$

$V: (-4, 0)$ مختصات رأس سهمی

$x = 0 \Rightarrow y = -32$ نقطه برخورد محور y $(0, -32)$

$y = 0 \Rightarrow -2(x+4)^2 = 0 \Rightarrow x = -4$ نقطه مماس بر محور x $(-4, 0)$



.۱۴۲

$4x - 3 = 0$ خط تقارن سهمی $y = 2x^2 + (m+1)x - 4$ است.

$$4x - 3 = 0 \Rightarrow x = \frac{3}{4} \text{ خط تقارن}$$

$$h = \frac{3}{4} = \frac{-(m+1)}{4} \Rightarrow m+1 = -3 \Rightarrow m = -4 \Rightarrow b = -3$$

$a = 2 > 0$ است، بنابراین سهمی دارای کمترین مقدار است (مقدار y در مختصات رأس سهمی).

$$k = \frac{4ac - b^2}{4a} = \frac{4(2)(-4) - (-3)^2}{4(2)} = \frac{-32 - 9}{8} = -\frac{41}{8}$$

۱۴۳.

رأس سهمی روی محور y قرار دارد. یعنی معادله محور تقارن آن $x = 0$ است.

$$h = -\frac{b}{2a} = \frac{2(2k+5)}{-6} = 0 \Rightarrow 2(2k+5) = 0 \Rightarrow k = -\frac{5}{2}$$

۱۴۴.

سهمی از نقطه $(2, 9)$ می‌گذرد، یعنی این نقطه در معادله سهمی صدق می‌کند.

$$y = mx^2 - (m+1)x + 2m - 1$$

$$9 = m(4) - (m+1) \times 2 + 2m - 1 \Rightarrow 9 = 4m - 2m - 2 + 2m - 1 \Rightarrow m = 3$$

۱۴۵.

الف) سه نقطه $(0, 0)$ ، $(6, 1)$ و $(5, 0)$ از این سهمی را داریم.

می‌توانیم از فرمول $y = ax^2 + bx + c$ استفاده کنیم.

$$(0, 0): 0 = c$$

$$(6, 1): 1 = a + b + c \Rightarrow a + b = 1 \quad (1) \Rightarrow a = \frac{-3}{2}, b = \frac{15}{2}$$

$$(5, 0): 0 = 25a + 5b + c \Rightarrow 5a + b = 0 \quad (2)$$

بنابراین معادله سهمی به صورت $y = -\frac{3}{2}x^2 + \frac{15}{2}x$ است.

ب) همان‌طور که در شکل مشاهده می‌کنید $(3, 0)$ و $(-3, 0)$ ریشه‌های سهمی هستند. می‌توانیم از فرمول $y = a(x - x_1)(x - x_2)$ استفاده کنیم. داریم:

$$y = a(x - 3)(x + 3)$$

نقطه $(0, 3)$ روی سهمی قرار دارد. یعنی در معادله بالا صدق می‌کند. داریم:

$$3 = -9a \Rightarrow a = -\frac{1}{3}$$

بنابراین معادله سهمی به صورت $y = -\frac{1}{3}(x - 3)(x + 3)$ است.

ج) با توجه به شکل، مختصات رأس سهمی $(-3, 0)$ است و سهمی از نقطه $(0, 3)$ می‌گذرد. می‌توانیم از فرمول $y = a(x - h)^2 + k$ استفاده کنیم.

$$y = a(x + 3)^2$$

با قرار دادن $(0, 3)$ در معادله سهمی داریم:

$$3 = 9a \Rightarrow a = \frac{1}{3}$$

در نتیجه $y = \frac{1}{3}(x + 3)^2$ معادله سهمی است.

الف) برای رسم نمودار معادله $y = |x^2 - 3x + 2|$ ، ابتدا نمودار مربوط به معادله $y = x^2 - 3x + 2$ را رسم می‌کنیم. سپس آن قسمت از نمودار که زیر محور X ها است (منفی است) را نسبت به محور X قرینه می‌کنیم. در نتیجه دهانه نمودار رو به بالا است. $a = 1 > 0$

$$h = \frac{-b}{2a} = \frac{3}{2(1)} = \frac{3}{2}$$

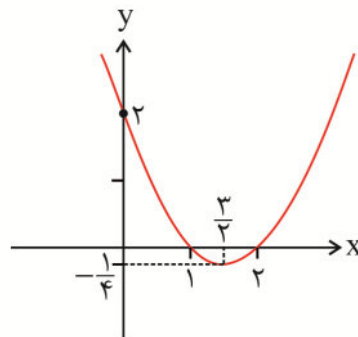
$$k = \frac{4ac - b^2}{4a} = \frac{4(1)(2) - (-3)^2}{4(1)} = -\frac{1}{4}$$

$$V: \left(\frac{3}{2}, -\frac{1}{4}\right) \text{ رأس سهمی}$$

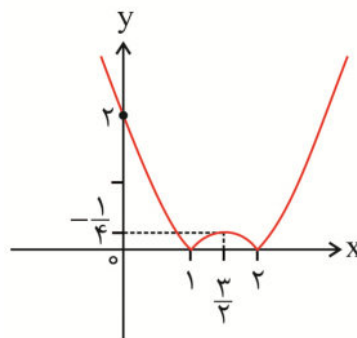
$$x = 0 \Rightarrow y = 2 \quad \text{نقطه برخورد با محور } y \text{ (} 0, 2 \text{)}$$

$$y = 0 \Rightarrow x^2 - 3x + 2 = 0 \Rightarrow (x-2)(x-1) = 0 \Rightarrow x = 2, x = 1$$

$$\text{نقطه‌های برخورد با محور } x \text{ (} 2, 0 \text{), (} 1, 0 \text{)}$$



حال مقدار منفی نمودار (قسمت زیر محور X) را نسبت به محور X قرینه می‌کنیم.



ب) $y = -x^2 + 2|x| + 3$

دو حالت زیر را در نظر می‌گیریم.

$x \geq 0$ (۱)

$x \geq 0, |x| = x \Rightarrow y = -x^2 + 2x + 3$

$a = -1 < 0$ ، دهانه سهمی به سمت پایین است.

$h = -\frac{b}{2a} = -\frac{2}{2(-1)} = 1$

$k = \frac{4ac - b^2}{4a} = \frac{4(-1)(3) - (2)^2}{4(-1)} = 4$

$V: (1, 4)$ مختصات رأس سهمی

نقطه برخورد با محور y $(0, 3)$ $x = 0 \Rightarrow y = 3$

$y = 0 \Rightarrow -x^2 + 2x + 3 = 0 \Rightarrow (x - 3)(x + 1) = 0 \Rightarrow x = 3, x = -1$

نقطه‌های برخورد با محور x $(3, 0), (-1, 0)$

$x < 0$ (۲)

$x < 0 \Rightarrow |x| = -x \Rightarrow y = -x^2 - 2x + 3$

$a = -1 < 0$ ، دهانه سهمی به سمت پایین است.

$h = -\frac{-2}{2(-1)} = -1$

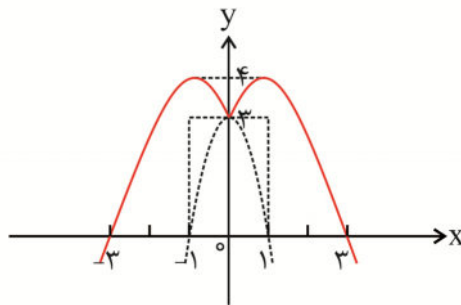
$k = \frac{4ac - b^2}{4a} = \frac{4(-1)(3) - (-2)^2}{4(-1)} = 4$

$V: (-1, 4)$ مختصات رأس سهمی

نقطه برخورد با محور y $(0, 3)$ $x = 0 \Rightarrow y = 3$

$y = 0 \Rightarrow -x^2 - 2x + 3 = 0 \Rightarrow x = -3, x = 1$

نقطه‌های برخورد با محور x $(-3, 0), (1, 0)$



ج) $y = x|x + 2|$

برای رسم این نمودار دو حالت زیر را در نظر می‌گیریم:

$$x+2 \geq 0 \quad (1)$$

$$x+2 \geq 0 \Rightarrow x \geq -2, \quad |x+2| = x+2 : \quad y = x^2 + 2x$$

$a=1 > 0$ ، دهانه سهمی به سمت بالا است.

$$h = -\frac{b}{2a} = -\frac{2}{2(1)} = -1$$

$$k = \frac{4ac - b^2}{4a} = \frac{4(1)(0) - (2)^2}{4(1)} = -1$$

$V: (-1, -1)$ مختصات رأس سهمی

$x=0 \Rightarrow y=0$ $(0, 0)$ نقطه برخورد با محور y

$$y=0 \Rightarrow x^2 + 2x = 0 \Rightarrow x = -2, x = 0$$

$(-2, 0), (0, 0)$ نقطه‌های برخورد با محور x

$$x+2 < 0 \quad (2)$$

$$x+2 < 0 \Rightarrow x < -2 \Rightarrow |x+2| = -(x+2)$$

$$y = -x^2 - 2x$$

$a = -1 < 0$ دهانه سهمی به سمت پایین است.

$$h = \frac{2}{2(-1)} = -1$$

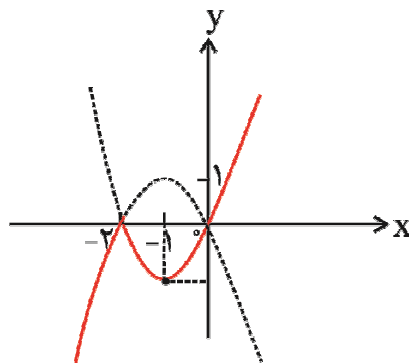
$$k = \frac{4ac - b^2}{4a} = \frac{4(-1)(0) - (-2)^2}{4(-1)} = 1$$

$V: (-1, 1)$ مختصات رأس سهمی

$x=0 \Rightarrow y=0$ $(0, 0)$ نقطه‌های برخورد با محور y

$$y=0 \Rightarrow -x^2 - 2x = 0 \Rightarrow x = -2, x = 0$$

$(-2, 0), (0, 0)$ نقطه‌های برخورد با محور x



۱۴۷. می‌دانیم برای به‌دست آوردن مساحت مستطیل باید طول و عرض آن را داشته باشیم. در این سهمی اگر مختصات رأس و نقطه برخورد با محور x و y را داشته باشیم، می‌توانیم طول و عرض مستطیل را به‌دست آوریم:

$$y = x^2 - 6x + 5$$

$$h = -\frac{b}{2a} = -\frac{-6}{2} = 3$$

$$k = \frac{4ac - b^2}{4a} = \frac{4(1)(5) - (-6)^2}{4(1)} = \frac{20 - 36}{4} = -4$$

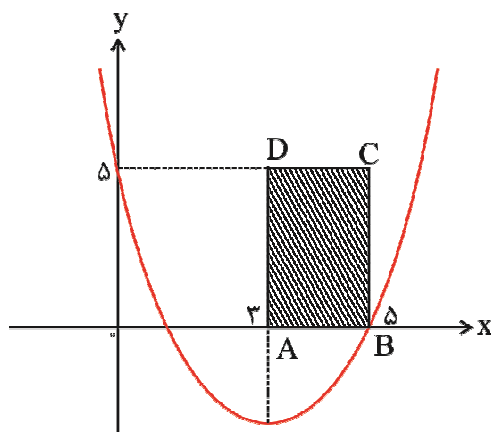
$V: (3, -4)$ مختصات رأس سهمی

نقطه برخورد با محور y $(0, 5)$ $x = 0 \Rightarrow y = 5$

$$y = 0 \Rightarrow x^2 - 6x + 5 = 0 \Rightarrow (x - 5)(x - 1) = 0 \Rightarrow x = 5, x = 1$$

نقطه‌های برخورد با محور x $(1, 0)$ ، $(5, 0)$

داریم:



$$AB = 2, DC = 5 \Rightarrow S_{ABCD} = 2 \times 5 = 10$$

۱۴۸

$(\frac{-b}{2a}, \frac{-\Delta}{4a})$ مختصات رأس سهمی

$$\frac{-b}{2a} = 0 \Rightarrow b = 0$$

$$\frac{-\Delta}{4a} = \frac{4ac - b^2}{4a} = 30 \Rightarrow c = 30$$

$$y = ax^2 + 30 \Rightarrow 0 = 2500a + 30 \Rightarrow a = -\frac{2500}{30} = -\frac{250}{3} \Rightarrow y = -\frac{250}{3}x^2 + 30$$

$$\text{الف) } 3x - 2 = 0 \Rightarrow 3x = 2 \Rightarrow x = \frac{2}{3}$$

x	$x < \frac{2}{3}$	$\frac{2}{3}$	$x > \frac{2}{3}$
$3x - 2$	-		+

$$x \geq \frac{2}{3} \Rightarrow 3x - 2 \geq 0$$

$$x < \frac{2}{3} \Rightarrow 3x - 2 < 0$$

$$\text{ب) } x^2 - 5x + 4 = (x - 4)(x - 1) = 0 \Rightarrow x = 4, x = 1$$

x	$-\infty$	1	4	$+\infty$	
$x^2 - 5x + 4$	+		-		+

$$\text{ج) } 12x^2 + 4\sqrt{3}x + 1 = 0$$

$$\Delta = b^2 - 4ac = (4\sqrt{3})^2 - 4(12)(1) = 48 - 48 = 0$$

$$x = -\frac{b}{2a} = -\frac{4\sqrt{3}}{2 \times 12} = -\frac{\sqrt{3}}{6}$$

x	$-\infty$	$-\frac{\sqrt{3}}{6}$	$+\infty$
$12x^2 + 4\sqrt{3}x + 1$	+		+

$$\text{د) } -4x^2 + 10x - 25 = 0$$

$$\Delta = b^2 - 4ac = (10)^2 - 4(-4)(-25) = 100 - 400 = -300 < 0$$

معادله ریشه حقیقی ندارد.

x	$-\infty$	$+\infty$
$-4x^2 + 10x - 25$	-	-

$$\text{الف) } x^2 < 9x - 20 \Rightarrow x^2 - 9x + 20 < 0$$

$$x^2 - 9x + 20 = 0 \Rightarrow (x-4)(x-5) = 0 \Rightarrow x=4, x=5$$

x	-∞	4	5	+∞	
$x^2 - 9x + 20$	+	○	-	○	+

مجموعه جواب : $4 < x < 5$ یا $x \in (4, 5)$

$$\text{ب) } 4x - 7x^2 > 0$$

$$4x - 7x^2 = 0 \Rightarrow x(4-7x) = 0 \Rightarrow x=0 \text{ یا } 4-7x=0 \Rightarrow x=0, x=\frac{4}{7}$$

x	-∞	0	$\frac{4}{7}$	+∞	
$4x - 7x^2$	-	○	+	○	-

مجموعه جواب : $0 < x < \frac{4}{7}$ یا $x \in (0, \frac{4}{7})$

$$\text{ج) } (2x-1)^2 > (x-5)^2 \Rightarrow 4x^2 - 4x + 1 > x^2 - 10x + 25$$

$$\Rightarrow 3x^2 + 6x - 24 > 0$$

$$3x^2 + 6x - 24 = 0 \Rightarrow x^2 + 2x - 8 = 0 \Rightarrow (x+4)(x-2) = 0 \Rightarrow x=-4, x=2$$

x	-∞	-4	2	+∞	
$3x^2 + 6x - 24$	+	○	-	○	+

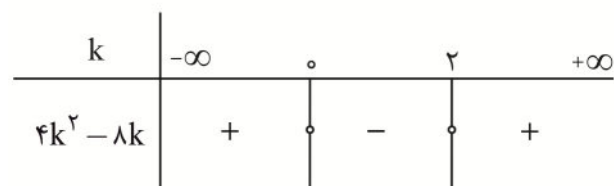
مجموعه جواب : $x < -4$ یا $x > 2$ یا $x \in (-\infty, -4) \cup (2, +\infty)$

الف) برای این که معادله ریشه حقیقی نداشته باشد، باید $\Delta < 0$ شود.

$$\Delta = b^2 - 4ac = (2(1-k))^2 - 4(1)(1) = 4 + 4k^2 - 4k - 4 = 4k^2 - 4k$$

$$\Delta < 0 \Rightarrow 4k^2 - 4k < 0$$

$$4k^2 - 4k = 0 \Rightarrow 4k(k-1) = 0 \Rightarrow k = 0, k = 1$$



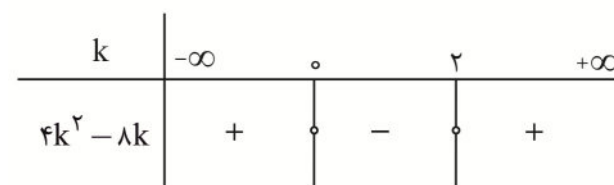
در نتیجه $0 < k < 1$.

ب) برای این که معادله ریشه مضاعف داشته باشد، باید $\Delta = 0$ شود.

$$\Delta = 4k^2 - 4k = 0 \Rightarrow k = 0, k = 1$$

ج) برای این که معادله ریشه مجزا داشته باشد، باید $\Delta > 0$ شود.

$$\Delta = 4k^2 - 4k > 0$$



$$k \in (-\infty, 0) \cup (1, +\infty)$$

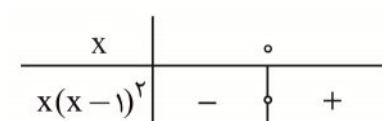
الف) $x(x-1)^2 \geq 0$

$$x = 0$$

$$(x-1)^2 = 0 \Rightarrow x = 1$$

دقت کنیم که $(x-1)^2$ همواره مقداری بزرگتر یا مساوی صفر است، بنابراین آن را تعیین علامت نمی‌کنیم.

چون $x(x-1)^2 \geq 0$ است، بنابراین $x = 1$ جزء مجموعه جواب می‌شود.



مجموعه جواب : $x \geq 0$ یا $x \in [0, +\infty)$

$$b) (2-x)(3x+1)(2x-3) > 0$$

$$(2-x)(3x+1)(2x-3) = 0 \Rightarrow x = 2, x = -\frac{1}{3}, x = \frac{3}{2}$$

x	$-\infty$	$-\frac{1}{3}$	$\frac{3}{2}$	2	$+\infty$		
$2-x$	+	+	+	○	-		
$3x+1$	-	○	+	+	+		
$2x-3$	-	-	○	+	+		
$(2-x)(3x+1)(2x-3)$	+	○	-	○	+	○	-

$$\text{مجموعه جواب : } x \in (-\infty, -\frac{1}{3}) \cup (\frac{3}{2}, 2)$$

$$c) (3x-2)(x-3)^2(x+1)^2(x+2)^4 < 0$$

عبارت‌های $(x+2)^4$ ، $(x+1)^2$ ، $(x-3)^2$ بزرگ‌تر یا مساوی صفر هستند، بنابراین فقط باید ریشه‌های آن‌ها را از مجموعه جواب

خارج کنیم.

x	$-\infty$	-2	-1	$\frac{2}{3}$	3	$+\infty$	
$3x-2$	-	-	-	○	+	+	
$(3x-2)(x-3)^2(x+1)^2(x+2)^4$	-	○	-	○	+	○	+

$$\text{مجموعه جواب : } (-\infty, -2) \cup (-2, -1) \cup (-1, \frac{2}{3})$$

$$د) \frac{(x-1)(3x-2)}{5-2x} \geq 0$$

$$x-1=0 \Rightarrow x=1$$

$$3x-2=0 \Rightarrow x=\frac{2}{3}$$

$$5-2x=0 \Rightarrow x=\frac{5}{2}$$

$x = \frac{5}{2}$ جزء مجموعه جواب نیست، زیرا مخرج را صفر می‌کند.

x	$-\infty$	$\frac{2}{3}$	1	$\frac{5}{2}$	$+\infty$
$x-1$	-	-	o	+	+
$3x-2$	-	o	+	+	+
$5-2x$	+	+	+	o	-
$\frac{(x-1)(3x-2)}{5-2x}$	+	o	-	o	تعریف نشده

مجموعه جواب : $(-\infty, \frac{2}{3}] \cup [1, \frac{5}{2})$

$$و) \left| \frac{x+2}{2x-3} \right| < 3$$

$$\Rightarrow -3 < \frac{x+2}{2x-3} < 3$$

در نتیجه داریم:

$$(1) -3 < \frac{x+2}{2x-3} \quad \text{و} \quad (2) \frac{x+2}{2x-3} < 3$$

مجموعه جواب نامعادلات (1) و (2) را به دست می‌آوریم و بین آن‌ها اشتراک می‌گیریم. (چرا؟)

$$\frac{x+2}{2x-3} > -3 \Rightarrow \frac{x+2}{2x-3} + 3 > 0 \Rightarrow \frac{x+2+6x-9}{2x-3} > 0$$

$$\Rightarrow \frac{7x-7}{2x-3} > 0$$

$$7x-7=0 \Rightarrow x=1$$

$$2x-3=0 \Rightarrow x=\frac{3}{2} \text{ مخرج کسر را صفر می‌کند.}$$

x	$-\infty$	1	$\frac{3}{2}$	$+\infty$
$7x-7$	-	○	+	+
$2x-3$	-	-	○	+
$\frac{7x-7}{2x-3}$	+	○	- تعریف نشده	+

(۱) مجموعه جواب $(-\infty, 1) \cup (\frac{3}{2}, +\infty)$

$$\frac{x+2}{2x-3} < 3 \Rightarrow \frac{x+2}{2x-3} - 3 < 0 \Rightarrow \frac{x+2-6x+9}{2x-3} < 0$$

$$\Rightarrow \frac{-5x+11}{2x-3} < 0$$

$$-5x+11=0 \Rightarrow x = \frac{11}{5}$$

مخرج کسر را صفر می‌کند. $2x-3=0 \Rightarrow x = \frac{3}{2}$

x	$-\infty$	$\frac{3}{2}$	$\frac{11}{5}$	$+\infty$
$-5x+11$	+	+	○	-
$2x-3$	-	○	+	+
$\frac{-5x+11}{2x-3}$	-	- تعریف نشده	+	○

(۲) مجموعه جواب $(-\infty, \frac{3}{2}) \cup (\frac{11}{5}, +\infty)$

حال بین دو مجموعه جواب به دست آمده اشتراک می‌گیریم.

مجموعه جواب $(-\infty, 1) \cup (\frac{11}{5}, +\infty)$

$$\sqrt[3]{\frac{3x-1}{x-1}} < \sqrt[3]{\frac{x-3}{3x-7}} \Rightarrow$$

$$\frac{3x-1}{3(x-1)} < \frac{3(x-3)}{3x-7} \Rightarrow$$

$$\frac{3x-1}{3(x-1)} < \frac{3(x-3)}{3x-7} \Rightarrow$$

$$\frac{3x-1}{3x-3} - \frac{3x-9}{3x-7} < 0 \Rightarrow$$

$$\frac{(3x-1)(3x-7) - (3x-9)(3x-3)}{(3x-3)(3x-7)} < 0.$$

$$\frac{12x-20}{(3x-3)(3x-7)} < 0.$$

$$12x-20=0 \Rightarrow x = \frac{5}{3}$$

$$3x-3=0 \Rightarrow x=1$$

$$3x-7=0 \Rightarrow x = \frac{7}{3}$$

x	$-\infty$	1	$\frac{5}{3}$	$\frac{7}{3}$	$+\infty$		
$12x-20$	-	-	○	+	+		
$(3x-3)(3x-7)$	+	○	-	-	○	+	
$\frac{12x-20}{(3x-3)(3x-7)}$	-	تعریف نشده	+	○	-	تعریف نشده	+

$$x \in (-\infty, -1) \cup \left(\frac{5}{3}, \frac{7}{3}\right)$$

حالت اول : $\begin{cases} x^2 - 3x + 2 \geq 0 & (1) \\ x^2 - 3x + 2 \leq 2x - x^2 & (2) \end{cases}$

$$x^2 - 3x + 2 \geq 0 \quad (1)$$

$$x^2 - 3x + 2 = 0 \Rightarrow x=1, x=2$$

$$x^2 - 3x + 2 \leq 2x - x^2 \Rightarrow 2x^2 - 5x + 2 \leq 0 \quad (2)$$

$$2x^2 - 5x + 2 = 0 \Rightarrow x = \frac{1}{2}, x=2$$

$$\text{حالت دوم} \begin{cases} x^2 - 3x + 2 < 0 & (1) \\ -(x^2 - 3x + 2) \leq 2x - x^2 & (2) \end{cases}$$

$$x^2 - 3x + 2 < 0 \quad (1)$$

$$x^2 - 3x + 2 = 0 \Rightarrow x = 1, x = 2$$

$$-(x^2 - 3x + 2) \leq 2x - x^2 \quad (2)$$

$$-x^2 + 3x - 2 \leq 2x - x^2$$

$$x - 2 \leq 0$$

$$x - 2 = 0 \Rightarrow x = 2$$

x	$-\infty$	$\frac{1}{2}$	1	2	$+\infty$	
(1)	+	+	o	-	o	+
(2)	+	o	-	-	o	+
دستگاه نامعادلات		o	o	o		
(1)	+	+	o	-	o	+
(2)	-	-	-	o	+	
دستگاه نامعادلات		o	o	o		

$$\in \left[\frac{1}{2}, 1\right] \cup (1, 2) \cup \{2\} \Rightarrow$$

$$\in \left[\frac{1}{2}, 2\right]$$

۱۵۵

دو زوج مرتب (a, b) و (c, d) را برابر گوئیم، هرگاه $b = d$ و $a = c$ باشد.

$$(2a - 3b, 4a - 1) = (5, 2)$$

$$\Rightarrow \begin{cases} 2a - 3b = 5 \\ 4a - 1 = 2 \end{cases} \Rightarrow a = \frac{3}{4}, b = -\frac{7}{6}$$

۱۵۶

$$(2m - 1, 4) = (5, m + 1)$$

$$m + 1 = 4 \Rightarrow m = 3$$

۱۵۷.

گزینه‌ی (الف) تابع است.

گزینه‌ی (ب) تابع است.

گزینه‌ی (ج) تابع نیست. روش اول: برای نقطه‌ی $X=1$ دو مقدار ۱ و -۱ وجود دارد.

$(1, 1), (1, -1)$

روش دوم: خط $X=1$ نمودار را در بیش از یک نقطه قطع می‌کند.

گزینه‌ی (د) تابع نیست.

خط $X=1$ و $X=2$ نمودار را در بیش از یک نقطه قطع می‌کنند.

۱۵۸.

برای این که این رابطه تابع باشد، باید زوج مرتب‌های $(-4, 3)$ و $(-1, a^2 - 1)$ برابر باشند. بنابراین:

$$a^2 - 1 = 3 \Rightarrow a^2 = 4 \Rightarrow a = \pm 2$$

(b هر عدد حقیقی می‌تواند باشد) $b \in \mathbb{R} \Rightarrow (-4, 3), (a - 6, 3) \Rightarrow a = 2$ اگر

اگر $a = -2 \Rightarrow (a - 6, 3) = (-8, 3) \Rightarrow (-8, 3) = (-8, b) \Rightarrow b = 3$

۱۵۹.

الف) اگر مستطیل را مؤلفه‌ی اول، محیط آن را مؤلفه‌ی دوم در نظر بگیریم، رابطه‌ی به وجود آمده تابع است ولی اگر محیط را مؤلفه‌ی اول و مستطیل را مؤلفه‌ی دوم در نظر بگیریم، رابطه تابع نیست، زیرا ممکن است مستطیل‌های متفاوت، محیط‌های یکسانی داشته باشند.

ب) گزینه‌ی تابع نیست، زیرا برای عدد ۳ دو مقدار متفاوت وجود دارد.

۱۶۰.

$\{(1, 1), (2, 2), (1, 2), (2, 1)\}$

رابطه‌ی مورد نظر تابع نیست.

۱۶۱.

الف) این رابطه تابع است، زیرا برای هر شخص تنها یک اثر انگشت وجود دارد.

ب) این رابطه تابع است، زیرا توان سوم هیچ دو عددی یکسان نیست.

ج) این رابطه تابع است، زیرا یک کشور تعداد همسایگان مشخصی دارد.

د) تابع نیست، زیرا درون یک صندوق پستی همیشه تعداد نامه‌های یکسان قرار ندارند.